

2020학년도 대학수학능력시험 문제 및 정답

- 매교시 종료 후 탑재됩니다.(중증시각장애 수험생 시험시간 기준)
- 모든 문제 및 정답은 PDF파일로 되어 있습니다.(단, 듣기 파일은 MP3파일)
- 탑재된 파일은 수험생에게 제공된 문제지와 다르게 보일 수도 있습니다.

저작권 안내

이 문제지에 관한 저작권은 [한국교육과정평가원](#)에 있습니다.
한국교육과정평가원의 허락없이 문제의 일부 또는 전부를 무단 복제, 배포, 출판,
전자출판 하는 등 저작권을 침해하는 일체의 행위를 금합니다.



제 4 교시

사회탐구 영역(생활과 윤리)

성명 [] 수험 번호 [] 제 [] 선택

1. 갑, 을의 입장으로 가장 적절한 것은?

갑: 윤리학은 윤리 이론의 탐구보다는 실제 삶에서 만나는 도덕 문제의 해결을 목표로 삼아야 한다. 이를 위해 도덕 이론의 도움을 받을 뿐 아니라 생명공학, 법학 등의 자연과학 및 사회과학 지식을 적극 활용해야 한다.
을: 윤리학은 개인의 생활 그리고 사회의 구조와 기능 속에 존재하는 도덕 현상을 과학적으로 탐구하는 것을 목표로 삼아야 한다. 즉 사람들이 따랐거나 따르고 있는 윤리가 무엇인지 기술하고 설명해야 한다.

- 1. 갑: 윤리학은 도덕 관행의 발생 과정을 인과적으로 서술해야 한다.
2. 갑: 윤리학은 구체적 삶의 도덕적 딜레마 해결을 중시해야 한다.
3. 을: 윤리학은 당위의 관점에서 이상적 덕이 무엇인지 모색해야 한다.
4. 을: 윤리학은 도덕 문제에 응용되는 보편적 도덕 원리를 정립해야 한다.
5. 갑, 을: 윤리학은 도덕 언어의 의미 분석을 탐구 목적으로 삼아야 한다.

2. 다음 사상가의 입장으로 가장 적절한 것은? [3점]

우리가 관심을 가지는 것은 거룩한 것의 총체이다. 종교의 역사는 성현(聖顯)으로 구성되어 있다. 종교적 인간은 우리의 세상에 속하지 않은 어떤 실재가 자연의 대상 속에서 현현(顯現)되는 사건에 마주칠 때, 예컨대 한 그루 나무를 우주적 생명의 이미지로서 접할 때 최고의 정신성에 도달하게 된다. 이와 달리 비종교적 인간은 초월을 거부하는 인간 실존의 탈신성화 과정의 결과이다.

- 1. 비종교적 인간도 세계를 성(聖)의 드러남으로 인정한다.
2. 성(聖)이 현현되는 이 세계는 초월적 존재 그 자체이다.
3. 인간은 체험이 아니라 상상을 통해서 성(聖)을 만나게 된다.
4. 어떤 인간도 현실의 삶 속에서 최고의 정신성에 도달할 수 없다.
5. 인간이 성(聖)을 알 수 있는 것은 자연물에 성이 드러나기 때문이다.

3. 갑, 을 사상가들의 입장으로 가장 적절한 것은?

갑: 권력으로 정의된 이익 개념에 기초하고 있는 국제정치에서 전쟁은 국익을 위한 국가 간의 불가피한 권력 투쟁으로부터 발생한다. 타국의 내정에 대한 개입은 이익을 관철하기 위한 강대국의 외교정책이다.
을: 전쟁은 도덕적으로 제약을 받아야 하지만 정의 실현의 수단이 될 수 있다. 인도주의적 개입은 남용되기도 하지만, 사람들에게 가해지는 잔악성이 심각하고 그 지역의 어떤 세력도 해결 능력이 없는 것으로 보일 때에는 도덕적으로 필요하다.

- 1. 갑: 전쟁은 국제 평화를 실현하기 위한 최후의 정치적 행위이다.
2. 갑: 국가 간 모든 행위에 적용되는 보편적 도덕 원칙은 합의될 수 없다.
3. 을: 전쟁 결과의 정의를 위해 전쟁 수행의 정의는 유보해야 한다.
4. 을: 인권 침해국에 대한 군사 개입은 주권 침해로 예외 없이 부당하다.
5. 갑, 을: 국제법을 통해 국가 간 갈등을 해소해야만 전쟁 종식은 가능하다.

4. (가), (나) 사상의 입장으로 적절한 것만을 <보기>에서 있는 대로 고른 것은? [3점]

(가) 악(樂)은 '같음'을, 예(禮)는 '다름'을 위한 것이다. 같으면 서로 친하게 되고, 다르면 서로 공경하게 된다. 악이 화합을 극진하게 하고 예가 순서를 극진하게 하여, 안으로 화합하고 밖으로 질서를 이룬다면, 백성은 그 안색을 보고 서로 다투지 않게 되며, 그 용모를 보고 업신여기지 않게 된다.
(나) 악(樂)은 비록 눈으로 보기에 아름답고 귀로 듣기에 즐거우나, 백성의 이익에는 부합하지 않는다. 악기를 연주하며 춤추는 것을 일삼는다면, 백성이 입고 먹을 재물은 어찌 얻을 수 있겠는가? 일찍이 여러 악기를 만들고 연주했어도 천하의 이익을 증진하는 데 도움이 되지 않았다.

<보기>
ㄱ. (가): 예와 악은 서로 보완적인 역할을 한다.
ㄴ. (가): 예악은 정서의 순화와 언행의 교화 모두에 기여한다.
ㄷ. (나): 음악은 실용적 관점보다 심미적 관점에서 평가해야 한다.
ㄹ. (가), (나): 음악의 가치는 사회적 효과를 고려하여 판단해야 한다.

- 1. ㄱ, ㄴ 2. ㄴ, ㄷ 3. ㄷ, ㄹ
4. ㄱ, ㄴ, ㄹ 5. ㄱ, ㄷ, ㄹ

5. 다음 사상가의 관점에서 <사례> 속 A에게 제시할 조언으로 가장 적절한 것은?

공동체의 행복은 공동체 구성원들의 행복의 총합이다. 어떤 행동이 공동체의 행복을 증가시키는 경향이 감소시키는 경향보다 더 클 경우, 그 행동은 공리의 원리에 일치한다고 말할 수 있다. 우리는 마땅히 이 원리에 일치하는 행동을 해야 한다.

<사례>
고등학생 A는 자전거를 사기 위해 용돈을 모으고 있다. 그러다가 TV에서 '난민 돕기 운동' 광고를 보고 모은 용돈을 기부해야 할지 고민하고 있다.

- 1. 정언명령에 따라 어려운 처지의 사람을 도우세요.
2. 이해 당사자들의 쾌락을 최대화하도록 행동하세요.
3. 실천적 지혜를 발휘해 유덕한 사람이 되도록 행동하세요.
4. 기부의 결과를 따지기보다 배려심을 발휘하여 행동하세요.
5. 공익은 사익의 총합보다 크다는 것을 고려하여 선택하세요.

2 (생활과 윤리)

사회탐구 영역

6. 다음 토론의 핵심 쟁점으로 가장 적절한 것은? [3점]

갑: 몸의 소유권은 자신에게 있고 장기 이식이 생명을 살릴 수 있지만, 장기 기증의 권리는 허용될 수 없습니다. 장기는 몸의 부분이고 몸은 인간 존엄성의 토대이기 때문입니다.
 을: 몸은 인간 존엄성에 있어서 중요합니다. 그러나 몸 자체와 몸의 부분은 구분돼야 합니다. 몸 자체와 달리 몸의 부분은 자발적으로 기증하면 존엄성에 아무 지장이 없습니다.
 갑: 전체도 부분으로 이루어지므로 몸 자체와 몸의 부분은 구분될 수 없습니다. 따라서 장기의 이식은 존엄성에 영향을 줍니다. 또한 기증의 허용은 존엄성을 훼손하는 장기 매매의 위험을 초래합니다.
 을: 물론 존엄성을 훼손하는 장기 매매는 허용될 수 없습니다. 하지만 우리가 가진 몸의 소유권은 장기를 기증할 자기 결정권을 당연히 함의합니다. 이러한 자기 결정권은 생명을 살릴 수 있으며, 존엄성을 훼손하지 않습니다.

- ① 장기 이식이 생명을 살릴 수 있는가?
- ② 장기 매매는 윤리적으로 허용 가능한가?
- ③ 개인은 자기 몸에 대한 소유권을 갖는가?
- ④ 몸 자체는 인간 존엄성의 중요한 토대인가?
- ⑤ 개인은 자신의 장기를 기증할 자유를 지니는가?

7. 다음 신문 칼럼이 강조하는 내용으로 가장 적절한 것은?

○○신문 ○○○○년 ○○월 ○○일

칼럼

기업은 고용인(雇傭人)*과 고용주의 이윤 추구를 위한 계약 관계로 유지된다. 기업의 결속력도 서로의 이윤 창출을 위한 행위에 의해 생길 뿐이다. 고용주는 고용인의 충성까지 구매할 수는 없다. 따라서 사회 정의를 해치는 기업의 행위를 알게 된 고용인이 이를 사회에 알리는 것은 정당하다. 또한 사회는 고용인에게 기업의 불법 행위나 부도덕한 행위를 외부에 적극 알려야 할 의무를 요구할 수 있다. 고용인은 특정 조직에 속한 개인인 동시에 정의롭고 행복하게 유지되어야 할 사회 공동체의 구성원이기 때문이다.

* 고용인(雇傭人): 고용되어 일하는 사람

- ① 고용주는 기업을 사익 추구의 수단으로 간주해서는 안 된다.
- ② 고용인과 고용주는 상호 협력과 결속 관계를 형성할 수 없다.
- ③ 고용인은 고용주에 대한 신의를 어떠한 경우에도 지켜야 한다.
- ④ 조직에 충성하기를 포기한 고용인은 그 조직에서 떠나야 한다.
- ⑤ 고용인은 조직에 대한 책무와 함께 시민의 의무를 다해야 한다.

8. 다음 대화에서 갑, 을의 입장으로 가장 적절한 것은? [3점]

국가는 사회적 갈등을 줄이고 공동체의 결속력을 강화하기 위해 이민자가 출신국의 언어, 문화, 사회적 특성을 포기하고 주류 사회의 일원이 될 수 있는 정책을 추진해야 합니다.

국가는 사회 구성원 간의 조화를 이루기 위해 이민자의 문화적 고유성을 인정하고 기존 사회와 대등하게 공존할 수 있는 법과 제도를 적극적으로 마련해야 합니다.



- ① 갑: 주류 문화 우위를 전제로 이민자 문화의 특수성을 보장해야 한다.
- ② 갑: 주류 문화를 수용하는 이민자의 문화적 정체성을 보장해야 한다.
- ③ 을: 사회 조화를 위해 주류와 비주류 간 문화 위계를 인정해야 한다.
- ④ 을: 이민자의 문화적 다양성을 인정하면서 사회 통합을 모색해야 한다.
- ⑤ 갑, 을: 사회적 연대를 위해 주류와 비주류 문화 간 공존과 결속을 강화해야 한다.

9. 다음 글의 입장으로 적절하지 않은 것은? [3점]

옛 성인(聖人)이 세금 제도를 만든 것은 백성으로부터 거두어 자기를 봉양하자는 것이 아니었다. 백성들이 모여 살면서 갈등과 투쟁이 생겨 서로 죽이기까지 하거니와, 통치자가 법으로 다스려 평화롭게 해 주어야만 민생이 편안해진다. 그러나 이 일은 농사를 지으면서 함께할 수 없으므로, 백성은 수확의 10분의 1을 세(稅)로 바쳐 통치자를 공양(供養)하는 것이다. 통치자가 백성으로부터 거두어들인 것이 큰 만큼, 백성에 대한 보답도 무거운 것이다. 후세의 통치자는 세금 제도를 만든 의의를 모르고 '백성이 나를 공양하는 것은 당연한 것'이라고 말하면서 가혹하게 수취하니, 백성들도 그 영향을 받아 서로 싸워 국가가 혼란해진다.

- ① 공직자는 별도의 생업에 종사하며 나랏일에 충실해야 한다.
- ② 공직자는 자신의 본분에 충실하여 민생을 안정시켜야 한다.
- ③ 공직의 설치는 필수적인 것으로 사회적 역할 분담의 일환이다.
- ④ 공직자는 세금을 납부한 국민들에게 봉사으로써 보답해야 한다.
- ⑤ 공직자의 탐욕과 수탈은 국민의 반목과 국가의 분란을 야기한다.

10. 갑, 을 사상가들의 입장으로 가장 적절한 것은?

갑: 천부적 재능의 분포를 공동의 자산으로 생각하여, 사람들은 공동의 이익을 가져오는 경우에만 자연적·사회적 우연성을 이용하기로 약속한다. 이러한 차등 원칙은 운명의 우연성을 공정하게 다루는 정의로운 방식이다.
 을: 분배가 정의로운가는 그 분배가 어떻게 이루어졌는가에 달려 있다. 이러한 역사적 원리에 따르면, 사람들의 과거 행위나 상황은 사물에 대한 차별적인 소유 권리나 응분의 자격을 만들어 낸다.

- ① 갑: 정의로운 사회에서 우연성으로 취한 이득은 정당화될 수 없다.
- ② 갑: 사유 재산권은 정의 원칙에 따라 평등하게 분배되어야 한다.
- ③ 을: 자연물에 대한 최초 취득의 자유는 제한되어서는 안 된다.
- ④ 을: 분배 결과에 초점을 둔 정의론은 소유권을 침해하지 않는다.
- ⑤ 갑, 을: 천부적 운과 달리 사회적 운은 도덕적 관점에서 임의적이지 않다.

11. ㉠에 들어갈 내용으로 적절한 것만을 <보기>에서 고른 것은?

이제까지 우리는 자기 욕구를 정확하게 파악하고 상품 정보를 충분히 알아본 뒤, 소득 범위 내에서 가장 적은 비용으로 만족도가 높은 제품을 구매하는 것이 바람직한 소비라고 생각했다. 그러나 오늘날 더 절실히 요구되는 소비는 생산, 유통, 구매 그리고 사용 이후의 처리와 재생에 이르기까지 사회, 환경, 미래 세대 등을 배려하는 데서부터 시작한다. 이를 위해 소비할 때 우리는 ㉠

—<보 기>—

ㄱ. 생산 노동자의 권리가 보장되는지 고려해야 한다.
 ㄴ. 공동선을 추구하는 기업의 제품을 선택해야 한다.
 ㄷ. 지속 가능한 소비보다는 현세대의 이익을 추구해야 한다.
 ㄹ. 비용 대비 편익의 극대화를 최우선적 기준으로 삼아야 한다.

- ① ㄱ, ㄴ ② ㄱ, ㄷ ③ ㄴ, ㄷ ④ ㄴ, ㄹ ⑤ ㄷ, ㄹ

12. 다음 사상가의 입장으로 옳지 않은 것은? [3점]

인간은 본성상 이기적 충동과 이타적 충동을 함께 갖고 태어난다. 그런데 도덕의 문제가 개인 차원에서 집단 간의 관계로 옮겨 갈수록 이기적 충동이 득세하게 된다. 사회의 집단 이기심은 불가피하며 이런 이기심이 비정상적으로 확장될 경우, 이에 맞서는 다른 집단들의 이기심에 의해서만 견제될 수 있다. 게다가 도덕적이거나 합리적인 설득 외에 강제력도 병행되어야 견제가 실효성을 지닐 수 있다.

- ① 사회 갈등을 해소하는 민주적 과정에는 강제력이 불필요하다.
 ② 인간의 자기 보존의 욕구는 세력 강화의 욕구로 쉽게 전환된다.
 ③ 도덕적 계몽으로 사회에서 집단 갈등 자체를 소멸시킬 수 없다.
 ④ 집단 간 정의 실현에 집단 이기심의 상호 투쟁이 개입될 수 있다.
 ⑤ 강제력만으로 국가를 보존하고 통합을 유지하는 것은 불가능하다.

13. 갑, 을의 입장으로 적절한 것만을 <보기>에서 고른 것은?

갑: 빅 브라더(Big Brother)는 소셜 속 존재로, 사회를 철저히 장악한다. 정보 통신 기술의 발달로 인해 개인은 사이버 공간에서 '빅 브라더'의 감시를 벗어나지 못해, 실질적인 정치 참여 기회가 줄어들 위험성이 커지고 있다.
 을: 아고라(agora)는 고대 아테네의 광장으로, 자유민들은 이곳에서 민회에 참여했다. 정보 통신 기술의 발달로 사이버 공간이 아고라와 같은 기능을 하면서 현실의 정책 결정에 대해서도 시민의 정치 참여를 높이고 있다.

—<보 기>—

ㄱ. 갑: 사이버 공간에서는 사생활권과 익명성이 보장된다.
 ㄴ. 갑: 정보 통신 기술은 보이지 않는 방식으로 개인을 통제한다.
 ㄷ. 을: 사이버 공간은 직접 민주주의의 가능성을 높이고 있다.
 ㄹ. 갑, 을: 정보화가 진전됨에 따라 표현의 자유도 증진된다.

- ① ㄱ, ㄴ ② ㄱ, ㄷ ③ ㄴ, ㄷ ④ ㄴ, ㄹ ⑤ ㄷ, ㄹ

14. (가)의 사상이 갑, 을의 입장을 (나) 그림으로 탐구하고자 할 때, A~C에 들어갈 옳은 질문만을 <보기>에서 있는 대로 고른 것은?

(가)	<p>갑: 인간 행동을 규제하는 것은 그가 알고 있는 고통의 반복적 인상에서 비롯된다. 시민들에게 범죄자가 노역하는 고통스러운 모습을 지속적으로 보여 주는 것이 사형보다 더 효과적인 형벌이다.</p> <p>을: 인간은 내적 자유를 가진 존재이며 자신의 인간성을 훼손하지 말아야 할 의무가 있다. 네가 타인에게 해악을 끼치는 것은 그것이 무엇이든 그것을 네 자신에게 가하는 것과 같다. 이것이 형벌에서의 정언명령이다.</p>
(나)	<div style="text-align: right; margin-bottom: 10px;"> <p><범례></p> <p>□ : 출발 조건</p> <p>◇ : 판단 내용</p> <p>→ : 판단 방향</p> <p>○ : 사상가의 입장</p> </div>

—<보 기>—

ㄱ. A: 형벌에는 시민에게 공포감을 주려는 의도가 포함되어 있는가?
 ㄴ. B: 범죄 의도의 반사회성이 범죄의 경중을 판단하는 척도인가?
 ㄷ. B: 과도한 형벌은 효용 원리와 사회 계약 모두에 위배되는가?
 ㄹ. C: 인도적 동정심에서 사형의 부당성을 주장하는 것은 그른가?

- ① ㄱ, ㄴ ② ㄴ, ㄷ ③ ㄷ, ㄹ
 ④ ㄱ, ㄴ, ㄹ ⑤ ㄱ, ㄷ, ㄹ

15. 갑, 을 사상가들의 입장으로 적절한 것만을 <보기>에서 있는 대로 고른 것은? [3점]

갑: 우리는 이익 평등 고려의 원칙에 따라 절대 빈곤에 처한 사람들을 도와야 한다. 사치품을 구입할 여유가 있는 사람들이 기부하지 않는 것은 막을 수 있는 죽음이 무한정 지속되는 현실에 무관심함을 드러내는 것일 뿐이다.
 을: 질서 정연한 사회들의 장기 목표는 고통받는 사회들을 질서 정연한 만민 사회로 가입시키는 것이다. 이는 고통받는 사회가 자신의 문제를 합당하게 관리할 수 있게 도와 만민 사회의 구성원이 되도록 하려는 것이다.

—<보 기>—

ㄱ. 갑: 자국민에 대한 우선적 원조가 도덕적으로 정당한 경우도 있다.
 ㄴ. 갑: 모든 사람은 빈곤 해소를 위한 원조에 동등한 부담을 져야 한다.
 ㄷ. 을: 적정 수준의 제도 확립에 막대한 부가 꼭 필요한 것은 아니다.
 ㄹ. 갑, 을: 인권이 보장된 민주주의 국가도 원조 대상에 포함된다.

- ① ㄱ, ㄷ ② ㄱ, ㄹ ③ ㄴ, ㄹ
 ④ ㄱ, ㄴ, ㄷ ⑤ ㄴ, ㄷ, ㄹ

4 (생활과 윤리)

사회탐구 영역


16. (가)의 갑, 을, 병 사상가들의 입장에서 서로에게 제기할 수 있는 비판을 (나) 그림으로 표현할 때, A~F에 해당하는 내용으로 가장 적절한 것은? [3점]

(가)	<p>갑: 도덕적 행위 능력과 무관하게 인간과 일부 동물은 도덕적 권리를 갖는다. 그들 각자는 고유한 삶을 살아가는 삶의 주체이다.</p> <p>을: 도덕적 행위 능력이 없어도 생명체라면 존중해야 한다. 모든 생명체는 목적론적 삶의 중심이며 내재적 가치를 지닌다.</p> <p>병: 도덕적 행위 능력이 있는 인간은 자연을 파괴하는 행위를 삼가야 한다. 그러한 파괴적 성향은 인간의 도덕성에 기여하는 감정을 약화시킨다.</p>
(나)	

- ① A: 개체 각각이 지닌 고유한 선은 보호되고 증진되어야 함을 간과한다.
- ② B: 개체에 대한 도덕적 존중은 내재적 가치에 근거함을 간과한다.
- ③ D: 도덕적 행위 능력이 없는 존재도 모두 내재적 가치를 지님을 간과한다.
- ④ F: 어떤 존재를 목적 그 자체로 보는 근거가 이성 아님을 간과한다.
- ⑤ C, E: 도덕적 행위 주체들의 도덕적 지위가 서로 평등함을 간과한다.

17. 다음 강연자의 입장으로 가장 적절한 것은? [3점]

통일은 분단되기 이전으로 돌아가는 것이 아니라 미래를 향한 새 역사의 창조 작업입니다. 통일은 평화와 민족의 공동 번영, 이산가족의 고통 해소, 그리고 자유와 평등 신장 등에 기여할 것입니다. 그러므로 통일은 성취해야 하지만, 어떤 형태로든 통일이 되지만 하면 된다는 통일 지상주의를 추구해서는 안 됩니다. 또한 급진적 방식의 통일은 사회적 갈등과 많은 비용을 초래할 것입니다. 따라서 통일은 국민적 합의에 기초하여 평화적 방식에 따라 단계적으로 추진되어야 합니다. 이런 방식은 급진적 방식의 통일보다 통일 비용을 줄이고 더 많은 통일 편익을 가져올 것입니다. 이러한 점에서 문화, 예술 등 비교적 합의하기 쉬운 분야로부터 교류 협력을 시작하여 궁극적으로는 체제 통합으로 나아가야 합니다.



- ① 점진적 평화 통일이 급진적 통일보다 더 많은 비용을 초래한다.
- ② 통일을 위해 비정치적 협력보다 정치적 통합을 우선해야 한다.
- ③ 인도적 측면이 아니라 경제적 관점에서 통일을 성취해야 한다.
- ④ 통일은 이유와 방식을 불문하고 성취해야 할 민족적 과업이다.
- ⑤ 통일은 민족의 번영과 인류의 보편적 가치 구현에 기여해야 한다.

18. 다음 사상가의 입장으로 가장 적절한 것은?

거의 정의로운 사회에서 구성원에게 요구되는 가장 중대한 자연적 의무는 체제의 안정에 기여하는 것이다. 이를 위해 구성원들은 체제의 불가피한 결함을 똑같이 분담해야 한다. 물론 사회의 부정의가 구성원에게 주는 부담이 과도해서는 안 된다.

- ① 공유된 정의감에 호소하는 시민 불복종이 공공적일 필요는 없다.
- ② 법이 부정한 정도에 따라 시민 불복종의 정당화 여부가 달라진다.
- ③ 민주적 권위에 맞서는 모든 위법 행위는 체제의 안정을 해친다.
- ④ 정의 원칙에 기초한 헌법하에서는 부정한 법이 제정되지 않는다.
- ⑤ 부정한 법을 준수할 의무는 거의 정의로운 사회에서 존재할 수 없다.

19. 갑, 을 사상가들의 입장으로 옳은 것은? [3점]

갑: 과학의 목적은 자연을 인간의 의도에 맞도록 변형함으로써 인간의 활동 영역을 넓히는 것이다. 인간은 자연의 사용자이자 해석자로서 자연을 경험적으로 연구해야 한다. 자연에 대한 인간의 지배권은 오직 기술과 학문에 달려 있다.

을: 현대 기술의 본질은 기술적인 것이 아니다. 우리는 어디서나 부자유스럽게 기술에 붙들려 있다. 최악의 경우는 기술을 중립적으로 고찰할 때이며, 이 경우 우리는 무방비 상태로 기술에 내맡겨져 전적으로 기술의 본질에 대해 맹목적이게 된다.

- ① 갑: 관찰과 실험으로부터 유용한 지식을 이끌어 낼 수는 없다.
- ② 갑: 과학의 목적은 삶의 개선이 아니라 진리 탐구 그 자체이다.
- ③ 을: 현대 기술의 본질에 대한 자각과 비판적 성찰이 필요하다.
- ④ 을: 현대 기술은 인간의 자율적 의지에 전적으로 종속되어 있다.
- ⑤ 갑, 을: 기술은 수단일 뿐 그 자체는 가치 판단의 대상이 아니다.

20. 다음 가상 편지의 입장으로 적절하지 않은 것은?

○○에게

오늘은 너에게 참된 우정에 대해 말해 주고 싶구나. 너도 잘 알겠지만, 인생길에는 뜻을 같이하고 고락을 함께하는 친구가 꼭 필요하단다. 누구나 친구를 사귀지만, 모두가 참된 우정을 나누는 것은 아니란다. 우정은 사람됨에 따라 격이 달라지는데, 옛 사람들은 이를 '군자(君子)의 우정'과 '소인(小人)의 우정'으로 구분했단다. 소인이란 이익을 좋아하고 재물을 탐내는 사람들이지. 그들은 이익이 될 때 잠시 서로 벗이 되는데, 이는 사실 속임수일 뿐이어서 이로움을 보면 앞을 다투고, 이로움이 사라지면 소원해지며, 심지어 서로 해치기도 한단다. 군자란 도의(道義)를 지키며 명예와 절개를 아끼는 사람들이지. 그들은 사귀면서 도(道)가 같아져 서로 도움이 되고, 마음이 같아져 함께 돌봐 주어 오래도록 참된 우정을 나눌 수 있단다.

- ① 참된 우정을 위해서는 자신의 인격 수양이 필요하다.
- ② 소인의 우정은 물질적 이해관계에 따라 수시로 변한다.
- ③ 가까워질수록 서로 뜻을 존중하고 권면을 삼가야 한다.
- ④ 군자의 우정은 올바른 신념을 공유하여 호혜 관계를 형성한다.
- ⑤ 이익에 기초한 우정은 잠시지만 도의에 기초한 우정은 지속된다.

* 확인 사항

○ 답안지의 해당란에 필요한 내용을 정확히 기입(표기)했는지 확인 하시오.

2020학년도 대학수학능력시험

사회탐구 영역 정답표
(생활과 윤리) 과목

문항 번호	정 답	배 점	문항 번호	정 답	배 점	문항 번호	정 답	배 점	문항 번호	정 답	배 점
1	②	2	6	⑤	3	11	①	2	16	④	3
2	⑤	3	7	⑤	2	12	①	3	17	⑤	3
3	②	2	8	④	3	13	③	2	18	②	2
4	④	3	9	①	3	14	⑤	2	19	③	3
5	②	2	10	②	2	15	①	3	20	③	2

제 4 교시

사회탐구 영역 (윤리와 사상)

성명

수험 번호

제 [] 선택

윤리와 사상

1. 그림의 강연자가 강조하는 삶의 태도로 가장 적절한 것은?

생각하면 할수록 더욱 큰 감탄과 존경으로 내 마음을 채워 주는 두 가지가 있습니다. 하나는 내 위에서 반짝이는 별을 보여 주는 하늘이며 다른 하나는 내 안에 있는 도덕 법칙입니다. 도덕 법칙은 동물성으로부터, 더 나아가 모든 감성계의 지배로부터 벗어나 있는 삶을 나에게 드러내 줍니다. 이러한 도덕 법칙은 유한한 이성적 존재자의 의지에게는 의무의 법칙입니다.



- ① 인위적인 규범에서 벗어나 자연법칙을 따르기 위해 힘쓴다.
- ② 자연적인 경향성이 아니라 자율 도덕 법칙에 따라서 행동한다.
- ③ 행복에 대한 관심을 모두 버리고 신이 부여한 계율을 따른다.
- ④ 세상의 모든 생명체를 언제나 목적으로 대우하려고 노력한다.
- ⑤ 의무 의식이 아니라 자연적 감정을 행동의 기반으로 삼는다.

2. (가)의 고대 중국 사사가 갑, 을의 입장을 (나) 그림으로 표현할 때, A~C에 해당하는 적절한 진술만을 <보기>에서 있는 대로 고른 것은? [3점]

(가)	<p>갑: 군자와 소인의 본성[性]은 다르지 않다. 그들은 모두 이익을 좋아하고 손해를 싫어한다. 그럼에도 군자를 귀하게 여기는 것은 그가 성을 교화하고 인위를 일으킬 수 있기[化性起偽] 때문이다. 인위를 일으키면 예의가 생겨난다.</p> <p>을: 군자는 마음에 뿌리박고 있는 인의예지(仁義禮智)를 본성으로 삼는다. 그리고 군자는 소인과 달리 그 마음을 보존한다. 인으로써 마음을 보존하고 예로써 마음을 보존한다. 어진 자는 남을 사랑하고 예가 있는 자는 남을 공경한다.</p>
(나)	<div style="border: 1px solid black; padding: 5px; margin-top: 5px;"> <p style="text-align: center;">(범례)</p> <p>A: 갑만의 입장 B: 갑, 을의 공통 입장 C: 을만의 입장</p> </div>

<보 기>

ㄱ. A: 군자는 소인과 달리 타고난 본성에 순응하지 않는다.
 ㄴ. B: 사람은 누구나 교육과 수양을 통해 군자가 될 수 있다.
 ㄷ. B: 군자와 소인의 본성은 태어날 때부터 서로 같지 않다.
 ㄹ. C: 사람이 부모에게 효도하는 것은 타고난 본성에 어긋나지 않는다.

- ① ㄱ, ㄷ
- ② ㄴ, ㄹ
- ③ ㄷ, ㄹ
- ④ ㄱ, ㄴ, ㄷ
- ⑤ ㄱ, ㄴ, ㄹ

3. 사회사상가 갑, 을의 입장으로 옳은 것은?

갑: 차등의 원칙이 실현되면 모든 사람들의 처지가 최초의 상황보다 개선되며 사회의 기본 구조 속에서 모든 사람이 사회협동체의 혜택을 받게 된다.

을: 차등의 원칙은 개인의 소유 권리를 지속적으로 침해하지만 취득, 이전 및 교정의 원리에 기반을 둔 정의관은 개인의 소유 권리를 보장한다.

- ① 갑: 사회적 약자의 복리를 위해 개인의 기본적 자유는 제한 가능하다.
- ② 갑: 차등의 원칙에 따라 우연적 여건으로 인한 불평등을 보상해야 한다.
- ③ 을: 재화 소유의 역사적 과정보다 최종적 분배 결과가 중요하다.
- ④ 을: 사회적 우연성의 영향을 완화하기 위해 국가의 개입이 필요하다.
- ⑤ 갑, 을: 정의의 원칙은 타인의 이익을 고려하는 사람들에 의해 도출된다.

4. 근대 한국 사상가 갑, 을의 입장으로 옳은 것은?

갑: 일원(一圓)의 원리를 깨닫는 것은 견성(見性)이고, 일원의 본체를 지키는 것은 양성(養性)이며, 일원과 같이 원만한 실행을 하는 것은 솔성(率性)이다. 이 공부를 지극한 정성으로 하면 학식과 총명에 관계없이 성불함을 얻으리라.

을: 수심정기(守心正氣)는 부모에게 효도하고 형제끼리 우애하며 남에게 온화하고 공손하게 하는 것이다. 이 마음을 갓난아이 보호하는 것처럼 하고, 늘 조용하여 성내는 마음이 일어나지 않게 하며, 늘 깨어 혼미한 마음이 없게 하라.

- ① 갑: 깨달음을 위한 수행과 일상생활이 분리되어서는 안 된다.
- ② 갑: 물질 문명을 완성한 이후에 정신 개혁을 이루어야 한다.
- ③ 을: 마음속이 아닌 하늘에 존재하는 한울님[天主]을 섬겨야 한다.
- ④ 을: 천지공사(天地公事)를 통해서 사람들의 원한을 해소해야 한다.
- ⑤ 갑, 을: 유교적 이념을 중심으로 불교와 도가 사상을 통합해야 한다.

5. 고대 서양 사상가 갑, 중세 서양 사상가 을의 입장에 대한 설명으로 옳은 것은? [3점]

갑: 신이 하는 일에는 신의 섭리가 담겨 있다. 우연처럼 보이는 일도 신의 섭리, 즉 자연의 인과 관계와 무관하지 않다. 자연에 의해 일어나는 모든 것은 선하다. 당신은 이것을 원칙으로 삼아 자신의 삶에 만족하도록 하라.

을: 신은 최고 존재이며, 무(無)에서 창조한 것들에게 존재를 주었다. 그런데 두 가지 사랑이 두 나라를 건설했다. 지상의 나라는 인간의 자기 사랑에 의해 만들어졌다. 인간은 신을 사랑하고 자신을 멸시할 때, 천상의 나라에 이를 수 있다.

- ① 갑은 필연성에서 벗어날 때 정신적 자유에 이를 수 있다고 본다.
- ② 갑은 인간이 영혼 속의 정념을 따르면 선한 삶을 살 수 있다고 본다.
- ③ 을은 인간이 신보다 자기 자신을 따름으로써 죄를 짓는다고 본다.
- ④ 을은 믿음이 아닌 신에 대한 이성적 인식으로 지복이 가능하다고 본다.
- ⑤ 갑, 을은 인간이 오직 신의 은총을 통해 신과 합일할 수 있다고 본다.

2 (윤리와 사상)

사회탐구 영역

6. 고대 서양 사상가 갑, 을의 입장에 대한 설명으로 옳은 것은? [3점]

갑: 한 나라가 용기 있는 것은 이 나라의 한 계층에 의해서이다. 이 계층은 두려워할 것들에 대한 의견을 보전하는 능력을 갖고 있다. 용기는 법에 의한 교육을 통해 두려워할 것과 두려워하지 않을 것에 대한 의견을 끝까지 보전하는 것이다.
 을: 무슨 일이든 두려워하며 어떤 자리도 지켜 내지 못하는 사람은 비겁하며, 반대로 무슨 일이든 두려워하지 않으면서 모든 일에 뛰어드는 사람은 무모하다. 용기라는 덕은 지나침과 모자람에 의해 파괴되고 중용에 의해 보존된다.

- ① 갑은 전체를 위한 유익함이 무엇인지 아는 것을 용기라고 본다.
- ② 갑은 덕을 갖추지 않고도 행복해질 수 있는 길이 있다고 본다.
- ③ 을은 용기 있는 사람이 되려면 반드시 실천적 지혜가 필요하다고 본다.
- ④ 을은 어떤 대상에 대해서도 두려워하지 않는 것을 용기라고 본다.
- ⑤ 갑, 을은 앎이 의지의 나약함 때문에 실천되지 않는 경우는 없다고 본다.

7. 사회사상가 갑, 을의 입장으로 옳은 것은?

갑: 자본가의 수중에 있는 모든 자본을 사회 전체 구성원의 공동 재산으로 전환시키고, 그 누구의 노동도 타인에게 예속되지 않는 계급 없는 사회를 실현해야 한다.
 을: 구성원들이 공유하는 의미에 따라 모든 사회적 가치들이 고유한 영역을 구성하고, 이러한 영역들의 내재적 자율성이 존중되는 복합 평등의 사회를 실현해야 한다.

- ① 갑: 이상 사회에서는 분업의 장려로 구성원의 자립성이 회복된다.
- ② 갑: 생산 수단의 사적 소유는 소수의 자본가에게 부를 집중시킨다.
- ③ 을: 영역 간 가치의 자유로운 전환은 분배의 평등을 촉진한다.
- ④ 을: 사회적 가치들은 서로 다른 사회에서도 동일한 의미를 지닌다.
- ⑤ 갑, 을: 경제적 재화는 사회 구성원의 필요에 따라 분배되어야 한다.

8. 근대 서양 사상가 갑, 현대 서양 사상가 을의 입장으로 옳은 것만을 <보기>에서 고른 것은?

갑: 우상(偶像)은 인간의 정신을 혼미하게 하며, 우리가 얻을 수 있는 진리를 얻지 못하게 한다. 이러한 우상을 몰아낼 수 있는 유일한 방법은 참된 귀납법으로 개념과 공리(公理)를 형성하는 것이다.
 을: 절대적 진리는 존재하지 않으며, 지식은 문제 해결의 도구이다. 과학과 신기술은 가치 있는 새로운 자원을 주는 강력한 도구이다. 이러한 도구를 인간의 목적을 위해 사용할 수 있게 해 줄 효과적인 도덕의 재구성이 필요하다.

<보기>

ㄱ. 갑: 우상 타파를 위한 최선의 탐구 방법은 삼단 논법이다.
 ㄴ. 을: 실험과 지성적 탐구를 통해서 진리를 추구해야 한다.
 ㄷ. 을: 지식의 유용성보다 자명한 지식의 발견을 중시해야 한다.
 ㄹ. 갑, 을: 자연 과학적 방법을 통해 인간의 삶을 개선할 수 있다.

- ① ㄱ, ㄴ ② ㄱ, ㄷ ③ ㄴ, ㄷ ④ ㄴ, ㄹ ⑤ ㄷ, ㄹ

9. 가상 대화의 '스승'은 한국 유교 사상가이다. 이 사상가가 긍정의 대답을 할 질문만을 <보기>에서 있는 대로 고른 것은? [3점]

제자: 지난번에 선생님께서는 “사단과 칠정은 기(氣)가 발한 것이고, 칠정은 사단을 겸(兼)한다.”라고 하셨습니다. 오늘은 그때 잠깐 언급하셨던 수기(修己)에 대해 자세히 알고 싶습니다.
 스승: 수기를 위해서는 무엇보다 먼저 뜻을 세워야[立志] 하네. 그 다음은 수렴(收斂)인데, 이것의 핵심은 학문의 시작이자 끝이라고 할 수 있는 경(敬)을 지니는 것이라네. 수렴 다음에는 궁리(窮理)와 성실(誠實)에 힘쓰고 기질을 바로잡아야[矯氣質] 하네.

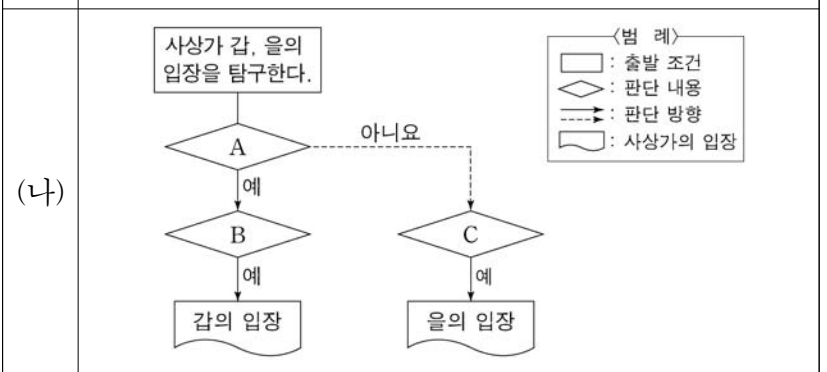
<보기>

ㄱ. 사단은 칠정의 선한 측면[一邊]이며 칠정에 포함되는 것인가?
 ㄴ. 사단이 생성되게 하려면 누구나 기질을 교정해야[矯] 하는가?
 ㄷ. 경을 지니는 것[持敬]은 궁리의 바탕이라고 할 수 있는가?
 ㄹ. 경으로 주재하여 사특함을 제거해야 성(誠)에 이를 수 있는가?

- ① ㄱ, ㄴ ② ㄱ, ㄷ ③ ㄴ, ㄹ
- ④ ㄱ, ㄷ, ㄹ ⑤ ㄴ, ㄷ, ㄹ

10. (가)의 근대 서양 사상가 갑, 을의 입장을 (나) 그림으로 탐구하고자 할 때, A~C에 들어갈 옳은 질문만을 <보기>에서 있는 대로 고른 것은? [3점]

갑: 공감은 인간 본성의 가장 강력한 원리이다. 또한 공감은 다른 많은 덕을 유발하며, 이 덕들은 인간의 행복을 위한 경향 때문에 우리의 승인을 얻는다.
 (가) 을: 공리의 원리란 어떤 행위가 이해 당사자들의 행복을 증가시키면 승인하고 감소시키면 부인하는 원리이다. 쾌락과 고통의 가치를 측정할 때 고려해야 할 것은 강도, 지속성, 확실성 등이다.



<보기>

ㄱ. A: 개인의 행복 증진에 기여하는 행위는 선할 수 있는가?
 ㄴ. A: 도덕은 공감의 원리에 따른 승인과 부인의 감정에 기초해야 하는가?
 ㄷ. B: 덕과 부덕은 이성이 아니라 도덕감에 의해 구별되는가?
 ㄹ. C: 행위의 도덕성은 보편적 도덕 원리에 의해 결정되는가?

- ① ㄱ, ㄴ ② ㄱ, ㄷ ③ ㄷ, ㄹ
- ④ ㄱ, ㄴ, ㄹ ⑤ ㄴ, ㄷ, ㄹ

11. 한국 불교 사사가 갑, 을의 입장으로 옳지 않은 것은?

갑: 법이란 '중생의 마음[衆生心]'을 일컫는다. 대승 가운데 있는 일체의 법은 별도의 본질이 있는 것이 아니다. 모든 법 자체가 오직 일심(一心)이다. 그러므로 일심을 대승의 법이라고 말하는 것이다.

을: 부처는 '중생의 마음' 속의 부처이지 다른 것이 아니다. 모든 부처의 근원을 알고자 하면 무명(無明) 속에 있는 자신조차도 본래 부처임을 깨달아야 한다. 깨친[頓悟] 다음에도 습기를 점차 소멸시켜 나가야[漸修] 한다.

- ① 갑: 일심의 법에서 보면 생겨남[生]과 사라짐[滅]은 둘이 아니다.
- ② 갑: 부처의 가르침은 하나의 마음에서 비롯되니 화쟁(和靜)해야 한다.
- ③ 을: 내 마음이 부처임을 자각하면 더 이상의 수행[修]은 필요 없다.
- ④ 을: 혜(慧)는 정(定)을 떠나지 않고 정은 혜를 떠나지 않는다.
- ⑤ 갑, 을: 모든 중생은 불성(佛性)을 지녔으므로 차별해서는 안 된다.

12. 다음은 고대 중국 사사가 갑, 을의 가상 대화이다. 갑, 을의 입장으로 가장 적절한 것은? [3점]

성인(聖人)은 무위(無爲)에 머물고, 말하지 않는 가르침을 행합니다. 또한 만물을 잘 자라게 해 주면서도 가지려 하지 않고, 공(功)을 이루어도 내세우지 않습니다.

성인(聖人)은 사람의 형태를 띠고 있지만 사람의 성정을 가지고 있지 않으며, 시비도 몸에 지니지 않습니다. 또한 덕의 조화[和] 속에서 마음을 노닐게[遊心] 합니다.



- ① 갑: 성인은 물처럼 낮은 곳에 머물면서 남들과 다투지 않는다.
- ② 갑: 성인은 사람들이 공적을 쌓아 널리 이름을 떨치도록 돕는다.
- ③ 을: 성인은 도(道)의 관점에서 시비와 선악을 명확하게 분별한다.
- ④ 을: 성인은 각각의 자연적 특성을 가진 만물을 평등하게 대하지 않는다.
- ⑤ 갑, 을: 성인은 예(禮)를 가르쳐서 백성의 본성이 실현되도록 한다.

13. 사회사상 (가), (나)의 입장으로 옳은 것만을 <보기>에서 고른 것은? [3점]

(가) 완전 고용은 우리의 자본주의가 추구해야 할 목표이다. 투자의 사회화는 완전 고용에 근접하는 효율적 수단이므로, 정부는 유효 수요 창출을 위한 투자 계획을 수립해야 한다.
 (나) 완전 고용은 우리의 사회주의가 추구해야 할 목표이다. 생산의 계획화는 완전 고용을 달성하기 위한 수단이지만, 이 계획은 모든 생산 수단의 공유화를 전제하지는 않는다.

<보기>

ㄱ. (가): 유효 수요의 과잉이 실업을 초래하는 근본적인 원인이다.
 ㄴ. (나): 공공의 이익 증진이 사적인 이윤 추구보다 중요하다.
 ㄷ. (나): 계획 경제는 사회 구성원의 자유를 지속적으로 침해한다.
 ㄹ. (가), (나): 시장의 문제점을 해결하기 위한 정부 개입이 필요하다.

- ① ㄱ, ㄴ ② ㄱ, ㄷ ③ ㄴ, ㄷ ④ ㄴ, ㄹ ⑤ ㄷ, ㄹ

[14~15] 갑, 을은 고대 서양 사상가들이다. 물음에 답하시오.

갑: 사려 깊고, 아름다우며, 정의롭게 살지 않으면서 즐겁게 살 수는 없다. 반대로 즐겁게 살지 않으면서 사려 깊고, 아름다우며, 정의롭게 살 수는 없다. 덕은 본성적으로 즐거운 삶과 연결되어 있으며, 즐거운 삶은 덕과 떨어질 수 없다. 즐거움은 행복한 인생의 시작이자 끝이다.

을: 즐거움에 굴복하여 좋은 일을 하지 않았다고 하지만, 사실은 그 좋은 일이 더 큰 즐거움을 준다는 것을 몰랐기 때문이다. 어떤 것이 지금보다 더 좋고, 그것을 할 수 있다는 것을 안다면 즐거움에 굴복하는 행동은 하지 않을 것이다. 자기 자신에게 굴복하는 것이 무지이고, 자기 자신을 이기는 것이 지혜이다.

14. 갑, 을의 입장으로 옳은 것만을 <보기>에서 있는 대로 고른 것은?

<보기>

ㄱ. 갑: 필수적이지 않은 욕구를 추구하면 불안이 생길 수 있다.
 ㄴ. 을: 지혜를 갖추어도 고의적으로 악을 행하는 사람이 있다.
 ㄷ. 을: 앎이 없어도 지나친 욕구에 대해 절제의 덕을 지닐 수 있다.
 ㄹ. 갑, 을: 행복을 위해 즐거움에 대한 이성적 숙고가 필요하다.

- ① ㄱ, ㄹ ② ㄴ, ㄷ ③ ㄴ, ㄹ
- ④ ㄱ, ㄴ, ㄷ ⑤ ㄱ, ㄷ, ㄹ

15. 갑과 다음을 주장한 근대 서양 사상가가 모두 부정의 대답을 할 질문으로 가장 적절한 것은? [3점]

○ 두 가지 쾌락을 잘 아는 사람들이 어느 한쪽의 쾌락을 높이 평가해서 다른 쪽의 쾌락에 비해 그 양이 적을지라도 선택한다면, 그 쾌락은 질적으로 훨씬 우월한 것이다.
 ○ 우리가 인정하는 자기 포기는 다른 사람들의 행복이나 그 행복의 수단을 확보하기 위한 헌신뿐이다. 이때의 다른 사람들은 인류 전체이든, 인류 범위 내에 있는 개인이든 무방하다.

- ① 행복을 위해 공적인 일에 참여하는 것을 멀리해야 하는가?
- ② 행복 증진에 기여하지 않을지라도 자기희생 자체는 선인가?
- ③ 사회 전체 쾌락의 극대화를 도덕적 행위의 목표로 삼아야 하는가?
- ④ 더 좋은 결과를 보장한다면 고통은 감내할 가치가 있는 것인가?
- ⑤ 쾌락은 어떤 행위를 추구하거나 기피해야 할지를 판단하는 기준인가?

4 (윤리와 사상)

사회탐구 영역

16. 다음을 주장한 고대 동양 사상가의 입장으로 옳은 것만을 <보기>에서 있는 대로 고른 것은?

색(色)을 즐거워하지 말고 색을 찬양하지 말며 색을 취하지 말고 색에 집착하지 말라. 무슨 까닭인가? 만일 비구가 그럴 수 있다면, 곧 색을 즐거워하지 않게 되어 마음이 해탈하기 때문 이니라. 수(受), 상(想), 행(行), 식(識)에서도 마찬가지이므로, 이 오온(五蘊)에 집착하지 말아야 하느니라.

<보 기>

ㄱ. 오온의 실상(實相)을 바르게 알아야 해탈할 수 있다.
 ㄴ. 만물은 무상(無常)하며 현실적 삶 그 자체는 고통이다.
 ㄷ. 불변의 실체로서의 '나'에 근거하여 깨달음을 얻어야 한다.
 ㄹ. 모든 고통의 발생과 소멸에는 반드시 그 원인이 존재한다.

- ① ㄱ, ㄴ ② ㄴ, ㄷ ③ ㄷ, ㄹ
- ④ ㄱ, ㄴ, ㄹ ⑤ ㄱ, ㄷ, ㄹ

17. 갑, 을은 서양 사상가들이다. 갑이 을에게 제기할 수 있는 비판으로 가장 적절한 것은?

갑: 인간의 본질을 구상하는 신은 존재하지 않는다. 인간은 스스로가 구상하는 무엇이며 스스로가 원하는 무엇일 뿐이다. 세계 속에 던져진 인간은 스스로 선택하며 자신이 하는 모든 것에 책임을 져야 한다.
 을: 인간의 진정한 행복은 신 또는 자연에 대한 지적 사랑으로부터 생겨난다. 신에 대한 인간의 지적 사랑은 신이 자기 자신을 사랑하는 무한한 사랑의 일부이다. 인간에 대한 신의 사랑과 신에 대한 인간의 지적 사랑은 똑같다.

- ① 인간은 신적 본성의 필연성에 의해 존재함을 모르고 있다.
- ② 인간은 자유 의지에 따라 행동할 수 있음을 모르고 있다.
- ③ 보편적 법칙에 대한 순응이 실존 회복의 근거임을 모르고 있다.
- ④ 행복을 누리려면 이성을 통해 감정을 순화해야 함을 모르고 있다.
- ⑤ 신은 만물의 초월적 원인이 아니라 내재적 원인임을 모르고 있다.

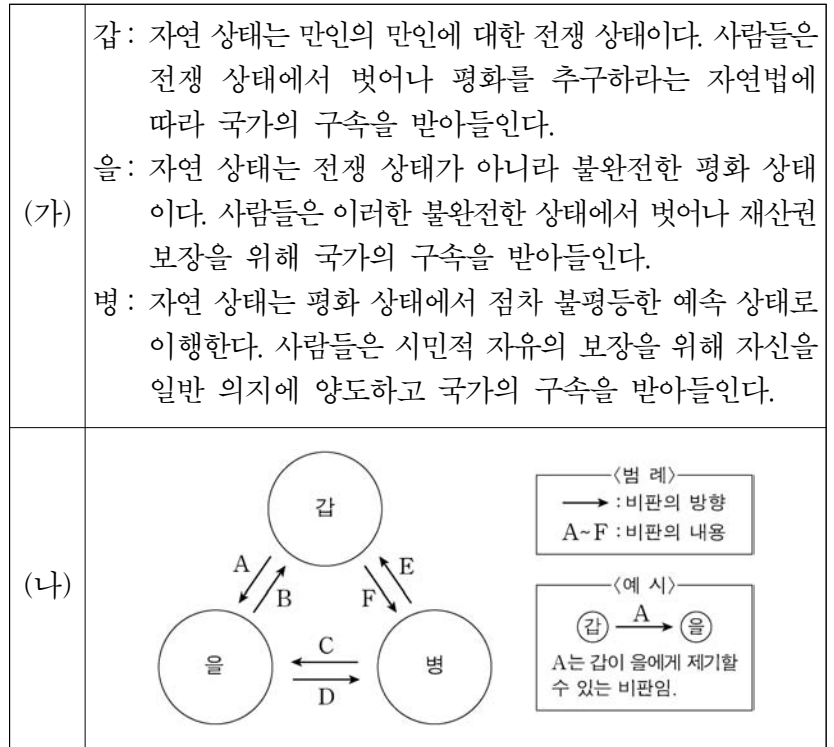
18. (가)의 갑, 을은 유교 사상가들이고, (나)는 유교 경전의 일부 내용이다. ㉠, ㉡에 대한 갑, 을의 입장으로 옳지 않은 것은? [3점]

(가) 갑: 사람의 성(性)이 선(善)을 좋아함은 물의 성이 아래로 흘러가기를 좋아하는 것과 같다. 성과 행함[行] 때문에 덕이라는 명칭이 있게 되었다. 사단은 심(心)이라고 할 수 있다.
 을: 성(性)은 하늘의 이치[理]이다. 마음[心]은 성과 정(情)을 통괄한다. 마음이 물과 같다면 성은 물이 고요할 때와 같고 정은 물이 흐르는 것과 같다. 사단은 성이 아니라 정이다.

(나) ㉠ 측은지심(惻隱之心)이 없으면 사람이 아니다. 측은지심은 ㉡ 인(仁)의 단(端)이다.

- ① 갑: ㉠은 인간이라면 누구나 지니고 있는 선한 마음이다.
- ② 갑: ㉠을 확충하기 이전에는 마음에 ㉡이 존재하지 않는다.
- ③ 을: ㉠은 ㉡이 마음에 내재함을 알 수 있게 해 주는 단서이다.
- ④ 을: ㉠은 마음의 쓰임[用]인 정이고 ㉡은 마음의 본체인 성이다.
- ⑤ 갑, 을: ㉠과 달리 ㉡은 하늘로부터 부여받은 이치[天理]이다.

19. (가)의 갑, 을, 병 사상가들의 입장에서 서로에게 제기할 수 있는 비판을 (나) 그림으로 표현할 때, A~F에 해당하는 내용으로 가장 적절한 것은? [3점]



- ① A, F: 개인의 자기 보존 욕구가 계약 체결에 영향을 미침을 부정한다.
- ② B: 권력 분할보다 집중이 재산권을 보장하는 최선책임을 부정한다.
- ③ C: 입법권은 국민이 선출한 대표자에게 위임될 수 있음을 간과한다.
- ④ D: 계약 이후에는 국가만 시민에 대한 형벌권을 소유함을 간과한다.
- ⑤ E: 법률에 복종하는 시민이 법률의 제정자가 되어야 함을 간과한다.

20. 다음은 어느 현대 서양 사상가의 가상 편지이다. ㉠에 들어갈 진술로 가장 적절한 것은?

○○○ 선생님께
 도덕적 행위에 관한 선생님의 편지는 잘 읽었습니다. 저는 선생님과 달리 도덕적 행위에서 사람들이 배려자가 되는 것과 배려할 수 있는 능력을 계발하는 것이 중요하다고 생각합니다. 제가 강조하는 배려는 자연적 배려에 근거하고 있습니다. 그런데 선생님께서는 도덕적으로 정당화될 수 있는 행위는 유사한 상황이라면 누구나 마땅히 해야 하는 도덕적 의무에서 비롯된 행위라고 말씀하시면서, 그 의무의 보편적 법칙성을 강조하셨습니다. 이러한 견해는 우리가 누구와 어떤 관계를 맺고 있는지의 문제와 무관하게 우리의 도덕적 의사 결정이 내려져야 한다는 사실을 전제하고 있습니다. 따라서 제가 볼 때 선생님의 입장은 ㉠ 고 생각합니다. ... (후략).

- ① 동정심과 같은 감정을 의무의 근거로 삼아야 함을 강조한다
- ② 도덕 법칙이 누구에게나 예외 없이 적용되어야 함을 간과한다
- ③ 배려의 의무가 자연적 배려에 대한 경험에서 발생함을 강조한다
- ④ 도덕 교육의 과제가 이성에 의한 추론 능력의 함양임을 간과한다
- ⑤ 인간관계의 특수한 맥락에 따른 행위가 도덕적으로 정당화됨을 간과한다

* 확인 사항
 ○ 답안지의 해당란에 필요한 내용을 정확히 기입(표기)했는지 확인 하시오.

2020학년도 대학수학능력시험

사회탐구 영역 정답표
(윤리와 사상) 과목

문항 번호	정 답	배 점	문항 번호	정 답	배 점	문항 번호	정 답	배 점	문항 번호	정 답	배 점
1	②	2	6	③	3	11	③	2	16	④	2
2	⑤	3	7	②	2	12	①	3	17	②	2
3	②	2	8	④	2	13	④	3	18	⑤	3
4	①	2	9	④	3	14	①	2	19	⑤	3
5	③	3	10	⑤	3	15	②	3	20	⑤	2

제 4 교시

사회탐구 영역 (한국 지리)

성명 _____ 수험 번호 _____ 제 [] 선택

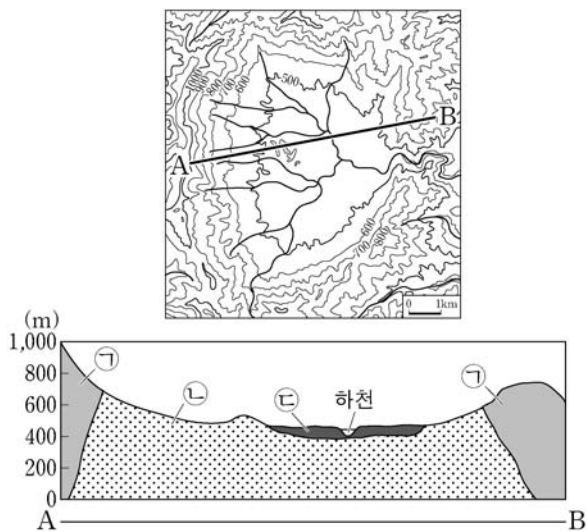
1. 다음은 우리나라 영역에 대한 한국 지리 수업 장면이다. 발표 내용이 옳은 학생을 고른 것은?

지도의 A-E에 대해 발표해 볼까요?

가: A에서는 외국 선박의 자유로운 운항이 허용되지 않습니다.
 을: B에서 간척 사업이 이루어지면 염해가 확대됩니다.
 병: C는 직선 기선으로부터 12해리까지입니다.
 정: D에서의 기선은 해안의 최저 조위선을 기준으로 합니다.
 무: E에서는 일본과 공동으로 어업 자원을 관리합니다.

- ① 갑 ② 을 ③ 병 ④ 정 ⑤ 무

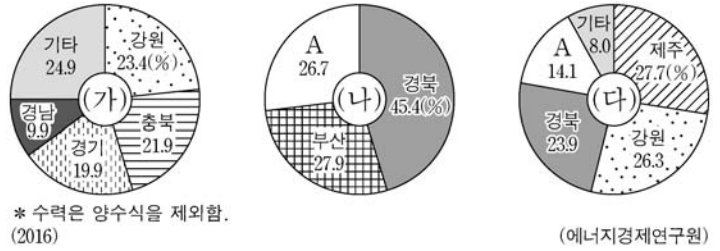
2. 다음 자료는 우리나라 어느 지역의 지형도와 A-B 구간의 단면도이다. 이에 대한 설명으로 옳은 것만을 <보기>에서 고른 것은?



- <보 기>
- ㉠. ㉠의 기반암은 시·원생대의 변성암이 주를 이룬다.
 ㉡. ㉡은 경동성 요곡 운동으로 형성된 고위 평탄면이다.
 ㉢. ㉢의 기반암은 ㉠의 기반암보다 풍화와 침식에 대한 저항력이 약하다.
 ㉣. ㉣과 ㉤은 충적층이 넓게 발달하여 주로 벼농사가 이루어진다.

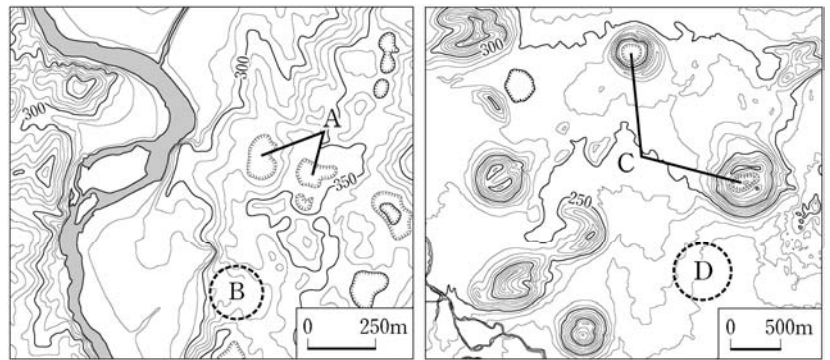
- ① ㉠, ㉡ ② ㉠, ㉢ ③ ㉡, ㉣ ④ ㉢, ㉣ ⑤ ㉣, ㉤

3. 그래프는 세 에너지의 지역별 생산 비율을 나타낸 것이다. 이에 대한 설명으로 옳은 것은? (단, (가)~(다)는 각각 수력, 원자력, 풍력 중 하나임.) [3점]



- ① (가)는 (나)보다 상업용 발전에 이용된 시기가 이른다.
 ② (가)는 (다)보다 연간 발전량에서 겨울철 발전량이 차지하는 비율이 높다.
 ③ (다)는 (나)보다 총 발전량이 많다.
 ④ (가)~(다) 중 발전 시 기상 조건의 영향을 가장 크게 받는 것은 (나)이다.
 ⑤ A는 전북에 해당한다.

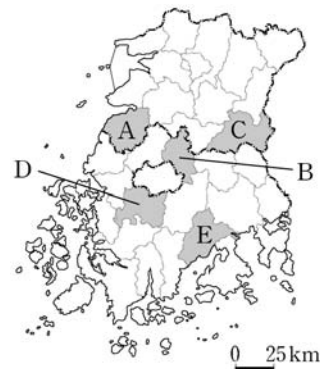
4. 지도의 A~D에 대한 설명으로 옳은 것은? [3점]



- ① B는 현무암질 용암이 흘러서 형성되었다.
 ② D에서는 석회암이 풍화된 붉은색의 토양이 나타난다.
 ③ C는 A 보다 기반암의 형성 시기가 이른다.
 ④ A와 C 주변에는 기반암이 용식되어 형성된 동굴이 분포한다.
 ⑤ B와 D는 배수가 양호하여 발농사에 유리하다.

5. 다음 자료에서 설명하는 지역을 지도의 A~E에서 고른 것은?

이 지역은 대나무를 가공해서 만든 죽세공품의 대표적인 생산지이고, 해마다 대나무 축제가 개최되고 있다. 슬로 시티로 지정된 마을이 있으며, 전통 정원의 모습을 볼 수 있는 소재원이 유명하다.

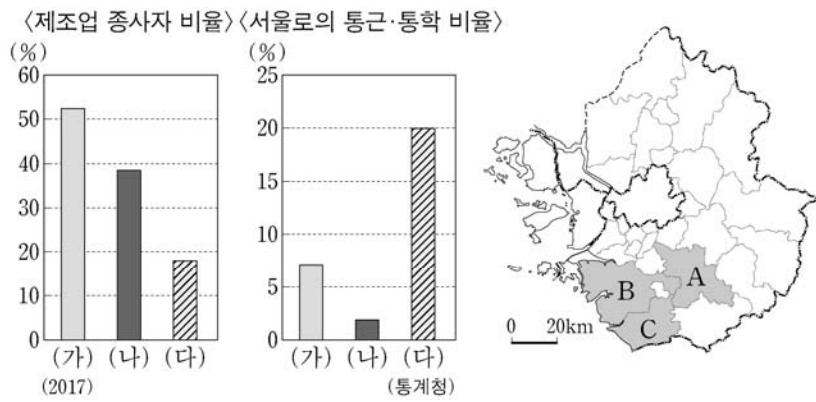


- ① A
 ② B
 ③ C
 ④ D
 ⑤ E

2 (한국 지리)

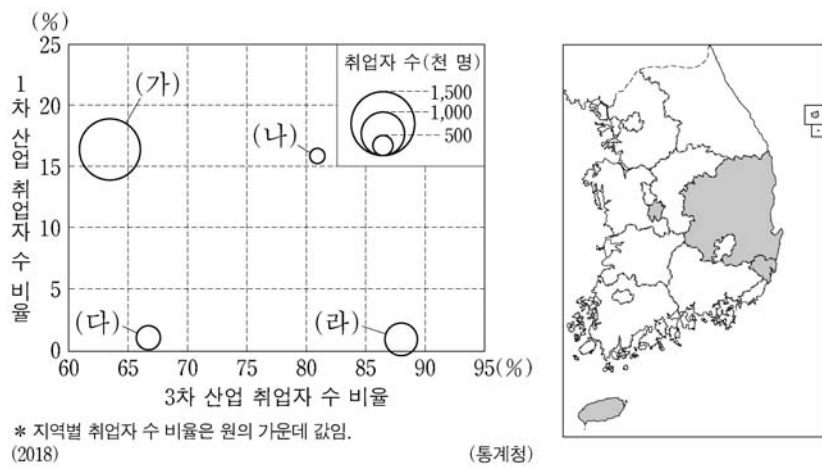
사회탐구 영역

6. 그래프의 (가)~(다) 지역을 지도의 A~C에서 고른 것은?



- | | | | | | | | |
|---|-----|-----|-----|---|-----|-----|-----|
| | (가) | (나) | (다) | | (가) | (나) | (다) |
| ① | A | B | C | ② | A | C | B |
| ③ | B | A | C | ④ | B | C | A |
| ⑤ | C | B | A | | | | |

7. 그래프는 지도에 표시된 네 지역의 산업 구조와 취업자 수를 나타낸 것이다. (가)~(라) 지역에 대한 설명으로 옳은 것은? [3점]



- (가)는 (라)보다 제조업 출하액이 적다.
- (나)는 (가)보다 지역 내 총 발전량 중 화력 발전이 차지하는 비율이 높다.
- (나)는 (다)보다 1인당 지역 내 총생산이 많다.
- (다)는 광역시, (라)는 도(道)이다.
- (가)~(라) 중 전문 서비스업체 수는 (나)가 가장 많다.

8. 다음 자료는 어느 모둠의 답사 계획서 일부이다. 이 모둠의 답사 지역을 지도의 A~F에서 순서대로 옳게 고른 것은? (단, 하루에 한 지역만 답사하며, 각 날짜별 답사 지역은 다른 지역임.) [3점]



- | | | | | | |
|-------------|-------------|------|-------------|-------------|------|
| 1일 차 | 2일 차 | 3일 차 | 1일 차 | 2일 차 | 3일 차 |
| ① A → D → F | ② A → F → E | | ③ C → D → E | ④ C → E → F | |
| ⑤ C → F → B | | | | | |

9. 다음은 한국 지리 퀴즈의 일부이다. A 도시의 제조업 업종별 출하액 비율 그래프로 옳은 것은?

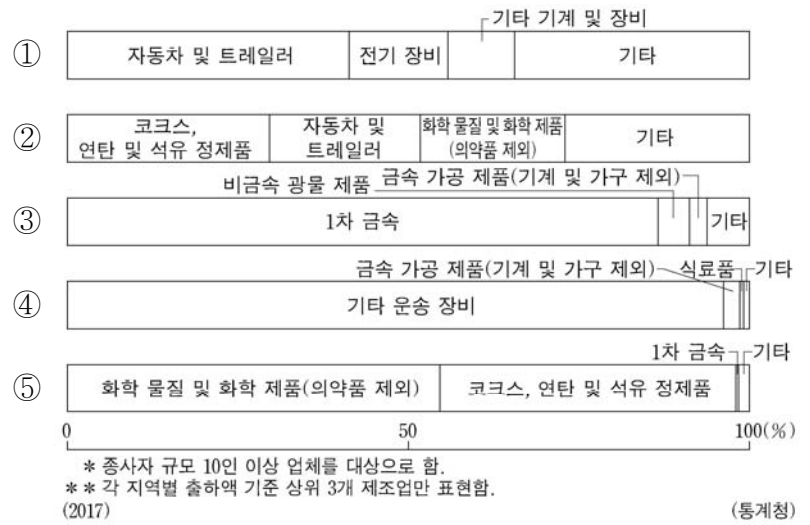
※ (가)~(다)에서 설명하는 도시를 지도에서 찾아 하나씩 지운 후 남은 도시 A를 쓰시오. (단, (가)~(다)와 A는 각각 지도에 표시된 도시 중 하나임.)

(가) 2012년에 세계 박람회가 개최되었던 이 도시에는 정유 공장을 중심으로 한 대규모 석유 화학 단지가 있다.

(나) 인접한 세 개의 시(市)가 통합되어 인구 100만이 넘는 이 도시에는 기계 공업 단지, 자동차 생산 공장이 있다.

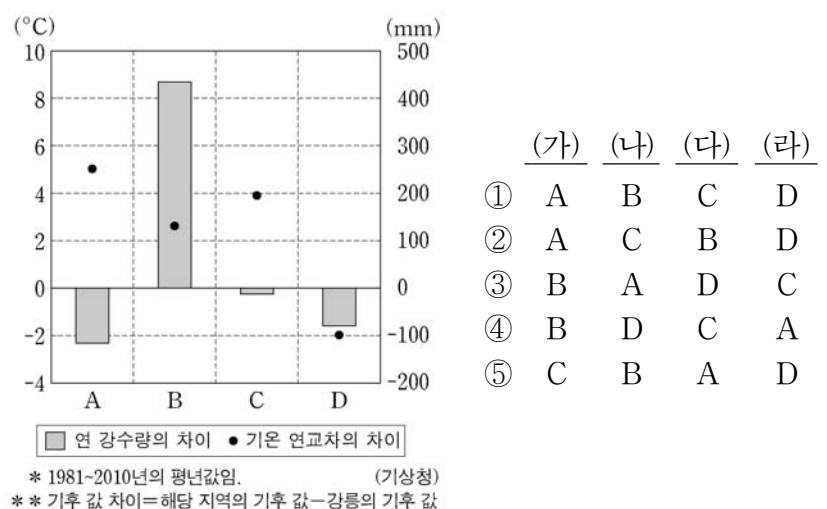
(다) 1960년대까지 한적한 어촌이었던 이 도시는 석유 화학 단지, 자동차 생산 공장, 대규모 조선소가 들어서면서 공업 도시가 되었다.

정답 : (가)~(다) 도시를 지운 후 남은 도시는 A이다.



10. 다음 글의 (가)~(라)에 해당하는 지역을 그래프의 A~D에서 고른 것은? (단, 그래프는 각각 (가)~(라) 지역과 강릉의 기후 값 차이를 나타낸 것임.) [3점]

- (가) 강원도의 도청 소재지로 전형적인 분지이며, 댐 건설로 조성된 호수를 끼고 있어 '호반의 도시'로 불린다.
- (나) 영동 지방과 영서 지방을 잇는 고개로 인근에 동계 올림픽 경기장과 풍력 발전 단지가 있으며, 고랭지 농업이 발달해 있다.
- (다) 우리나라의 수위 도시로 중앙 정부 기관을 비롯하여 대기업의 본사, 금융 기관의 본점 등이 위치해 있다.
- (라) 섬의 중앙에는 칼데라 분지가 있으며, 분지 내에는 중앙 화구구가 있어 전체적으로 이중 화산의 특징을 보이고 있다.



11. 다음 자료는 온라인 학습 장면의 일부이다. 답글 ㉠~㉤ 중에서 옳은 내용을 고른 것은?

한국 지리 온라인 학습

◎ 지도의 A~H 중 세 지역을 골라 공통점을 답글로 달아 보세요.

답글(5)

- ↳ A, B, C에는 주택난 해결을 위해 건설한 수도권 1기 신도시가 위치해 있어요. ㉠
- ↳ C, D, E는 각 도(道)에서 인구 규모가 가장 큰 도시예요. ㉡
- ↳ C, F, G에는 지방 행정의 중심이 되는 도청이 위치하고 있어요. ㉢
- ↳ D, E, G는 서울과 '수도권 전철'로 연결되면서 접근성이 향상되었어요. ㉣
- ↳ D, E, H에는 특정 산업을 중심으로 민간 기업이 주도하여 개발하는 기업 도시로 지정된 곳이 있어요. ㉤

- ① ㉠ ② ㉡ ③ ㉢ ④ ㉣ ⑤ ㉤

12. 다음은 한국 지리 수업 시간에 작성한 학습 노트이다. ㉠~㉤에 대한 설명으로 옳은 것만을 <보기>에서 있는 대로 고른 것은?

주제: 우리나라의 국지 기후

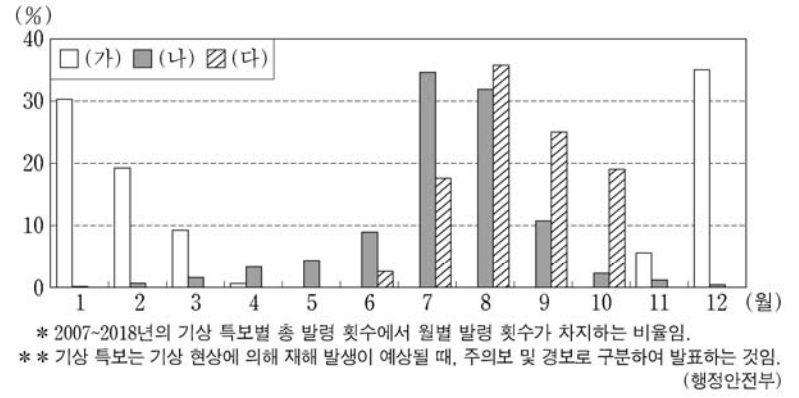
- ㉠기온 역전 현상: 분지에서는 복사 냉각이 활발하게 일어날 경우, 지표면이 식으면서 하층의 기온이 급격히 낮아지고 상층으로 갈수록 기온이 높아진다. ㉡기온 역전층이 형성되면 차가운 공기가 축적되어 저온에 따른 농작물 피해가 나타나기도 한다.
- 도시 기후: 건물과 도로로 덮인 도시 지역에서는 빗물이 땅속으로 제대로 흡수되지 못하고 대부분 지표로 유출되며, ㉢포장된 지표면적이 넓어 주변 농촌에 비해 도시 내부의 기온이 많이 상승한다. 최근에는 ㉤도시 지역의 기후 환경을 개선하기 위한 노력이 이루어지고 있다.

<보 기>

- ㉠. ㉠은 기온의 일교차가 크고 바람이 없는 맑은 날 밤에 잘 나타난다.
- ㉡. ㉡으로 인해 안개가 자주 발생한다.
- ㉢. ㉢으로 인해 도시는 주변 농촌보다 상대 습도가 높다.
- ㉣. ㉣은 바람길 조성, 건물 옥상 녹화 사업 등이 있다.

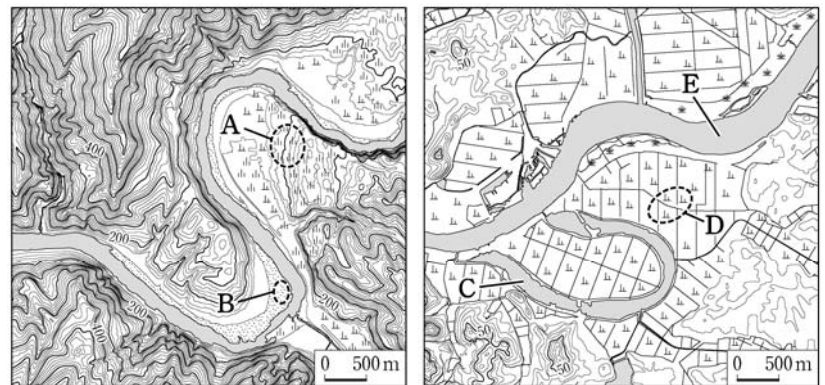
- ① ㉠, ㉡ ② ㉠, ㉢ ③ ㉢, ㉣
 ④ ㉠, ㉡, ㉣ ⑤ ㉡, ㉢, ㉣

13. 그래프는 월별 자연재해 기상 특보 발령 현황을 나타낸 것이다. (가)~(다)에 대한 설명으로 옳은 것은? (단, (가)~(다)는 각각 대설, 태풍, 호우 중 하나임.) [3점]



- ① (가)는 장마 전선이 한반도에 장기간 정체할 때 발생한다.
- ② (나)는 시베리아 기단이 강하게 영향을 미칠 때 주로 발생한다.
- ③ (다)는 우리나라에서 대체로 진행 방향의 오른쪽이 왼쪽보다 바람 세기가 강하다.
- ④ (가)는 (나)보다 우리나라 연 강수량에서 차지하는 비율이 높다.
- ⑤ 터돋움집은 (가), 우데기는 (나)를 대비한 시설이다.

14. 지도의 A~E 지형에 대한 설명으로 옳은 것만을 <보기>에서 고른 것은? [3점]

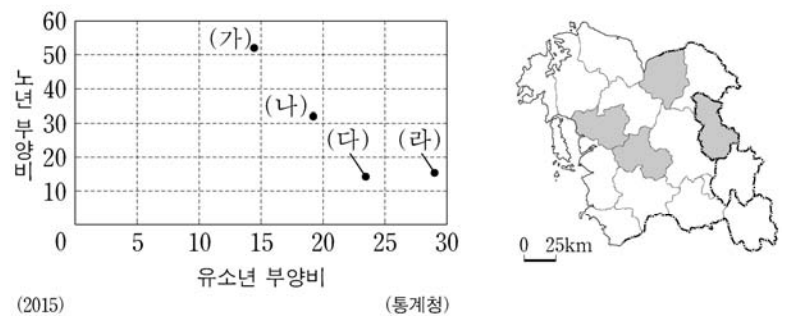


<보 기>

- ㉠. A는 하천의 퇴적 작용으로 형성된 범람원이다.
- ㉡. B의 퇴적물은 주로 최종 빙기 때 퇴적되었다.
- ㉢. C는 과거에 E 하천의 일부였다.
- ㉣. B는 D보다 퇴적물의 평균 입자 크기가 크다.

- ① ㉠, ㉡ ② ㉠, ㉢ ③ ㉡, ㉣ ④ ㉡, ㉣ ⑤ ㉢, ㉣

15. 그래프는 지도에 표시된 네 지역의 인구 특성을 나타낸 것이다. (가)~(라) 지역에 대한 설명으로 옳은 것은? [3점]



- ① (가)는 (나)보다 총인구가 많다.
- ② (가)는 (라)보다 서비스업 종사자 수가 많다.
- ③ (나)는 (다)보다 청장년층 인구 비율이 높다.
- ④ (다)는 (나)보다 외국인 근로자 수가 많다.
- ⑤ (라)는 (다)보다 제조업 종사자 수가 많다.

4 (한국 지리)

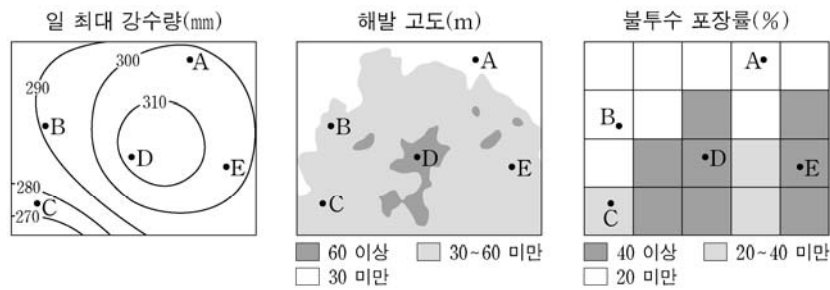
사회탐구 영역

16. 다음의 <조건>만을 고려하여 홍수를 대비하기 위한 시설의 입지를 선정하려고 할 때, 가장 적절한 곳을 후보지 A~E에서 고른 것은?

<조 건>


평가 항목별 배점 기준은 다음과 같으며, 점수의 합이 가장 큰 지역을 선정함.

점수	일 최대 강수량(mm)	해발 고도(m)	불투수 포장률(%)
1점	280 미만	60 이상	20 미만
2점	280~300 미만	30~60 미만	20~40 미만
3점	300 이상	30 미만	40 이상



- ① A ② B ③ C ④ D ⑤ E

17. 그래프는 세 작물의 지역별 재배 면적 비율을 나타낸 것이다. (가)~(라) 지역에 대한 설명으로 옳은 것만을 <보기>에서 고른 것은? (단, (가)~(라)는 각각 지도에 표시된 지역 중 하나임.) [3점]

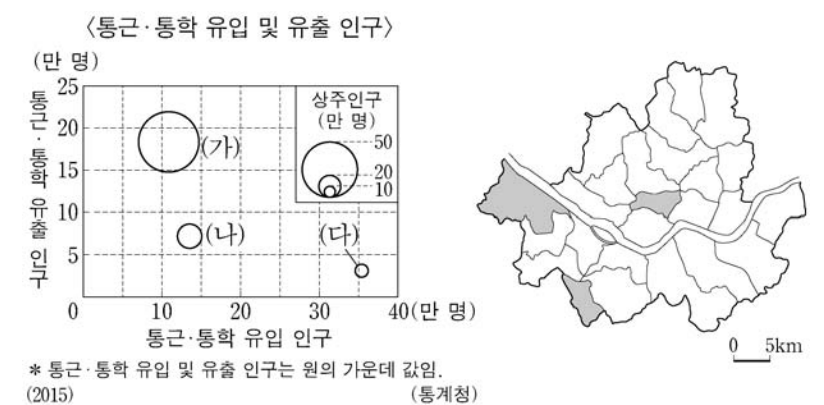


<보 기>

가. (나)는 (가)보다 농가당 경지 면적이 넓다.
 나. (다)는 (라)보다 시설 재배 면적이 넓다.
 다. (라)는 (가)보다 경지 면적 중 밭 비율이 높다.
 라. (가)~(라) 중 농가 수는 (라)가 가장 많다.

- ① 가, 나 ② 가, 다 ③ 나, 다 ④ 나, 라 ⑤ 다, 라

18. (가)~(다) 지역에 대한 설명으로 옳은 것은? (단, (가)~(다)는 각각 지도에 표시된 세 지역 중 하나임.) [3점]



- ① (가)는 (나)보다 주간 인구 지수가 높다.
 ② (나)는 (다)보다 제조업체 수가 많다.
 ③ (나)는 (다)보다 시가지 형성 시기가 이르다.
 ④ (다)는 (가)보다 대형 마트 수가 많다.
 ⑤ (다)는 (나)보다 거주자의 평균 통근 거리가 멀다.

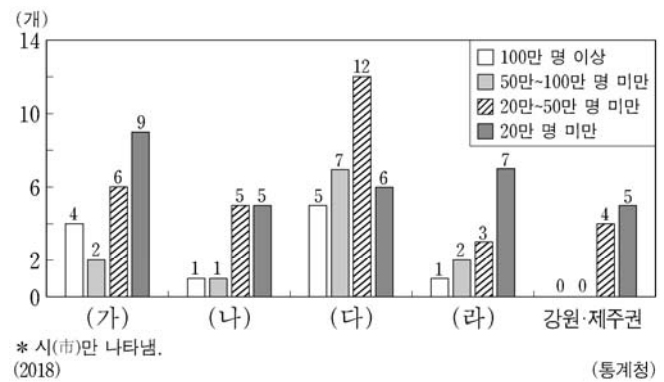
19. 다음은 해안 지형에 관한 체험 학습 보고서의 일부이다. ㉠~㉣에 대한 설명으로 옳은 것은?

㉠의 형성 및 분포
 • 파랑과 연안류에 의해 퇴적되어 형성된 ㉠의 모래가 바람에 날려 그 배후에 퇴적되어 형성됨.
 • 서해안의 경우 북서 계절풍의 영향을 많이 받는 해안에서 두드러지게 나타남.
 • 태풍이나 해일 피해를 완화해 주는 자연 방파제 역할을 함.

㉡의 형성 및 분포
 • 과거 파랑의 침식으로 평탄해진 ㉡(이)나, 해안 퇴적 지형이 지반 융기나 해수면 변동으로 인해 해발 고도가 높아지면서 형성됨.
 • 전면에는 파랑의 침식으로 형성된 해안 절벽인 ㉢이 나타남.
 • 지반 융기량이 많은 동해안에서 잘 관찰되며, 농경지로 이용되거나 취락이 입지함.

- ① ㉠은 담수를 저장하는 물 저장고 역할을 한다.
 ② ㉠은 ㉡보다 퇴적물의 평균 입자 크기가 크다.
 ③ ㉡과 ㉢은 주로 파랑 에너지가 분산되는 만(灣)에 발달한다.
 ④ ㉡은 ㉢이 육지 쪽으로 후퇴하면서 점점 좁아진다.
 ⑤ ㉠과 ㉡의 침식을 막기 위해 모래 포집기가 설치된다.

20. 그래프는 인구 규모에 따른 권역별 도시 분포에 관한 것이다. 이에 대한 설명으로 옳은 것만을 <보기>에서 고른 것은? (단, (가)~(라)는 각각 수도권, 영남권, 충청권, 호남권 중 하나임.)



<보 기>

가. (가)의 100만 명 이상의 도시들은 모두 광역시이다.
 나. (다)는 (가)보다 지역 내 총생산이 많다.
 다. (다)는 (라)보다 도시 거주 인구 비율이 높다.
 라. (가)는 수도권, (나)는 충청권, (다)는 영남권, (라)는 호남권이다.

- ① 가, 나 ② 가, 다 ③ 나, 다 ④ 나, 라 ⑤ 다, 라

* 확인 사항

○ 답안지의 해당란에 필요한 내용을 정확히 기입(표기)했는지 확인 하시오.

2020학년도 대학수학능력시험

사회탐구 영역 정답표
(한국 지리) 과목

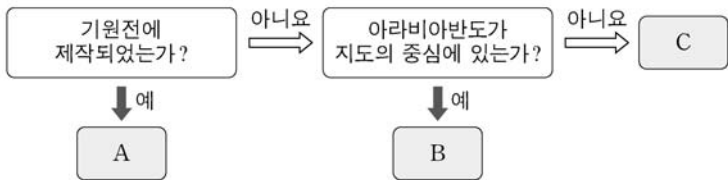
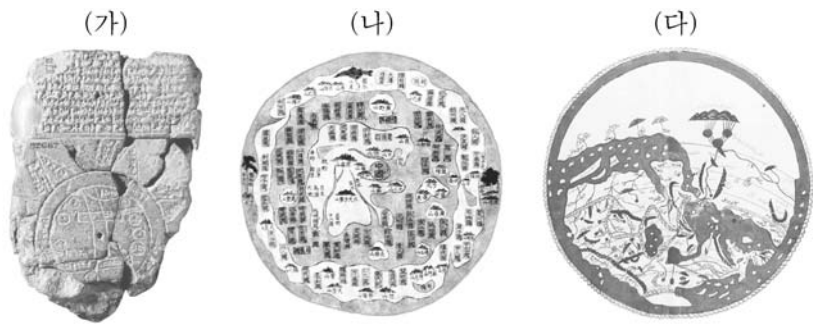
문항 번호	정 답	배 점	문항 번호	정 답	배 점	문항 번호	정 답	배 점	문항 번호	정 답	배 점
1	④	2	6	④	2	11	⑤	2	16	⑤	2
2	②	2	7	②	3	12	④	2	17	③	3
3	①	3	8	③	3	13	③	3	18	②	3
4	⑤	3	9	①	2	14	⑤	3	19	①	2
5	②	2	10	①	3	15	④	3	20	③	2

제 4 교시

사회탐구 영역(세계 지리)

성명 수험 번호 - 제 [] 선택

1. (가)~(다) 지도의 특징을 그림의 A~C에서 고른 것은?

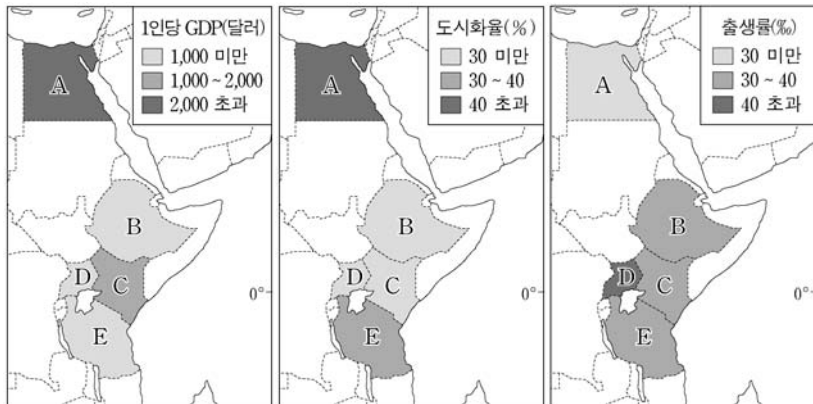


- | | | | | | | | |
|---|-----|-----|-----|---|-----|-----|-----|
| | (가) | (나) | (다) | | (가) | (나) | (다) |
| ① | A | B | C | ② | A | C | B |
| ③ | B | A | C | ④ | B | C | A |
| ⑤ | C | B | A | | | | |

2. 다음 자료를 토대로 하나의 국가를 선택하여 출산 의료 센터의 건립을 지원하고자 한다. 가장 적합한 국가를 지도의 A~E에서 고른 것은? (단, 합산 점수가 가장 높은 국가를 선택함.)

<점수 산정 기준>

점수	평가 항목	1인당 GDP(달러)	도시화율(%)	출생률(‰)
1점		2,000 초과	40 초과	30 미만
2점		1,000~2,000	30~40	30~40
3점		1,000 미만	30 미만	40 초과



- ① A ② B ③ C ④ D ⑤ E

3. 다음 자료의 밑줄 친 ㉠, ㉡에 대한 설명으로 옳은 것만을 <보기>에서 있는 대로 고른 것은? [3점]

이탈리아의 전통적인 피자(pizza)는 ㉠ 밀가루로 만든 도우(빵) 위에 치즈, 바질, 토마토, 올리브 등을 얹어서 화덕에 구운 음식이다.

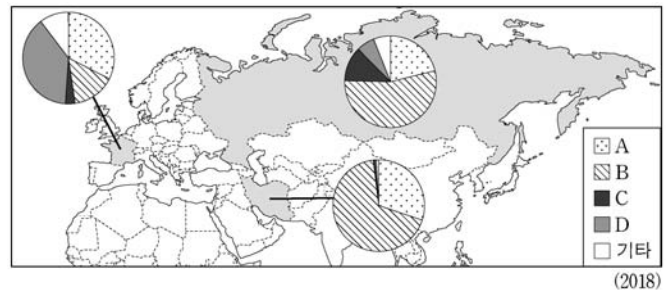
터키를 대표하는 음식인 케밥(kebab)은 유목민이 기르던 ㉡ 양의 고기를 비롯한 각종 고기를 꼬챙이에 끼워 불에 구워 먹는 요리이다.

<보기>

- ㄱ. ㉠의 생산량은 아시아가 유럽보다 많다.
- ㄴ. ㉠은 벼(쌀)보다 내건성 및 내한성이 우수한 식량 작물이다.
- ㄷ. ㉡의 사육 두수가 가장 많은 국가는 브라질이다.
- ㄹ. ㉡의 고기는 이슬람교에서 금기시되는 음식 재료이다.

- ① ㄱ, ㄴ ② ㄴ, ㄹ ③ ㄷ, ㄹ
 ④ ㄱ, ㄴ, ㄷ ⑤ ㄱ, ㄷ, ㄹ

4. 그래프는 지도에 표시된 세 국가의 1차 에너지 소비 구조를 나타낸 것이다. 이에 대한 설명으로 옳은 것은? (단, A~D는 각각 석유, 석탄, 원자력, 천연가스 중 하나임.) [3점]



- ① A는 고기 습곡 산지에서 주로 생산된다.
- ② C는 B보다 연소 시 대기 오염 물질 배출량이 적다.
- ③ D는 C보다 상용화된 시기가 이른다.
- ④ 국가 내 석탄 소비 비율은 프랑스가 러시아보다 높다.
- ⑤ 세 국가 중 국가 내 천연가스 소비 비율은 이란이 가장 높다.

5. 다음 글의 밑줄 친 ㉠~㉣에 대한 설명으로 옳지 않은 것은?

○ 1980년대 후반에 세계 여러 나라는 몬트리올 의정서를 채택하여 ㉠ 오존층 파괴 물질의 배출을 엄격히 제한하였다. 그 결과, 2015년에 측정된 ㉡ 오존홀(구멍)은 1990년대 중반과 비교해 대폭 축소되었다.

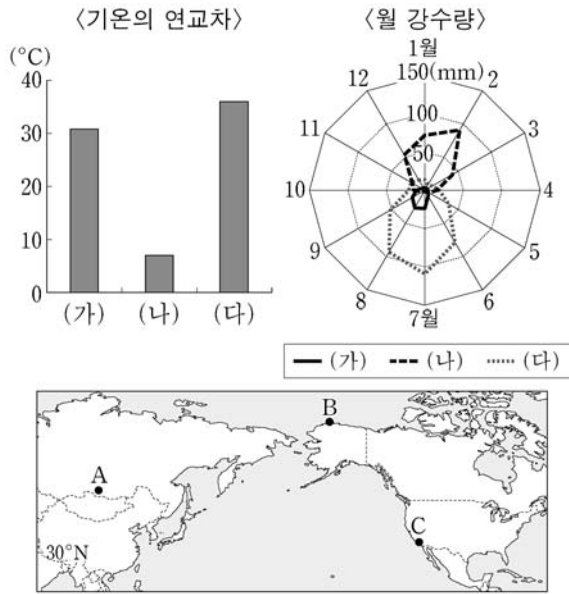
○ 산업 혁명 이후 화석 연료의 사용이 급증하면서 ㉢ 온실가스의 배출량이 크게 증가하였다. 이에 따라 온실 효과가 강화되면서 ㉣ 지구 온난화가 빠르게 진행되고 있다. 그 결과 ㉤ 북극해의 해빙(海氷) 면적 감소, 고산 지대의 만년설 감소 등의 변화가 나타나고 있다.

- ① ㉠의 주요 원인 물질은 염화플루오린화탄소(CFCs)이다.
- ② ㉡은 남극 상공에서 관측되었다.
- ③ ㉢의 증가 문제를 해결하기 위해 람사르 협약이 체결되었다.
- ④ ㉣로 인해 고산 식물의 평균 분포 고도가 높아지고 있다.
- ⑤ ㉤으로 인해 연중 북극 항로의 항해 가능 일수가 증가하였다.

2 (세계 지리)

사회탐구 영역

6. 그래프의 (가)~(다)에 해당하는 지역을 지도의 A~C에서 고른 것은?



- | | | | | | | | |
|---|-----|-----|-----|---|-----|-----|-----|
| | (가) | (나) | (다) | | (가) | (나) | (다) |
| ① | A | B | C | ② | A | C | B |
| ③ | B | A | C | ④ | B | C | A |
| ⑤ | C | B | A | | | | |

7. 다음은 세계 지리 수업의 한 장면이다. 교사의 질문에 대해 옳은 대답을 한 학생만을 고른 것은? [3점]

자료는 국제축구연맹(FIFA) 순위 상위 10개 국가(지역)를 나타낸 것입니다. 이 국가(지역)들의 문화적 특징에 대해 발표해 볼까요?

1위	벨기에	6위	우루과이
2위	프랑스	7위	에스파냐
3위	브라질	8위	크로아티아
4위	잉글랜드	9위	콜롬비아
5위	포르투갈	10위	아르헨티나

(2019. 09. 19. 남자팀 기준)

갑: 포르투갈어를 공용어로 사용하는 국가는 모두 같은 대륙에 있어요.

을: 잉글랜드는 주로 영어를 사용하는 지역이에요.

병: 에스파냐어를 공용어로 사용하는 국가는 모두 3개예요.

정: 프랑스어를 공용어로 사용하는 국가는 포르투갈어를 공용어로 사용하는 국가보다 순위가 높아요.

* 공용어는 국가 단위로만 고려함.
** 국제축구연맹(FIFA)은 영국을 네 지역(잉글랜드, 웨일스, 스코틀랜드, 북아일랜드)으로 구분하여 순위를 산정함.

- ① 갑, 을 ② 갑, 병 ③ 을, 병 ④ 을, 정 ⑤ 병, 정

8. 다음 글의 (가), (나) 도시에 대한 설명으로 옳은 것만을 <보기>에서 고른 것은?

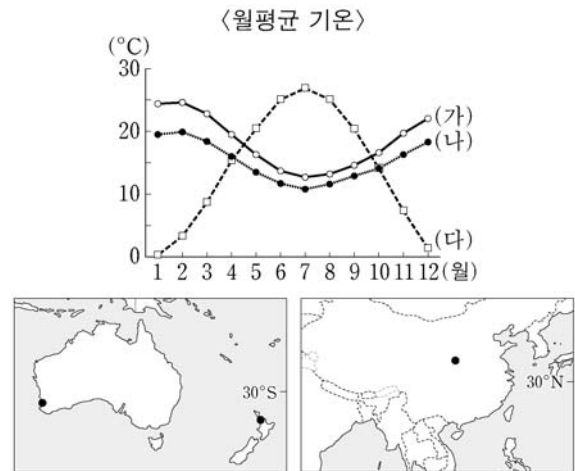
- (가) 은/는 남반구에 위치한 대도시로 2016년 하계 올림픽을 개최하였다. '파벨라'라고 불리는 빈민가는 관광 상품으로 개발되어 명소가 되었고, 올림픽 개최 이후에도 많은 관광객이 방문하고 있다.
- (나) 은/는 세계적인 경제·문화의 중심지로 도심에는 초고층 빌딩이 밀집해 있다. 특히 맨해튼의 '월스트리트'에는 대형 금융 업체와 증권사가 집중되어 있다. 반면 도시 내부에서는 경제적 양극화로 인해 저소득층 주거지도 나타난다.

〈보기〉

ㄱ. (가)는 오세아니아 대륙에 위치한다.
 ㄴ. (나)에는 국제 연합(UN) 본부가 있다.
 ㄷ. (가)는 (나)보다 세계 500대 다국적 기업의 본사 수가 많다.
 ㄹ. (나)는 (가)보다 생산자 서비스업 종사자 비율이 높다.

- ① ㄱ, ㄴ ② ㄱ, ㄷ ③ ㄴ, ㄷ ④ ㄴ, ㄹ ⑤ ㄷ, ㄹ

9. 그래프는 지도에 표시된 세 지역의 기후 자료이다. (가)~(다) 지역에 대한 설명으로 옳은 것은? [3점]



- ① (가)는 주로 벼농사가 이루어지는 온난 습윤한 지역이다.
 ② (나)에서는 오렌지, 올리브 등의 수목 농업이 주로 이루어진다.
 ③ (다)의 낮 길이는 1월이 7월보다 길다.
 ④ (가)와 (나)는 주로 무역풍의 영향을 받는다.
 ⑤ (나)는 (다)보다 1월 강수량이 많다.

10. 다음은 여행을 마치고 작성한 블로그 내용의 일부이다. 밑줄 친 ㉠~㉣에 대한 옳은 설명만을 <보기>에서 고른 것은? [3점]

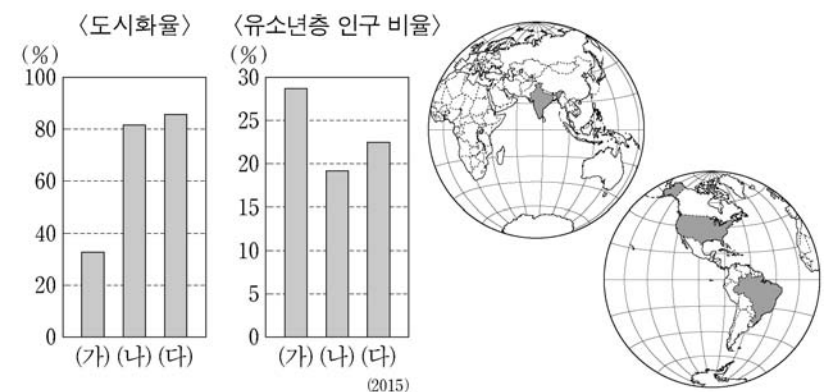
제목: 미국 서부의 건조 지대를 다녀오다.
 지난 며칠 동안 미국 서부 건조 지대의 여러 명소를 둘러보았다. ㉠ 데스밸리에는 며칠 전 폭우로 인해 일시적으로 생긴 호수가 있었고, 주변에는 관목류가 군데군데 눈에 띄었다. 이곳은 ㉡ 증발량이 강수량보다 더 많은 사막이다. ㉢ 매우 적은 강수량과 큰 기온의 일교차를 보이는 사막의 밤은 생각보다 추웠다. 다음 날 모뉴먼트밸리에서는 ㉣ 평원에 우뚝 솟은 뷰트, 메사라 불리는 거대한 지형을 볼 수 있었다.

〈보기〉

ㄱ. ㉠의 주변에는 카나트라는 지하 관개 수로가 발달해 있다.
 ㄴ. ㉡에 있는 바하다는 유수에 의해 형성된 퇴적 지형이다.
 ㄷ. ㉢에 의해 화학적 풍화가 활발하게 진행된다.
 ㄹ. ㉣은 경암과 연암이 차별 침식을 받아 형성되었다.

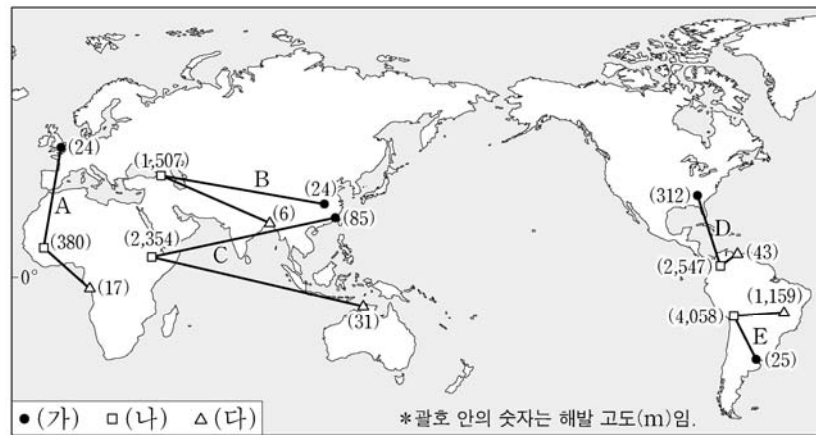
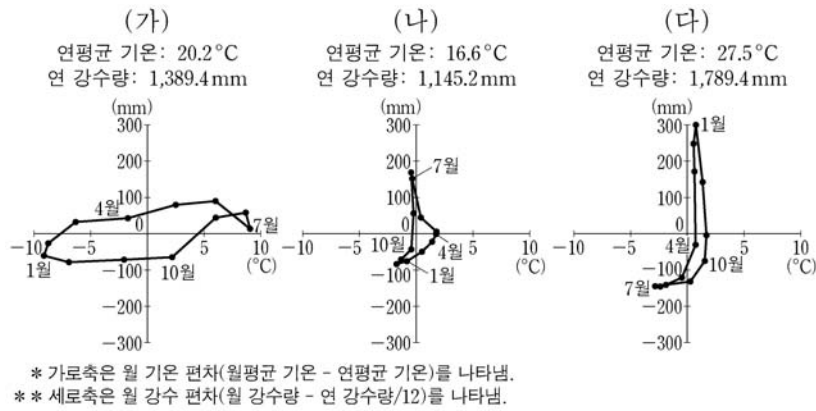
- ① ㄱ, ㄴ ② ㄱ, ㄷ ③ ㄴ, ㄷ ④ ㄴ, ㄹ ⑤ ㄷ, ㄹ

11. 그래프는 지도에 표시된 세 국가의 특성을 나타낸 것이다. (가)~(다) 국가에 대한 설명으로 옳은 것은?



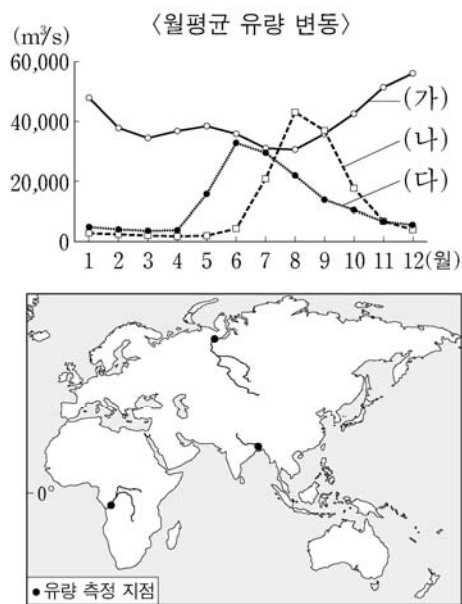
- ① (가)는 남아메리카 대륙에 위치한다.
 ② (가)는 (다)보다 국토의 면적이 좁다.
 ③ (나)는 (다)보다 1인당 국내 총생산(GDP)이 적다.
 ④ 총인구는 (다) > (나) > (가) 순으로 많다.
 ⑤ (가)~(다) 중 국가 내 서비스업 종사자 비율은 (다)가 가장 높다.

12. 그래프는 세 지역의 기후 특성을 나타낸 것이다. (가)~(다) 지역을 바르게 연결한 선을 지도의 A~E에서 고른 것은? [3점]



- ① A ② B ③ C ④ D ⑤ E

13. 그래프는 지도에 표시된 세 하천의 유량 변동을 나타낸 것이다. (가)~(다) 하천에 대한 설명으로 옳은 것은?



- ① (가) 유역에는 포드졸이 넓게 분포한다.
 ② (나) 유역은 대부분 건조 기후 지역에 속한다.
 ③ (다)는 봄철에 눈과 얼음이 녹으면서 유량이 증가한다.
 ④ (가)는 (나)보다 유량 측정 지점에서 관측된 월평균 유량의 변동 폭이 크다.
 ⑤ (나)는 북극해, (다)는 인도양으로 유입된다.

14. 다음은 세계의 대지형 단원의 수업 장면이다. 교사의 질문에 옳은 대답을 한 학생만을 <보기>에서 고른 것은?

(가)~(다) 국가를 배경으로 한 다큐멘터리의 제목입니다. (가)~(다) 국가와 세계의 대지형을 연관시켜 설명해 볼까요?

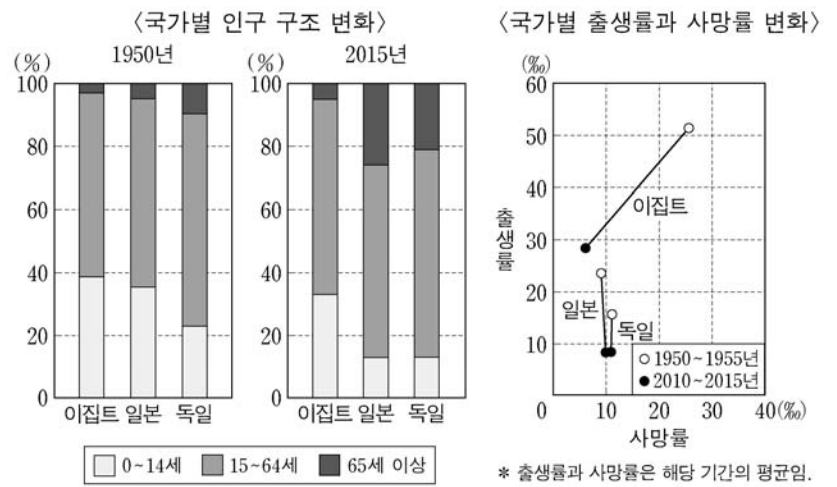
- (가)
 - 불의 땅을 가다, 북섬
 - 빙하 위를 걷다, 남섬
 - 화산 위의 사람들, 마오리족
- (나)
 - 지상에서 천상으로 향하는 산, 칸첸중가
 - 고대 왕국의 도시, 카트만두
 - 세상의 어머니, 에베레스트산
- (다)
 - 잉카의 보석, 티티카카 호수
 - 빛나는 태양제, 인티라이미
 - 신비의 공중 도시, 마추픽추

<보 기>

ㄱ. 갑: (가)에는 유라시아 판과 인도·오스트레일리아 판의 충돌로 형성된 8,000m 이상의 습곡 산지가 있습니다.
 ㄴ. 을: (나)에는 단층 활동으로 형성된 수천km의 지구대가 발달되어 있습니다.
 ㄷ. 병: (다)의 서쪽 바다에서는 남아메리카 판과 나스카 판이 만나며, 해구가 발달되어 있습니다.
 ㄹ. 정: (나)는 알프스-히말라야 조산대, (다)는 환태평양 조산대에 속해 있습니다.

- ① ㄱ, ㄴ ② ㄱ, ㄷ ③ ㄴ, ㄷ ④ ㄴ, ㄹ ⑤ ㄷ, ㄹ

15. 그래프는 세 국가의 인구 특성을 나타낸 것이다. 이에 대한 설명으로 옳은 것은? [3점]

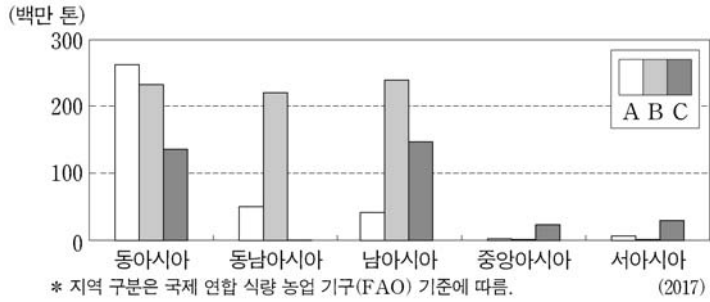


- ① 1950년 총부양비는 이집트가 가장 낮다.
 ② 1950년 유소년 인구 부양비는 독일이 가장 높다.
 ③ 2015년 노년 인구 부양비는 일본이 독일보다 낮다.
 ④ 1950~1955년 인구의 자연 증가율은 일본이 이집트보다 낮다.
 ⑤ 세 국가 중 2010~2015년 인구 1,000명당 사망자 수가 가장 많은 국가는 이집트이다.

4 (세계 지리)

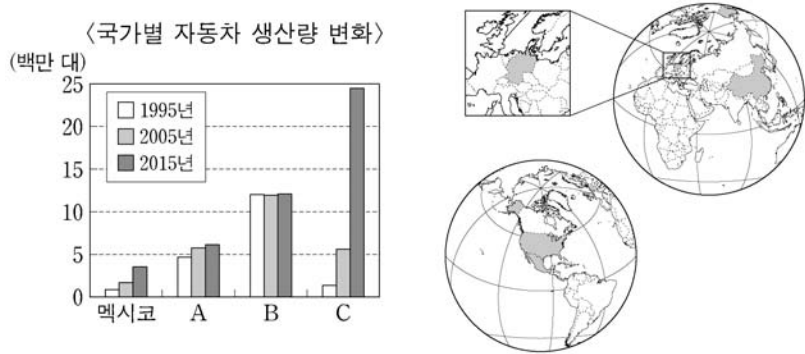
사회탐구 영역

16. 그래프는 세 식량 작물의 아시아 대륙 내 지역별 생산량을 나타낸 것이다. A~C에 대한 설명으로 옳은 것은? (단, A~C는 각각 밀, 쌀, 옥수수 중 하나임.) [3점]



- ① A의 세계 최대 수출국은 아시아에 위치한다.
- ② B의 대부분은 가축의 사료로 이용된다.
- ③ C는 세 식량 작물 중 단위 면적당 생산량이 가장 많다.
- ④ A는 B보다 세계 생산량에서 아시아가 차지하는 비율이 높다.
- ⑤ B와 C의 기원지는 아시아에 위치한다.

17. 그래프는 지도에 표시된 네 국가의 자동차 생산량 변화를 나타낸 것이다. 이에 대한 설명으로 옳은 것은? [3점]



- ① B는 유럽 연합(EU)의 회원국이다.
- ② A는 C보다 2015년 국내 총생산(GDP) 규모가 크다.
- ③ B는 C보다 2015년 제조업 종사자 수가 많다.
- ④ 2005년 자동차 생산량은 중국이 미국보다 많다.
- ⑤ 1995년 대비 2015년 자동차 생산량 증가율은 멕시코가 독일보다 높다.

18. 다음 자료의 (가)에 해당하는 국가로 옳은 것은?

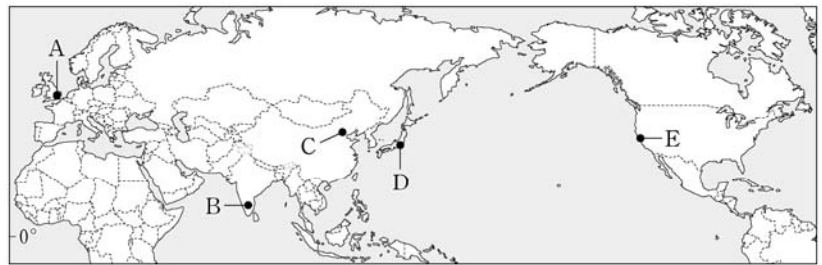
(가) 여행의 세 가지 테마

<p>사막 마라톤 관람</p> <p>폭염 속에서 최소한의 물과 식량만으로 약 250km를 달리는 사막 마라톤 관람</p>	<p>스키 체험</p> <p>사계절이 모두 있는 나라. 아틀라스 산맥에 내리는 폭설을 이용한 자연설 스키 체험</p>	<p>시티 투어</p> <p>흰색 가옥이 많아 도시 이름이 '하얀 집'을 뜻하는 카사블랑카(Casablanca) 투어</p>
---------------------------------------------------------------------	-------------------------------------------------------------------	-----------------------------------------------------------------------

- ①
- ②
- ③
- ④
- ⑤

19. 다음 글의 (가)~(다)에 해당하는 도시를 지도의 A~E에서 고른 것은? [3점]

- (가) 고원 지대에 위치하여 주변 저지대에 비해 기후 조건이 양호하다. 이 도시는 미국 서부와 밤낮이 반대이고, 영어에 능통한 젊은 공학도가 많아 수천 개의 IT 기업이 성장하였다.
- (나) 세계에서 인구가 가장 많은 국가의 수도로, 첨단 산업 위주의 '중관춘' 과학 기술 단지가 위치한다. 이곳은 주요 대학과 연구소가 밀집한 첨단 기술 지역으로 발전하였다.
- (다) 태평양 연안의 쾌적한 기후와 전문 인력을 쉽게 확보할 수 있는 고용 환경을 갖추고 있다. 이를 바탕으로 세계적인 첨단 기업들이 밀집한 '실리콘 밸리'가 형성되었다.



- | | | | | | |
|-----|-----|-----|-----|-----|-----|
| (가) | (나) | (다) | (가) | (나) | (다) |
| ① A | B | D | ② B | C | E |
| ③ B | D | E | ④ C | D | A |
| ⑤ C | E | A | | | |

20. 다음 자료는 세계 지리 사이버 학습 장면의 일부이다. (가)~(다)에 대한 설명으로 옳은 것만을 <보기>에서 있는 대로 고른 것은?

세계 지리 학습

갈등과 화합의 장소

국가	수도의 수리적 위치	국가 인구 (2018)
(가)	50°51' N, 4°21' E	약 1,150만 명
(나)	39°52' N, 32°52' E	약 8,190만 명
(다)	1°22' N, 103°48' E	약 580만 명

- <보기>
- ㄱ. (가)는 스위스로 네 언어가 공존하고 있다.
 - ㄴ. (나)에서는 쿠르드족의 분리·독립 운동이 일어나고 있다.
 - ㄷ. (다)에서는 불교, 이슬람교, 크리스트교, 힌두교 등이 공존하고 있다.
 - ㄹ. (가)와 (나)는 인접 국가와 종교적 갈등으로 인해 분쟁을 겪고 있다.

- ① ㄱ, ㄴ
- ② ㄴ, ㄷ
- ③ ㄱ, ㄴ, ㄷ
- ④ ㄱ, ㄷ, ㄹ
- ⑤ ㄴ, ㄷ, ㄹ

* 확인 사항
○ 답안지의 해당란에 필요한 내용을 정확히 기입(표기)했는지 확인 하시오.

2020학년도 대학수학능력시험

사회탐구 영역 정답표
(세계 지리) 과목

문항 번호	정 답	배 점	문항 번호	정 답	배 점	문항 번호	정 답	배 점	문항 번호	정 답	배 점
1	②	2	6	④	2	11	②	2	16	⑤	3
2	④	2	7	④	3	12	③	3	17	⑤	3
3	①	3	8	④	2	13	③	2	18	①	2
4	⑤	3	9	⑤	3	14	⑤	2	19	②	3
5	③	2	10	④	3	15	④	3	20	②	2

제 4 교시

사회탐구 영역 (동아시아사)

성명

수험 번호

제 [] 선택

1. 밑줄 친 '토기'에 해당하는 유물로 가장 적절한 것은?

■ 학습 주제: 베트남 지역의 신석기 문화

- 호아빈 문화
 - 땀석기와 초보 수준의 간석기 사용
- 문화
 - 신석기 후기에 발달
 - 농경 실시, 갈돌 사용
 - 돌림판을 사용하여 토기 제작



2. (가) 국가에 대한 설명으로 옳은 것은?

이들의 침입에 대비해 진(秦)은 만리장성을 쌓았어.

(가)에 대해 각자 조사해 온 내용을 발표해 보자.

동호를 복속시키고 월지를 중앙아시아 방면으로 몰아 내었어.

- 찌에우다가 건국하였다.
- 장건을 서역에 파견하였다.
- 파스파 문자를 사용하였다.
- 한 무제의 공격으로 세력이 약화되었다.
- 쭈쭈과 쭈니 자매의 저항 운동을 진압하였다.

3. (가)에 들어갈 내용으로 가장 적절한 것은?

제△△회 동아시아사 퀴즈 대회

마지막 힌트입니다.

문제 어느 나라일까요?

1단계	선비족이 건국하였습니다.
2단계	화북 지역을 통일하였습니다.
3단계	수도를 평성에서 쩐양으로 옮겼습니다.
4단계	(가)

- 교초를 발행하였습니다.
- 토목(보)의 변을 일으켰습니다.
- 다이카 개신을 단행하였습니다.
- 호한 융합 정책을 추진하였습니다.
- 인안, 대흥 등의 연호를 사용하였습니다.

4. 밑줄 친 '이 국가'의 통치 제도에 대한 설명으로 옳은 것은? [3점]

탄정대의 주요 관직을 역임한 ○○○은 중앙과 지방의 관제 등을 규정한 양로령(養老令)의 해설서 『영의해』 편찬에 참여하였다. 『영의해』는 이 국가에서 시행한 율령의 구체적인 모습을 알려 주는 중요한 자료이다.

- 이갑제를 실시하였다.
- 지방에 5소경을 설치하였다.
- 문화성에서 정책을 심의하였다.
- 중앙 교육 기관으로 주자감을 두었다.
- 좌변관과 우변관을 두어 행정을 분담하였다.

5. (가), (나) 국가에 대한 설명으로 옳은 것은? [3점]

수도를 포위당한 (가) 이가 (나) 에 큰아버지와 조카 관계를 서약한 국서를 보내고 우호 관계를 회복하였다. 얼마 후 (가) 이가 다시 군대를 일으켜 (나) 을/를 공격하였지만 오히려 수도가 함락되고 황제가 사로잡혔다. 이에 일부 황족이 강남으로 옮겨 가 임안(항저우)을 수도로 삼았다.

- (가)는 서하를 멸망시켰다.
- (가)는 맹안·모극제를 시행하였다.
- (가)는 (나)와 전연의 맹약을 체결하였다.
- (나)는 칭기즈 칸 군대의 공격을 받았다.
- (나)는 소손녕을 보내 고려를 공격하였다.

동아시아사

2 (동아시아사)

사회탐구 영역

6. 밑줄 친 '그'가 활동한 시기 동아시아 불교에 대한 설명으로 옳은 것은?



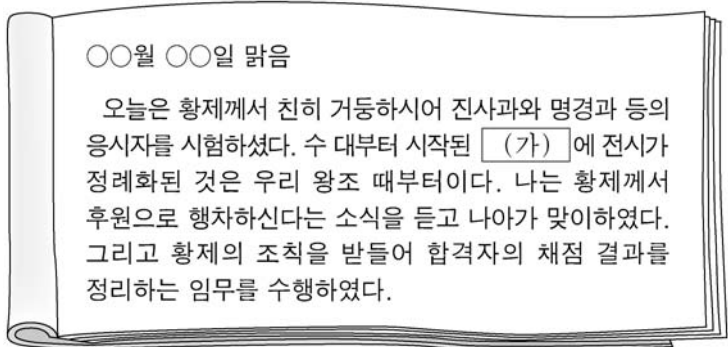
- ① 법현이 불국기를 저술하였다.
- ② 원강 석굴이 조성되기 시작하였다.
- ③ 혜자가 쇼토쿠 태자의 스승이 되었다.
- ④ 현장이 인도에서 불교 경전을 가져왔다.
- ⑤ 쇼무 천황의 명으로 도다이사가 건립되었다.

7. (가), (나) 시기 사이에 볼 수 있는 모습으로 가장 적절한 것은? [3점]

(가) 명은 푸젠(푸지엔)성 월항(月港)을 개방하고 동남아시아 방면으로 가는 민간 무역선의 출항을 허가하되 자국 선박의 일본 도항은 허용하지 않는 해금(海禁) 완화 조치를 내렸다.
 (나) 도요토미 히데요시는 토지 조사 사업을 통해 얻은 연공 수입, 그리고 이와미 등의 주요 은광에서 획득한 은을 중국산 생사와 교환하여 얻은 수익을 바탕으로 임진 전쟁을 일으켰다.

- ① 베이징을 포위하고 공격하는 몽골군
- ② 경신대기근으로 고통받는 조선 농민
- ③ 고다이코 천황에 반기를 들고 거병한 일본 무사
- ④ 일본에 최초로 조총을 전해 주는 포르투갈 표류민
- ⑤ 아메리카 은을 싣고 마닐라에 입항하는 에스파냐 상인

8. (가) 제도에 대한 설명으로 옳은 것만을 <보기>에서 고른 것은?



<보 기>
 가. 한국 - 신라에서 관리 등용을 위해 시행되었다.
 나. 중국 - 송 대 사대부 계층의 형성에 영향을 주었다.
 다. 일본 - 에도 막부의 쇼군이 다이묘를 통제하는 데 이용되었다.
 리. 베트남 - 리 왕조 대에 처음으로 실시되었다.

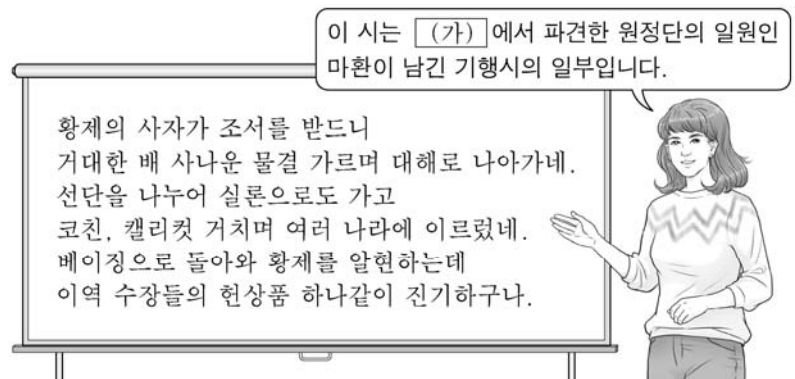
- ① 가, 나 ② 가, 다 ③ 나, 다 ④ 나, 리 ⑤ 다, 리

9. (가) 인물에 대한 설명으로 옳은 것은? [3점]



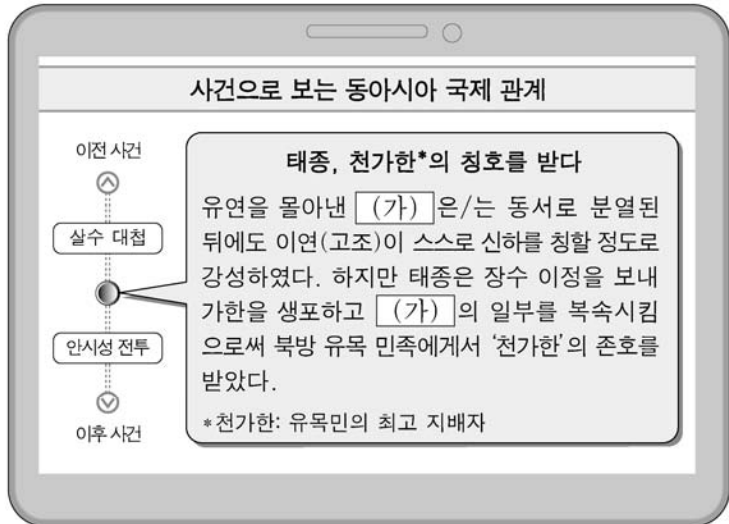
- ① 격몽요결을 집필하였다.
- ② 사서집주를 편찬하였다.
- ③ 백운동 서원을 건립하였다.
- ④ 사서오경왜훈을 저술하였다.
- ⑤ 치양지와 심즉리를 강조하였다.

10. (가) 왕조 시기 동아시아 각국의 대외 관계에 대한 설명으로 옳은 것은? [3점]



- ① 한국 - 중국에 만권당을 설치하였다.
- ② 한국 - 서양 역법에 기초한 시헌력을 도입하였다.
- ③ 중국 - 매킨토시 사절단의 통상 확대 요구를 거부하였다.
- ④ 일본 - 사쓰마번이 류큐 왕국을 침공하였다.
- ⑤ 베트남 - 중국 세력을 몰아 내고 응오 왕조가 수립되었다.

11. (가) 국가에 대한 설명으로 옳은 것은?



- ① 탕구트족이 세웠다.
- ② 백강 전투에 참여하였다.
- ③ 복주로부터 조공을 받았다.
- ④ 정복지에 다루가치를 보냈다.
- ⑤ 통신사와 연행사를 파견하였다.

12. 밑줄 친 ㉠ 사건 이후 동아시아 각국에서 볼 수 있는 상황으로 옳지 않은 것은?

강희제는 2만의 병력과 200여 척의 병선을 집결시켜 정씨 세력을 공격하였다. 주변 섬들이 함락되고 타이완 공격이 임박해지자 ㉠ 정씨 세력은 무기를 버리고 투항하였다. 이로써 타이완이 정복되고 반청 세력이 진압되었다.

- ① 한국 - 상평통보가 전국적으로 유통되었다.
- ② 한국 - 만상이 책문에서 후시 무역에 참여하였다.
- ③ 중국 - 강남에서 상공업 도시인 시진이 증가하였다.
- ④ 일본 - 덴메이 대기근으로 인구 성장이 정체되었다.
- ⑤ 일본 - 에도 막부가 무역선에 주인장을 발급하였다.

13. 다음 정책을 실시한 정부에 대한 설명으로 옳은 것은? [3점]

○ 수백 년 동안의 낡은 관습 때문에 명목만 남은 번(藩)이 있으니, 옛 다이묘의 영지인 번을 폐지하고 현(縣)으로 한다.
○ 지조(地租)를 개정할 후에는 토지 가격에 따라 과세하고, 풍년이라도 증세하지 않으며 흉년이라도 감세하지 않는다.

- ① 입헌 군주제를 규정한 헌법을 제정하였다.
- ② 미·일 화친 조약을 맺고 항구를 개항하였다.
- ③ 서양식 학제를 본떠 경사 대학당을 설립하였다.
- ④ 근대적 개혁을 위하여 통리기무아문을 설치하였다.
- ⑤ 서양의 군사 기술을 도입하자는 양무운동을 추진하였다.

14. (가), (나) 군대에 대한 설명으로 옳은 것은?

○ (가)의 근거지는 남만주와 압록강 연안인데, 이곳에 대한 일본군의 공세가 갈수록 엄중해질 것이다. 이에 (가)은/는 양세봉 장군의 지휘 아래 중국 의용군과 함께 투쟁해 나갈 것이다.
○ 정부가 공포한 군사 조직법에 의거하여 중화민국 영토 내에 (나)을/를 조직하고 대한민국 22년 9월 17일 총사령부의 창설을 선언한다. (나)은/는 중화민국 국민과 협력하여 일본 제국주의자들을 타도하기 위하여 항전을 계속한다.

- ① (가) - 흥경 일대에서 항일 운동을 전개하였다.
- ② (가) - 한·중 민족 항일 (대)동맹에 참여하였다.
- ③ (나) - 국민 혁명을 목표로 북벌을 개시하였다.
- ④ (나) - 대전자령 전투에서 일본군에 승리하였다.
- ⑤ (가), (나) - 조선 의용대의 일부를 받아들였다.

15. 밑줄 친 '서적'을 편찬한 왕조 시기 동아시아 문화에 대한 설명으로 옳은 것은? [3점]

이곳은 자금성 문연각입니다. 문연각은 황제의 명으로 관학자를 동원하여 중국의 역대 서책을 경(經)·사(史)·자(子)·집(集)의 4부로 분류·편찬한 서적을 보관했던 곳입니다.



- ① 해체신서가 간행되었다.
- ② 오경정의가 편찬되었다.
- ③ 제왕운기가 저술되었다.
- ④ 성리대전이 완성되었다.
- ⑤ 혼일강리역대국도지도가 제작되었다.

4 (동아시아사)

사회탐구 영역

16. 밑줄 친 '이 전쟁'에 대한 설명으로 옳은 것은? [3점]

광대한 영토를 가진 큰 나라가 몇 년이 지나도록 작은 나라를 물리치지 못하고 강남이 거의 함락되는 지경에 이르렀다. 나라 전체가 이토록 떠들썩하게 된 것은 무엇 때문인가? 작은 나라는 아편을 피우지도 못하게 하면서 큰 나라에 아편의 화(禍)를 전가했기 때문이다. 이에 황제께서 아편을 금지하는 엄하고 냉혹한 법을 내리니 그들의 원망이 점차 깊어져 이 전쟁이 일어나게 된 것이다.

- ① 영국과 일본의 동맹에 영향을 받았다.
- ② 청이 관세 자주권을 상실하는 원인이 되었다.
- ③ 러시아가 뤼순과 다렌을 조차하는 결과를 낳았다.
- ④ 일본이 중국에 타이완을 반환하는 계기가 되었다.
- ⑤ 독일이 일본에 산둥 이권을 빼앗기는 배경이 되었다.

17. (가), (나) 조약에 대한 설명으로 옳은 것은?

(가)

제4조 청은 배상금으로 일본에 은 2억 냡을 지불할 것을 약속한다.
제6조 청은 본 조약을 비준한 후 일본과 통상 항해 조약 및 육로 통상 장점을 체결할 것을 약속한다.

(나)


제6조 청은 각국에 대한 배상금으로 은 4억 5천만 냡을 지급하기로 한다.
제7조 청은 각국이 베이징의 외교 공관 일대를 전용 거주지로 삼고 군대를 상시 주둔시켜 각 공관을 보호하는 것을 허가한다.

- ① (가) - 8개국 연합군 출병의 결과로 체결되었다.
- ② (가) - 러시아가 주도하는 삼국 간섭을 초래하였다.
- ③ (나) - 미국의 중재로 포츠머스에서 조인되었다.
- ④ (나) - 평후 열도를 할양한다는 조항이 포함되었다.
- ⑤ (가), (나) - 조선이 자주 독립국임을 명시하였다.

18. 밑줄 친 '협상'이 이루어진 시기를 연표에서 옳게 고른 것은? [3점]

동아시아사 신문 ○○○○년 ○○월 ○○일

중국 국민당과 중국 공산당, 공동 성명 발표



장제스는 마오쩌둥에게 대화를 통해 함께 중국의 미래를 논의하자고 제안하였다. 마오쩌둥은 이에 응하여 미국의 중재로 개최된 협상에 참여하기 위해 충칭으로 가서 장제스를 만났다. 장제스와 마오쩌둥은 한 달여에 걸친 협상 끝에 마침내 공동 성명을 발표하였다.

(가)	(나)	(다)	(라)	(마)
만주국 수립	시안 사건 발생	베트남 독립 동맹 결성	포츠담 선언 발표	대한민국 정부 수립
				샌프란시스코 강화 조약 체결

- ① (가)
- ② (나)
- ③ (다)
- ④ (라)
- ⑤ (마)

19. (가) 도시에 대한 설명으로 옳은 것은? [3점]

POSTCARD

△△에게

사진 속 장소는 내가 사는 (가)에 있는 데지마야. 이곳에서는 옛 네덜란드 상관 건물을 복원해 당시 교역의 모습과 난학 관련 자료를 전시하고 있어. 다음에 이곳으로 여행 오면 내가 또 다른 명소도 소개해 줄게. 건강히 지내길 바라며 다시 연락하자.

2019. ○○. ○○.
□□□가



- ① 무로마치 막부가 설립되었다.
- ② 베트남 광복회가 조직되었다.
- ③ 극동 국제 군사 재판이 열렸다.
- ④ 일본 최초의 일간지가 발행되었다.
- ⑤ 미·일 수호 통상 조약으로 개항되었다.

20. (가), (나) 문서가 작성된 시기 사이에 있었던 사실로 옳은 것은?

(가)

올해 1월 일본과 미국 사이에 재차 조인된 안보 조약에 따라 일본 영토에 장기간 외국 군대가 주둔하고 군사 기지를 둘 수 있게 되었다. 이 조약은 소련 및 중화 인민 공화국의 이익에 중대한 영향을 미치는 것이다.

-소련 정부 각서-

(나)

올해 6월 반공 투쟁을 지원해 달라는 베트남 정부의 전투 부대 파병 요청에 의거하여, 국군 1개 사단 및 필요한 지원 부대를 대한민국과 베트남 양국 정부 간에 협의한 기간 또는 대한민국 정부가 정한 기간까지 베트남에 파견한다.

-국군 부대 파병에 관한 동의안-

- ① 일본에서 도쿄 올림픽이 개최되었다.
- ② 베트남 사회주의 공화국이 수립되었다.
- ③ 중국이 제1차 5개년 계획을 발표하였다.
- ④ 타이완이 일본과 평화 조약을 체결하였다.
- ⑤ 일·소 공동 선언에서 배상 청구권 문제가 합의되었다.

* 확인 사항

○ 답안지의 해당란에 필요한 내용을 정확히 기입(표기)했는지 확인 하시오.

2020학년도 대학수학능력시험

사회탐구 영역 정답표
(동아시아사) 과목

문항 번호	정 답	배 점	문항 번호	정 답	배 점	문항 번호	정 답	배 점	문항 번호	정 답	배 점
1	③	2	6	⑤	2	11	③	2	16	②	3
2	④	2	7	⑤	3	12	⑤	2	17	②	2
3	④	2	8	④	2	13	①	3	18	④	3
4	⑤	3	9	②	3	14	①	2	19	⑤	3
5	④	3	10	④	3	15	①	3	20	①	2

제 4 교시

사회탐구 영역(세계사)

성명

수험 번호

제 [] 선택

1. 다음 유물을 남긴 고대 문명에 대한 설명으로 옳은 것은? [3점]



- ① 사자의 서를 제작하였다.
- ② 길가메시 서사시를 남겼다.
- ③ 파르테논 신전을 건립하였다.
- ④ 하라파에 계획도시를 건설하였다.
- ⑤ 갑골에 점복의 내용을 기록하였다.

2. (가) 왕조에 대한 설명으로 옳은 것은?

태종 대에 이르러 (가) 은/는 중국의 일부를 다스리게 되면서 관제를 남과 북으로 나누었다. 유목 민족은 고유의 제도로 다스리고, 한인에게는 중국의 제도를 적용하였다. ... (중략)... 북면관은 궁장(宮帳)·부족·속국의 일을, 남면관은 한인의 주현·조세·군마의 일을 관장하였다.

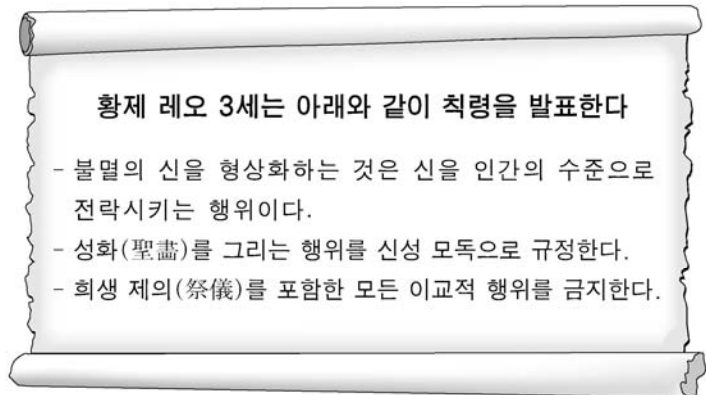
- ① 부병제를 실시하였다.
- ② 사서대전을 편찬하였다.
- ③ 연운 16주를 차지하였다.
- ④ 아구다(타)가 개창하였다.
- ⑤ 만한 병용제를 운영하였다.

3. 밑줄 친 '전쟁'의 결과로 옳은 것은?

아테네는 에게해 연안의 도시 국가들에게 동맹의 의무를 엄격하게 요구하였다. 그러나 동맹국은 시민들이 출병하길 싫어하여 금전으로 그에 상응하는 대가를 지불하였다. 이 자금을 바탕으로 아테네는 강력한 해군을 보유하게 되었고 동맹국들을 더욱 압박하였다. 이러한 상황에서 아테네가 전략적 요충지에 위치한 코르키라와 동맹을 맺자, 이에 위협을 느낀 일부 도시 국가들이 아테네를 상대로 전쟁을 일으켰다.

- ① 라티푼디움이 확산되었다.
- ② 아테네가 해상 제국으로 발전하였다.
- ③ 스파르타가 그리스의 패권을 장악하였다.
- ④ 페이시스트라토스가 참주정을 수립하였다.
- ⑤ 클레이스테네스가 도편 추방제를 도입하였다.

4. 다음 칙령에 대한 설명으로 옳은 것은? [3점]



- ① 동서 교회의 대립을 격화시켰다.
- ② 교황의 아비뇽 유수를 초래하였다.
- ③ 보름스 협약을 체결하는 계기가 되었다.
- ④ 트리엔트 공의회가 개최되는 배경이 되었다.
- ⑤ 클뤼니 수도원의 교회 개혁 운동을 촉발하였다.

5. 밑줄 친 '반란'이 일어난 왕조에서 볼 수 있는 모습으로 적절하지 않은 것은? [3점]

천보 4년, 양옥환은 귀비로 책봉되었다. 황제의 총애를 받은 덕분에 그녀의 친족들은 벼락출세를 하였다. 그중 재상이 된 양국충은 안녹(록)산을 시기하여 그를 제거하려다가 안녹산의 반란을 초래하였고, 황제를 모시고 피란 가던 도중에 양귀비와 함께 죽음을 맞았다.

- ① 탈라스 전투에 참전한 군인
- ② 청명상하도를 감상하는 황제
- ③ 균전제의 실패를 조사하는 관리
- ④ 조로아스터교 사원에 가는 신도
- ⑤ 불경을 구하러 인도로 떠나는 승려

세계사

2 (세계사)

사회탐구 영역

6. (가) 왕조에 대한 설명으로 옳은 것은?

(가)의 국왕은 리디아의 수도인 사르디스를 포위하고서, 성채에 제일 먼저 오르는 자에게 큰 상을 내리겠다고 공포하였다. 하지만 성공하는 병사가 없어 모두가 단념하고 있을 때, 히로이아데스라는 자가 홀로 리디아의 경비병이 배치되지 않은 절벽을 기어오르자 다른 병사들도 따라 올라갔다. 수많은 병사들이 성채에 올라 마침내 사르디스가 함락되었고, 리디아는 멸망하였다.

- ① 이집트를 정복하였다.
- ② 아무르인에 의해 세워졌다.
- ③ 신바빌로니아에 멸망당하였다.
- ④ 이베리아반도까지 영토를 확장하였다.
- ⑤ 카르타고 등의 식민 도시를 건설하였다.

7. (가) 제국에 대한 탐구 활동으로 가장 적절한 것은?



▲바자르의 모습

(가)은/는 콘스탄티노폴리스를 점령하여 제국의 수도로 삼고 국제 무역 도시로 더욱 발전시켰다. 수도에는 여러 나라의 물품을 교역하는 바자르(시장)가 발달하였는데, 향신료를 전문적으로 취급하는 시장도 있었다. 또한 밀레트 제도가 시행되어 비이슬람교도들도 납세의 의무만 지키면 자치를 누렸다.

- ① 파르티아의 멸망 원인을 조사한다.
- ② 아이바크의 왕조 개창 배경을 분석한다.
- ③ 이븐 시나의 의학전범 편찬 계기를 알아본다.
- ④ 술탄 아흐메드 사원의 건립 목적을 파악한다.
- ⑤ 투르·푸아티에 전투의 전개 과정을 살펴본다.

8. 밑줄 친 '동맹'에 대한 설명으로 옳은 것은?

뤼베크는 절친한 벗 함부르크를 비롯한 여러 도시들과 다음과 같은 내용으로 동맹을 체결한다.

- 강이나 바다에서 해적의 습격을 당했을 때 그들을 격퇴하기 위해 공조한다.
- 범죄자에 대한 체포권과 처벌권을 공유한다.
- 가맹 도시의 시민에게 상업 활동을 공정하게 하지 않은 자는 해당 가맹 도시로 압송하여 처벌한다.

- ① 동인도 회사를 설립하였다.
- ② 발트해와 북해 무역을 주도하였다.
- ③ 정크선을 이용하여 아라비아와 통상하였다.
- ④ 고아, 플라카 등에 무역 거점을 마련하였다.
- ⑤ 바타비아(자카르타)를 중심으로 아시아와 교역하였다.

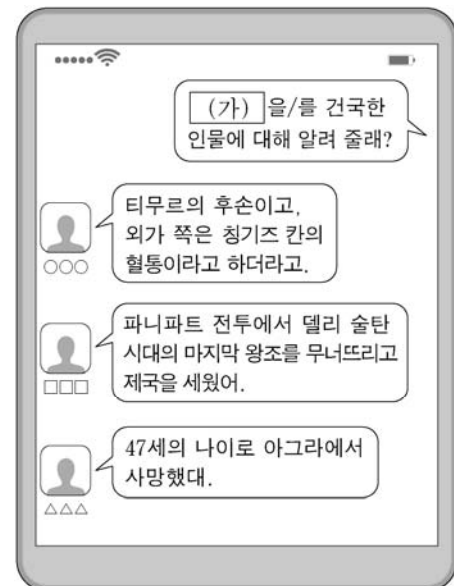
9. (가) 인물의 활동으로 옳은 것은? [3점]



예수회 선교사 (가)은/는 중국 문화에 대한 이해와 존중, 다양한 서양 과학 지식으로 많은 중국인을 매료시켰다. 그는 『천주실의』라는 교리서를 출간하여 가톨릭 선교의 기초를 닦았지만, 조상에 대한 제사 등을 인정한 그의 현지화 전략은 이후 전례 문제 발생의 단초가 되었다.

- ① 천공개물을 저술하였다.
- ② 곤여만국전도를 제작하였다.
- ③ 삼변의 난 진압에 공을 세웠다.
- ④ 수시력을 만드는 데 협력하였다.
- ⑤ 영락대전 편찬 사업에 참여하였다.

10. (가) 제국에서 있었던 사실로 옳은 것은? [3점]



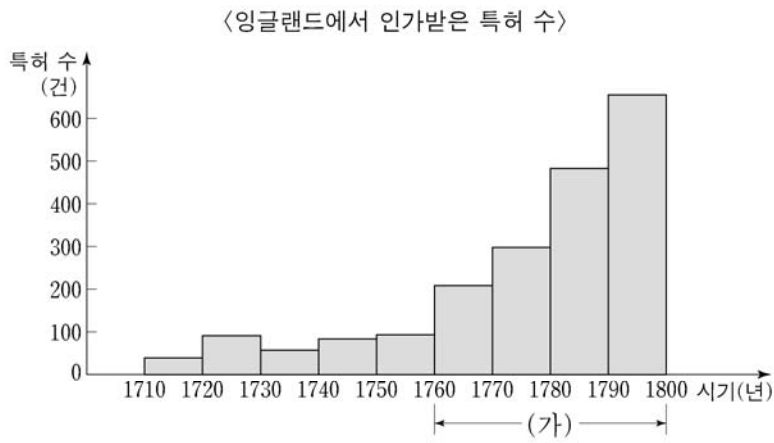
- ① 사쿠타라가 저술되었다.
- ② 자이나교가 출현하였다.
- ③ 우르두어가 사용되었다.
- ④ 쿠티브 미나르가 건립되었다.
- ⑤ 우파니샤드 철학이 등장하였다.

11. (가), (나) 군주에 대한 설명으로 옳은 것은?

- (가) 은/는 서구화 정책을 추진하기 위하여 네덜란드에서는 선박 건조 기술을 배우고, 영국에서는 교육과 의회 제도를 살펴보는 등의 노력을 하였다. 또한 스웨덴과의 북방 전쟁을 통해 발트해로 진출하는 데 성공하였다.
- (나) 은/는 “군주는 단지 자신의 명망을 좇는 자가 아니라 국가 제일의 공복”이라고 말하였다. 한편 관료제를 확립하고 내정을 개혁하였으며 오스트리아와의 전쟁을 통해 영토를 확장하였다.

- ① (가)는 상수시 궁전을 건립하였다.
- ② (가)는 반마키아벨리론을 저술하였다.
- ③ (가)는 (나)와 함께 폴란드를 분할하였다.
- ④ (나)는 계몽 전제 군주를 자처하였다.
- ⑤ (나)는 상트페테르부르크를 수도로 삼았다.

12. (가) 시기에 있었던 사실로 옳은 것은?



* 그래프의 막대는 각각 10년 간 총 건수를 나타냄.
** 출처: Titles of Patents of Inventions, 1854.

- ① 에디슨이 축음기를 발명하였다.
- ② 풀턴이 증기선을 실용화하였다.
- ③ 다윈이 종의 기원을 출간하였다.
- ④ 차티스트들이 인민헌장을 발표하였다.
- ⑤ 와트가 증기 기관 개량에 성공하였다.

13. (가) 인물에 대한 설명으로 옳은 것은? [3점]

이 편지를 작성한 (가) 은/는 에스파냐에 패하여 자메이카로 피신하였지만, 이후 자신의 바람대로 콜롬비아, 에콰도르 등을 해방시켰습니다.

“남아메리카에서 억압받는 사람들이 에스파냐의 지배에서 벗어나기를 희망합니다.”라는 당신의 글을 고맙게 읽었습니다. 저는 그것이 단순한 희망이 아닌, 앞으로 실현될 예언이라고 생각합니다.

- 「자메이카의 편지」 중에서 -

- ① 크리오요 출신이다.
- ② 쿠바의 독립을 달성하였다.
- ③ 아이티 공화국을 수립하였다.
- ④ 아도와 전투를 승리로 이끌었다.
- ⑤ 아르헨티나 독립 운동을 주도하였다.

14. (가), (나) 문서가 작성된 시기 사이에 있었던 사실로 옳은 것은?

(가) 봉건제를 완전히 폐지한다. …(중략)… 인신 예속에 관한 권리와 의무는 무상으로 폐지된다. 그 밖의 모든 권리와 의무는 유상 폐지의 대상이다. …(중략)… 이 법령으로 폐지되지 않는 권리와 의무는 그에 상응하는 금액을 지불할 때까지 지속된다.

- 「8월 법령」 제1조 -

(나) 열흘 전 왕정이 폐지되었다. 성직자도 귀족도 사라지고 평등의 시대가 시작되었다. 자기들만을 위한 공화국을 세워 부자와 관리의 이익을 위해 통치하려는 사이비 애국자와 국민 전체의 이익과 평등을 위하여 공화국을 건설하려고 애쓰는 진짜 애국자를 구별하라.

- 로베스피에르, 『유권자들에게 보내는 편지』 -

- ① 바스티유가 함락되었다.
- ② 입법 의회가 소집되었다.
- ③ 루이 16세가 처형되었다.
- ④ 공안 위원회가 설치되었다.
- ⑤ 테니스 코트의 서약이 이루어졌다.

15. 밑줄 친 ‘정책’으로 옳은 것만을 <보기>에서 고른 것은? [3점]

○○에게

기차를 처음 탄 기념으로 소식 전한다.

여기는 에도, 아니 도쿄(東京)야. 도쿄로 이름이 바뀐 지 5년이 지났는데도 익숙하지 않네. 요코하마에서 출발해 신바시역에 내렸어. 이 구간은 우리 나라에서 처음으로 개통된 철도래. 철도 건설은 현 정부가 펼치고 있는 정책 중 하나야. 앞으로 세상이 크게 변할 것 같아. 또 연락할게.

□□가

<보 기>

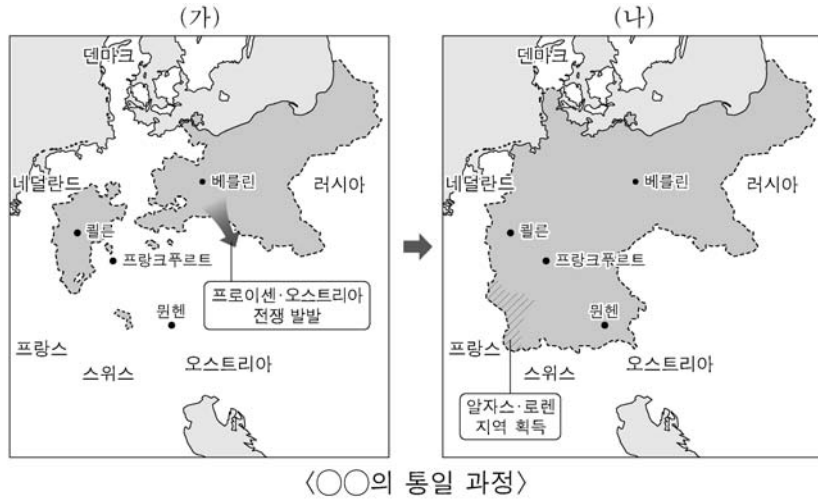
- ㄱ. 징병제를 도입하였다.
- ㄴ. 감합 무역을 추진하였다.
- ㄷ. 이와쿠라 사절단을 파견하였다.
- ㄹ. 산킨고타이(산킨코타이) 제도를 실시하였다.

- ① ㄱ, ㄴ ② ㄱ, ㄷ ③ ㄴ, ㄷ ④ ㄴ, ㄹ ⑤ ㄷ, ㄹ

4 (세계사)

사회탐구 영역

16. (가), (나) 시기 사이에 볼 수 있는 모습으로 적절한 것은? [3점]



- (○○의 통일 과정)
- ① 크림 전쟁에 참전하는 러시아 병사
 - ② 노예 해방령에 서명하는 미국 대통령
 - ③ 곡물법 폐지 요구 집회에 참가하는 런던 노동자
 - ④ 루이 나폴레옹의 대통령 취임식에 참석하는 성직자
 - ⑤ 이탈리아 왕국 법원에서 근무하는 사르데냐 출신 관리

17. 밑줄 친 ㉠이 일어난 시기를 연표에서 옳게 고른 것은?

3과 투쟁 등을 통해 민중의 거대한 힘을 인식한 쑨원은 중화 혁명당을 중국 국민당으로 개칭하였다. 그 후 쑨원은 소련과의 제휴를 전제로 ㉠ 중국 공산당원이 개인 자격으로 중국 국민당에 가입하는 방식의 연합 전선을 결성하여 반군벌, 반제국주의 운동을 전개하였다.

	(가)	(나)	(다)	(라)	(마)
중국 동맹회 결성	중화민국 수립	파리 강화 회의 개최	만주 사변 발생	중·일 전쟁 발발	일본의 진주만 기습

- ① (가) ② (나) ③ (다) ④ (라) ⑤ (마)

18. 밑줄 친 '전쟁' 중에 있었던 사실로 옳은 것은? [3점]

세계사 신문 2019년 ○월 ○일

독일 대통령, 비엘룬을 찾아 용서를 구하다

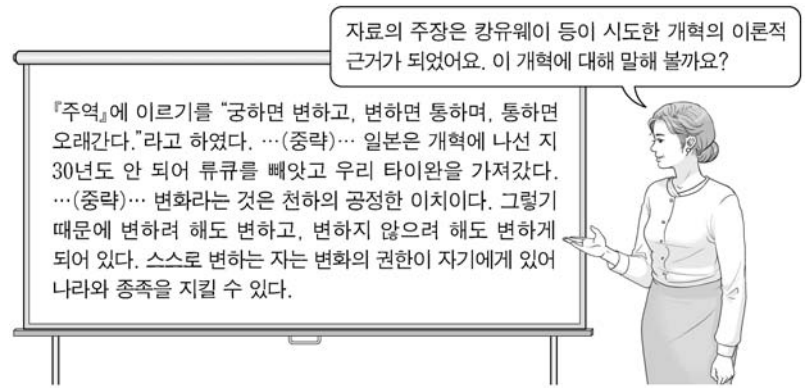


전쟁 발발 80주년을 맞이하여 슈타인 마이어 대통령이 폴란드의 비엘룬을 찾았다. 비엘룬은 독일 공군의 기습 폭격으로 민간인 1,200여 명이 사망한 곳이다. 이들은 6년에 걸친 전쟁의 첫 희생자였다. 대통령은 "폭격으로 희생당한 분들을 애도하며 독일의 침략으로 고통당한 폴란드인들에게 용서를 구한다."라고 말했다.

▲ 폭격으로 파괴된 비엘룬

- ① 브레턴우즈 회의가 열렸다.
- ② 도스안과 영안이 마련되었다.
- ③ 에스파냐 내전이 발발하였다.
- ④ 3국 방공 협정이 조인되었다.
- ⑤ 독·소 불가침 조약이 체결되었다.

19. 교사의 질문에 대한 학생의 답변으로 가장 적절한 것은? [3점]



- ① 천조전무 제도를 발표하였어요.
- ② 부청멸양의 기치를 내걸었어요.
- ③ 난징 조약 체결에 영향을 끼쳤어요.
- ④ 청·일 전쟁 발발에 빌미를 제공하였어요.
- ⑤ 서태후 등 보수파의 반대로 실패하였어요.

20. 밑줄 친 '혁명'의 전개 과정에서 있었던 사실로 옳은 것만을 <보기>에서 고른 것은?

현재 진행되고 있는 혁명은 우리 사회주의 발전 과정에서 더욱 깊고 넓은 새로운 단계이다. 우리의 목적은 자본주의의 길을 걷는 류사오치 등의 당권파와 싸우고, 부르주아적 반동학술의 권위와 모든 착취 계급의 이데올로기를 비판하고, 교육과 문예를 혁신하며, 사회주의적 경제 기초에 적응하지 못하는 상부구조를 개혁함으로써 사회주의 제도를 굳건히 하고 발전시키는 것이다.

- <보 기> —
- ㄱ. 홍위병이 동원되었다.
 - ㄴ. 대약진 운동이 시작되었다.
 - ㄷ. 중국 전통 문화유산이 파괴되었다.
 - ㄹ. 연안 도시에 경제 특구가 설치되었다.

- ① ㄱ, ㄴ ② ㄱ, ㄷ ③ ㄴ, ㄷ ④ ㄴ, ㄹ ⑤ ㄷ, ㄹ

* 확인 사항
○ 답안지의 해당란에 필요한 내용을 정확히 기입(표기)했는지 확인 하시오.

2020학년도 대학수학능력시험

사회탐구 영역 정답표
(세계사) 과목

문항 번호	정 답	배 점	문항 번호	정 답	배 점	문항 번호	정 답	배 점	문항 번호	정 답	배 점
1	①	3	6	①	2	11	④	2	16	⑤	3
2	③	2	7	④	2	12	⑤	2	17	③	2
3	③	2	8	②	2	13	①	3	18	①	3
4	①	3	9	②	3	14	②	2	19	⑤	3
5	②	3	10	③	3	15	②	3	20	②	2

제 4 교시

사회탐구 영역(법과 정치)

성명

수험 번호

제 [] 선택

1. 정치를 바라보는 관점 A, B에 대한 설명으로 옳은 것은?

A는 국가에 의한 사회 갈등 해결과 질서 유지 활동과 같이 권력을 독점한 국가의 활동만을 정치로 본다. 반면 B는 권력 현상은 국가뿐만 아니라 다양한 사회 집단에서도 나타날 수 있기 때문에 국가 이외의 집단이 갈등 해결을 위해 의사를 결정하는 활동도 정치로 본다.

- ① A는 국가 형성 이전의 정치 현상을 설명하기에 적합하다.
- ② B는 이익 집단 내 이해관계를 조정하는 활동을 정치로 보지 않는다.
- ③ A는 B와 달리 주민과 정부가 협력하여 지역 문제를 해결하는 것을 정치로 본다.
- ④ B는 A와 달리 국가의 권력 현상은 다른 사회 집단의 권력 현상과 본질적으로 다르다고 본다.
- ⑤ A와 B 모두 물리적 강제력을 독점한 통치 기구의 권력 활동을 정치로 본다.

2. 다음 자료에 대한 설명으로 옳은 것은? (단, A~C는 각각 고대 아테네 민주 정치, 근대 민주 정치, 현대 민주 정치 중 하나이다.) [3점]

A는 시민이 최고 의결 기구에서 국가의 의사를 직접 결정하는 민주주의 방식인 (가)를 시행하였지만, B와 C는 시민에 의해 선출된 대표로 구성된 기구가 대의 기능을 수행하는 민주주의 방식인 (나)를 채택하였다. A와 B에서는 사회 구성원 중 일부만 참정권을 행사할 수 있었고, 보통 선거 원칙은 C에서 확립되었다.

- ① (가)는 (나)보다 정치 공동체의 규모가 클수록 실현이 용이하다.
- ② (나)는 (가)보다 국민 자치의 원리에 충실하다.
- ③ A는 B보다 시민의 의사가 정책 결정에 정확하게 반영되지 않을 가능성이 크다.
- ④ B는 C와 달리 (나)의 한계를 보완하기 위해 (가)의 요소를 도입하였다.
- ⑤ C는 A와 달리 입헌주의 원리를 통해 기본권을 보장하고자 하였다.

3. 우리나라 헌법 기관 A~E에 대한 설명으로 옳은 것은? [3점]

간추린 뉴스입니다. 오늘 A의 주제로 열린 국무 회의에서 ○○ 법률 개정안 제출을 위한 심의를 하였습니다. 한편 B는 국무 위원 임명 제청권자인 C의 출석에 대한 협의와 함께 A 소속의 헌법 기관 D의 장(長)에 대한 임명 동의안을 처리할 예정입니다. 또한 E는 □□ 사건에 대한 상고심에서 원심을 확정하였습니다.

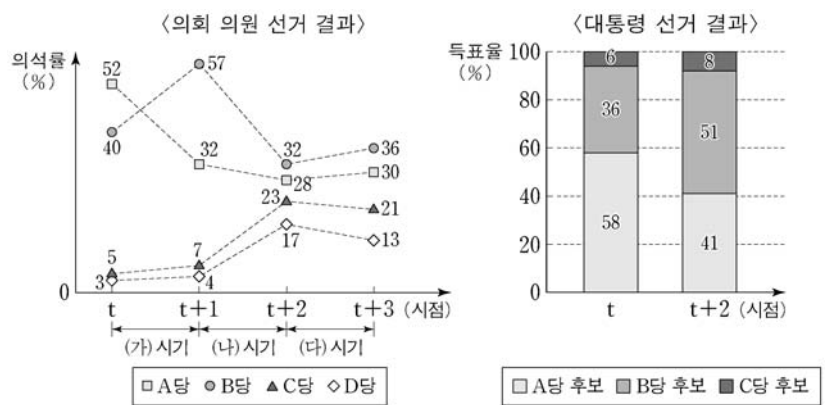
- ① A는 C와 달리 헌법상 임기가 보장된다.
- ② B는 예산안에 대한 심의·의결권을, D는 결산 심사권을 가진다.
- ③ C와 달리 E의 장(長)은 B의 동의를 얻어 A가 임명한다.
- ④ D는 국정을 감시·통제하는 국정 감사권을 통해 C를 견제한다.
- ⑤ E는 A와 B 상호 간의 권한 쟁의에 대한 심판권을 가진다.

4. 법치주의의 유형 A, B에 대한 설명으로 옳은 것은?

헌법은 국가 권력의 남용으로부터 국민의 기본권을 보호하려는 법치주의 실현을 기본 이념으로 하고 있다. 이러한 법치주의는 어떤 행위가 범죄이고 그 범죄에 대하여 어떤 처벌을 할 것인가는 미리 성문의 법률에 규정되어 있어야 한다는 원칙을 포함한다. A는 의회가 제정한 법률이라면 범죄와 형벌을 규정하는 근거가 된다고 본다. 하지만 합법적으로 제정된 법률이라도 인간의 존엄과 가치를 실질적으로 보장하지 못할 수 있다. 이에 따라 법률의 목적과 내용도 실질적 정의에 합치할 것을 고려하는 B는 법률이 정한 형벌이 행위의 무거움과 행위자의 책임에 비해 지나치게 가혹하지 않아야 할 것을 강하게 요구한다.

- ① A는 국가 권력의 자의적 형벌권 남용을 방지하기 위해 통치자도 법의 구속을 받도록 하는 근거가 된다.
- ② B는 법의 목적과 내용이 정의에 부합할 때 국가 권력이 정당성을 확보한다는 점을 간과한다.
- ③ A는 B와 달리 법의 예측 가능성을 높여 국가의 개입에 대한 국민의 신뢰를 보호하고자 한다.
- ④ B는 A와 달리 범죄와 형벌을 법률로 정해야 한다고 본다.
- ⑤ A와 B 모두 국민의 자유와 권리를 보장하는 것보다 통치의 합법성을 중시한다.

5. 다음 자료는 전형적인 대통령제를 채택하고 있는 갑국의 시기별 선거 결과이다. 이에 대한 옳은 추론만을 <보기>에서 있는 대로 고른 것은? [3점]



<보 기>

- ㄱ. 대통령이 자신의 정책을 가장 강력하게 추진할 수 있는 시기는 (가) 시기였을 것이다.
- ㄴ. (가) 시기에 비해 (나) 시기에 의회가 통과시킨 법률안에 대해 대통령이 거부권을 행사할 가능성이 낮을 것이다.
- ㄷ. (가) 시기에 비해 (다) 시기에 행정부와 의회 사이의 협조가 원활하게 이루어졌을 것이다.
- ㄹ. (나) 시기에 비해 (다) 시기에 C당이 B당을 견제하기 용이했을 것이다.

- ① ㄱ, ㄷ
- ② ㄱ, ㄹ
- ③ ㄴ, ㄷ
- ④ ㄱ, ㄴ, ㄹ
- ⑤ ㄴ, ㄷ, ㄹ

법과 정치

2 (법과 정치)

사회탐구 영역

6. 정치 참여 집단 A~C에 대한 설명으로 옳은 것은? (단, A~C는 각각 정당, 이익 집단, 시민 단체 중 하나에 해당하는 집단이다.)

A는 기자 회견을 열어 다가오는 의회 의원 선거에서 B가 공천하지 말아야 할 낙천 대상 명단을 발표했다. A는 낙천 대상자들이 △△ 지역에 휴양 시설을 조성하려는 □□ 기업을 위해 해당 지역을 개발 제한 구역에서 해제하는 데 찬성하였고, 결과적으로 지역의 자연환경과 생태계가 파괴되어 공익을 해쳤다고 주장했다. 한편 △△ 지역에서는 지역 소상공인들로 구성된 C가 집회를 열어 휴양 시설 조성은 지역 경제를 활성화하고 소득 증진에 기여할 수 있기 때문에 △△ 지역을 개발해야 한다고 주장했다.

- ① A는 정부와 의회를 매개하는 역할을 수행한다.
- ② B는 정권 획득을 목표로 정치적 중립성을 추구한다.
- ③ C의 활동은 사회 전체의 보편적 이익과 충돌할 수 있다.
- ④ B는 C와 달리 대의 정치의 한계를 보완하는 기능을 수행한다.
- ⑤ C는 A와 달리 정책 결정 및 집행 과정에 영향력을 행사한다.

7. 갑, 을의 주장에 대한 옳은 설명만을 <보기>에서 고른 것은? [3점]

사회자: 우리나라 정부 형태를 어떻게 바꾸어야 한다고 생각하십니까?
 갑: 정부의 법률안 제출권을 폐지하는 한편, 국회 의원이 국무총리나 국무 위원을 겸직할 수 없도록 해야 합니다.
 을: 대통령은 상징적인 지위를 갖고, 국회가 선출하는 국무총리가 국정에 관한 전반적인 권한과 책임을 행사하도록 해야 합니다.

—<보 기>—

ㄱ. 갑은 권력 분립의 원리가 엄격하게 구현되어야 한다고 본다.
 ㄴ. 을은 행정부와 국회 간 더욱 긴밀한 협조가 필요하다고 본다.
 ㄷ. 갑은 을과 달리 행정부가 국회에 정치적 책임을 져야 한다고 본다.
 ㄹ. 을은 갑과 달리 국가 원수와 행정부의 수반이 일치되어야 한다고 본다.

- ① ㄱ, ㄴ ② ㄱ, ㄷ ③ ㄴ, ㄷ ④ ㄴ, ㄹ ⑤ ㄷ, ㄹ

8. 기본권 유형 A~D에 대한 설명으로 옳은 것은?

외국인에게 기본권을 인정해야 하는가의 문제는 기본권의 성질에 따라 결정하여야 한다. 기본권 중 행복 추구권은 인간이라면 누구나 누릴 수 있는 권리이므로 외국인에게도 인정된다. 한편 신체의 자유로 대표되는 A와 재판 청구권과 같은 B도 원칙적으로 외국인에게 인정되지만 일정한 경우에 제한될 수 있다. 그러나 교육을 받을 권리와 같은 C와 국민 투표권과 같은 D는 원칙적으로 외국인에게 인정되기 어려운 점이 있다.

- ① B는 C보다 우월한 가치가 있는 기본권이다.
- ② C는 A보다 최근에 등장한 현대적인 권리이다.
- ③ D는 A보다 수동적이고 방어적인 권리이다.
- ④ A와 C는 국가 성립 이전부터 인정되는 권리이다.
- ⑤ B와 D는 헌법에 열거되지 않아도 보장받을 수 있는 포괄적 권리이다.

9. 다음에서 공통으로 파악할 수 있는 우리나라 헌법의 기본 원리를 실현하는 방안으로 가장 적절한 것은? [3점]

- 국가는 여자와 연소자의 근로에 대해 특별한 보호를 위한 정책을 실시하여야 한다.
- 국가는 균형 있는 국민 경제의 성장 및 안정을 위하여 경제에 관한 규제와 조정을 할 수 있다.

- ① 영유아 보육을 위해 국가의 지원을 확대한다.
- ② 개발도상국가에 대한 대외 원조를 확대한다.
- ③ 문화재 관리를 위해 국가의 지원을 확대한다.
- ④ 투표율을 높이기 위해 사전 투표제를 확대한다.
- ⑤ 사생활과 관련된 개인 정보 보호 정책을 강화한다.

10. 다음 사례에 대한 법적 판단으로 옳지 않은 것은?

미결 수용자로 구치소에 있었던 갑은 구치소의 종교 행사에 참석하고 싶었으나 구치소장이 이를 금지하여 참석할 수 없었다. 갑은 종교의 자유 침해를 주장하면서 참석 불허 조치의 위헌 확인을 구하는 심판을 헌법 재판소에 청구하였다. 이에 대해 헌법 재판소는 이 조치는 시설의 안전과 질서 유지, 공범과 접촉 방지라는 목적을 달성하기 위한 적절한 방법이라고 할 수 있지만, 공범이 없는 경우는 물론이고 공범이 있더라도 다른 시간대에 각각 참석하도록 할 수 있으므로 필요 최소한의 조치였다고 보기 어렵다고 판단했다. 또한 이 조치로 얻어질 공익이 갑의 불이익보다 더 크다고 단정할 수 없다고 보아 인용 결정을 하였다.

- ① 갑은 권리 구제형 헌법 소원 심판을 청구하였다.
- ② 구치소장의 적극적인 공권력의 행사가 심판 대상이다.
- ③ 헌법 재판소는 구치소장의 종교 행사 참석 불허 조치는 적합한 수단이라고 판단하였다.
- ④ 헌법 재판소는 구치소장의 종교 행사 참석 불허 조치보다 침해가 작은 방법이 없었다고 판단하였다.
- ⑤ 위 결정에 대해 피청구인인 구치소장은 재항고할 수 없다.

11. 다음 사례에 대한 법적 판단으로 옳은 것은? [3점]

- 갑(17세)과 을(13세)은 골목을 지나가던 병(15세)을 폭행하였다. 병은 갑과 을의 폭행을 피하여 도망가다가 달리 피할 방도가 없어 음식점 출입문을 부수고 들어가서 숨게 되었다. 병은 갑과 을의 폭행으로 인하여 상해를 입었다.
- 정(25세)은 무(20세)에게 생명을 위협하는 폭력과 협박을 하여 무가 종업원으로 일하고 있는 가게의 금고 잠금장치를 해제하도록 강요하였다. 무는 생명의 위협을 느껴 금고의 잠금장치를 해제하여 정이 금고에 있는 돈을 가져갈 수 있도록 하였다.

- ① 갑은 을과 달리 선도 조건부 기소 유예 처분을 받을 수 있다.
- ② 을은 갑과 달리 가정 법원 소년부에 의해 보호 처분을 받을 수 없다.
- ③ 병의 행위는 위법성 조각 사유 중에서 자구 행위에 해당한다.
- ④ 정과 달리 갑의 행위는 범죄의 구성 요건에 해당하지 않는다.
- ⑤ 을의 행위는 위법성이 조각되고, 무의 행위는 책임이 조각된다.

12. (가)~(다) 사례에 대한 법적 판단으로 옳은 것은? [3점]

(가) 갑(38세)의 아들 을(8세)이 골목에서 자전거를 타고 놀다가 지나가던 아이(5세)를 치어 다치게 했다.
 (나) 미술품 판매점을 운영하는 병은 A에게 유명 화가의 그림을 판매하면서 집에 배달해 주기로 하는 내용의 계약을 A와 체결하였다. 그런데 병의 직원이 배달 과정에서 실수로 그 그림을 B에게 떨어뜨려 B는 부상을 입고 그림은 찢어져 버렸다.
 (다) 정 소유의 광고탑이 설치상의 하자로 인하여 무너져 지나가던 행인이 다쳤다. 그런데 광고탑은 무가 점유 및 관리 하던 것이었다.

- ① (가)에서 을은 책임 능력이 없어 손해 배상 책임을 지지 않으므로 갑이 무과실 책임을 진다.
- ② (나)에서 B는 병의 직원의 실수로 부상을 입은 것이므로 병이 B에 대하여 손해 배상 책임을 지는 경우는 없다.
- ③ (나)에서 병의 직원은 A에게 계약에 따른 채무를 불이행한 책임을 진다.
- ④ (다)에서 무는 손해의 방지에 필요한 주의를 다하였음을 증명 하더라도 손해 배상 책임을 진다.
- ⑤ (다)에서 무에게 손해 배상 책임이 인정되지 않는 경우 정은 무과실 책임을 진다.


13. 다음 자료에 대한 법적 판단으로 옳은 것은?

○ A는 B 소유의 X 주택을 2017년 4월 11일 B에게서 매수하기로 하는 계약을 체결하면서 계약금 4천만 원을 B에게 지급하였다. A는 원래 2017년 5월 11일 중도금 1억 6천만 원을 B에게 지급하기로 약속했었는데, 2017년 4월 21일 A는 B에게 지급한 계약금 4천만 원을 포기하고 X 주택 매매 계약을 해제하였다.
 ○ 갑은 B 소유의 X 주택을 2018년 2월 13일 보증금 4억 원에 임차 하면서 임대차 기간을 2년으로 하는 주택 임대차 계약을 B와 체결 하였다. 갑은 2018년 3월 15일 X 주택으로 이사하면서 전입신고를 하고 같은 날 확정 일자를 받은 후 계속하여 거주하였다. 2019년 9월 3일 병이 적법한 저당권 실행으로 X 주택에 대해 경매를 신청하였고, X 주택은 2019년 10월 24일 정에게 6억 원에 매각되었다.
 다음은 병의 경매 신청 당시 X 주택의 등기 사항 전부 증명서의 일부이다.
 【을 구】 (소유권 이외의 권리에 관한 사항)

순위 번호	등기 목적	접수	등기 원인	권리자 및 기타 사항
1	저당권 설정	2017년 9월 7일 제○○○○호	2017년 9월 6일 설정 계약	채권액 금 200,000,000원 채무자 B(이하 생략) 저당권자 을(이하 생략)
2	저당권 설정	2018년 7월 5일 제○○○○호	2018년 7월 4일 설정 계약	채권액 금 500,000,000원 채무자 B(이하 생략) 저당권자 병(이하 생략)

- ① 계약금을 받은 B는 중도금을 지급받지 않은 상태라 하더라도 매매 계약을 해제할 권리가 없다.
- ② A가 만일 중도금을 지급했다더라도 계약금의 두 배를 지급하면 매매 계약을 해제할 권리가 있다.
- ③ 갑은 2018년 3월 15일부터 제3자에 대한 대항력을 가진다.
- ④ 갑은 X 주택의 매각 대금에서 을, 병 모두에 우선하여 보증금 전액을 변제받을 수 있다.
- ⑤ 을이 경매를 신청하지는 않았지만, 을은 X 주택의 매각 대금에서 채권액 전부를 변제받을 수 있다.

14. 밑줄 친 ㉠, ㉡에 대한 옳은 법적 판단만을 <보기>에서 있는 대로 고른 것은?



<보 기>

- ㉠. 갑이 속한 노동조합은 ㉡을 이유로 노동 위원회에 구제 신청을 할 수 있다.
- ㉡. 을은 ㉡을 이유로 해고의 효력을 다투는 소를 제기할 수 있다.
- ㉢. 갑은 ㉠, 을은 ㉡에 대해 노동 위원회에 구제 신청을 할 수 있다.
- ㉣. ㉠과 ㉡ 모두 근로자에 대한 부당 노동 행위에 해당한다.

- ① ㉠, ㉢ ② ㉠, ㉣ ③ ㉡, ㉣
- ④ ㉠, ㉡, ㉢ ⑤ ㉡, ㉢, ㉣

15. (가) 사례를 (나)에 적용했을 경우에 대한 법적 판단으로 옳지 않은 것은? [3점]

(가) 홀어머니 A의 아들 갑은 을과 법률혼을 하여 B를 낳았다. 그 후 갑은 을과 이혼하고, B에 대한 친권과 양육권은 을이 갖기로 하였다. 2년 후, 갑은 병과 법률혼을 하면서 병과 전 배우자 사이에서 태어난 C를 친양자로 입양하기로 약속하였다. 1년 후 A와 갑, 병은 여행 중 사고를 당하여, A는 곧바로 사망하고 다음 날 갑과 병도 사망하였다. A와 병은 유언을 남기지 않았으나, '전 재산의 1/2을 ○○ 재단에 기부한다.'라는 갑의 유언장이 발견되었다. 사고 당시 A와 갑은 모두 채무가 없었고 A에게는 18억 원, 갑에게는 10억 원의 재산이 있었으며, 병은 재산과 채무가 모두 없었다.

(나)

질문	상황	
갑이 C를 친양자로 입양했는가?	㉠ 입양함.	㉡ 입양하지 않음.
갑의 유언장이 유효한가?	㉢ 유효함.	㉣ 유효하지 않음.
갑과 병 중 누가 먼저 사망했는가?	㉤ 갑이 먼저 사망함.	㉥ 병이 먼저 사망함.

- ① ㉠, ㉢, ㉥의 상황에서 B의 상속액은 최소가 된다.
- ② ㉠, ㉣, ㉥의 상황에서 C의 상속액은 최대가 된다.
- ③ ㉡, ㉣, ㉥의 상황과 ㉢, ㉣, ㉥의 상황에서 C는 갑의 재산을 상속받을 수 없다.
- ④ ㉠, ㉣, ㉥의 상황과 ㉠, ㉣, ㉥의 상황에서 B의 상속액은 C의 상속액보다 크다.
- ⑤ ㉡, ㉣, ㉥의 상황과 ㉢, ㉣, ㉥의 상황에서 C의 상속액은 B의 상속액의 1.5배가 된다.

4 (법과 정치)

사회탐구 영역

16. 다음 사례에 대한 법적 판단으로 옳은 것은? [3점]

갑(17세)은 전자 제품 매장에 들렀다가 고가의 스피커를 구매하는 계약을 을(30세)과 체결하였고, 집에 돌아오는 길에 자신의 용돈으로 저렴한 헤드폰을 구매하는 계약을 병(25세)과 체결하였다. 다음 날 갑은 고가의 전자 건반을 정(17세)보다 다소 싼 가격에 구매하는 계약을 자신의 친구 정(17세)과 체결하였다. 그런데 이 계약들은 모두 갑과 정 각각의 법정 대리인의 동의 없이 체결되었다.

- ① 갑의 법정 대리인이 스피커 매매 계약에 대해 동의한 적이 없으므로 을은 갑에게 확답을 촉구할 권리가 있다.
- ② 을이 스피커 매매 계약 당시에 갑의 나이를 알았다면 을은 자신의 의사 표시를 철회할 수 없다.
- ③ 헤드폰 매매 계약에 대해 갑은 취소할 수 없지만 병은 취소할 수 있다.
- ④ 갑은 전자 건반을 자신에게 이익이 되는 가격으로 구매하였으므로 전자 건반 매매 계약을 취소할 수 없다.
- ⑤ 갑과 정은 전자 건반 매매 계약을 취소할 수 없지만, 갑과 정 각각의 법정 대리인은 전자 건반 매매 계약을 취소할 수 있다.

17. 표는 국제 사회를 바라보는 관점을 파악하기 위한 질문과 답변이다. 현실주의와 자유주의 중 하나의 관점에서 일관되게 응답한 학생은?

(○: 예, ×: 아니요)

질문	학생				
	갑	을	병	정	무
국제 사회에서 국제법과 국제기구의 역할을 중시하는가?	○	×	×	○	○
국제 사회에서 힘의 논리보다 상호 협력을 강조하는가?	×	○	×	○	○
국제 사회에서 자국 이익의 배타적 추구를 중시하는가?	○	×	○	○	×
국제 사회에서 자국의 안보를 위해 동맹 및 군사력 강화를 강조하는가?	×	○	○	×	×
국제 사회에서 국가 간 힘의 균형을 통해 평화가 유지될 수 있다고 보는가?	○	×	○	×	○

- ① 갑 ② 을 ③ 병 ④ 정 ⑤ 무

18. 그림은 국제 연합의 주요 기관에 대한 대화이다. 이에 대한 설명으로 옳은 것은? [3점]



- ① A가 국제 사법 재판소라면 (가)에는 'A는 판결에 불복하는 당사국을 직접 제재할 수 없습니다.'가 들어갈 수 있다.
- ② A가 안전 보장 이사회라면 (가)에는 'A의 상임 이사국 중 한 국가라도 거부권을 행사하면 안전이 부결됩니다.'가 들어갈 수 있다.
- ③ 갑이 옳게 말한 학생이라면 (가)에는 'A는 국제 평화와 안전을 위해 평화 유지군을 파견할 수 있습니다.'가 들어갈 수 있다.
- ④ 을이 옳게 말한 학생이라면 (가)에는 'A는 국제 연합의 최고 의결 기관으로 주권 평등의 원칙이 적용됩니다.'가 들어갈 수 있다.
- ⑤ (가)에 'A는 국적이 모두 다른 15인의 재판관으로 구성됩니다.'가 들어간다면 옳게 말한 학생은 병이다.

19. 다음 사례에 대한 법적 판단으로 옳은 것은?

갑(40세)은 을(45세)을 폭행하여 경찰관에게 현행범으로 체포되었다. 갑은 영장에 의해 구속되어 수사를 받았으며, 병에 의하여 기소되었다. 기소 이후 을에 대한 갑의 폭행 사건 관련 공판이 진행되었다. 병은 갑에게 징역 2년을 구형하였으며, 갑은 징역 6월에 집행 유예 2년을 선고받고 석방되었다. 하지만 을은 갑에게 선고된 형이 낮다고 생각하였다.

- ① 구속된 갑은 영장 실질 심사를 통해 구속 상태에서 벗어날 수 있다.
- ② 병은 수사 과정에서 구속 적부 심사를 법원에 청구할 수 있다.
- ③ 기소 후 진행된 형사 재판의 당사자는 갑과 병이다.
- ④ 을은 갑의 선고 결과에 불복하여 상소할 수 있다.
- ⑤ 갑은 위의 판결이 확정되면 형사 보상을 청구할 수 있다.

20. 다음 자료에 대한 분석 및 추론으로 옳은 것은?

갑국 의회는 단순 다수 대표제로 선출된 지역구 의원 10명과 정당 투표 득표율에 따라 결정된 비례 대표 의원 3명으로 구성된다. 비례 대표 의석은 각 정당의 정당 투표 득표율에 비례 대표 의석수를 곱하여 산출된 수의 정수(整數)만큼 의석을 각 정당에 먼저 배분하고, 잔여 의석은 소수점 이하 수가 큰 순서대로 각 정당에 1석씩 배분한다. 표는 최근 갑국 의회 의원 선거 결과를 나타낸다.

<지역구 의원 선거 결과> (단위: %)

구분	A당	B당	C당	D당	E당
지역구 1	20	55	16	5	4
지역구 2	35	34	23	7	1
지역구 3	36	31	23	8	2
지역구 4	12	16	65	2	5
지역구 5	16	38	36	9	1
지역구 6	33	30	25	9	3
지역구 7	39	26	29	4	2
지역구 8	38	34	21	6	1
지역구 9	47	19	28	5	1
지역구 10	32	30	27	8	3

<정당 투표 결과> (단위: %)

구분	A당	B당	C당	D당	E당
득표율	38	27	26	7	2

갑국은 현재의 선거 제도가 (가) 라는 비판을 고려하여 다음과 같은 두 가지 선거 제도 개편 방안을 고려하고 있다.

- <1안> 현재의 의석 배분 방식을 유지한 채, 비례 대표 의석수를 지역구 의원 의석수와 동일한 10석으로 늘린다.
- <2안> 현재의 총의석수를 기준으로 비례 대표 의석 배분 방식에 따라 정당별 의석수를 먼저 할당한다. 각 정당별로 할당된 의석수에서 지역구 의원 의석수를 뺀 만큼 비례 대표 의석을 배정한다. 만일 어떤 정당의 지역구 의원의 의석수가 할당된 의석수보다 더 많다면 초과 의석을 인정하되 비례 대표 의석은 배분되지 않는다. 초과 의석으로 인해 갑국의 의회 의원 정수(定數)는 늘어날 수 있다.

* 선거 제도 개편 방안 검토 시 위의 표를 기준으로 하여 판단함.
 ** 선거 제도의 비례성은 각 정당의 정당 투표 득표율과 의회 의석을 간 차이의 절댓값의 총합이 작을수록 높음.

- ① (가)에는 '의원의 지역 대표성이 취약하다.'가 들어갈 수 있다.
- ② <2안>을 적용했을 때 2개의 정당이 초과 의석을 받게 된다.
- ③ B당에게는 <1안>이 <2안>보다 유리하다.
- ④ <1안>과 <2안> 모두에서 C당은 의석률이 정당 투표 득표율보다 낮다.
- ⑤ 선거 제도의 비례성은 <1안>이 <2안>보다 높다.

* 확인 사항
 ○ 답안지의 해당란에 필요한 내용을 정확히 기입(표기)했는지 확인 하시오.

2020학년도 대학수학능력시험

사회탐구 영역 정답표
(법과 정치) 과목

문항 번호	정 답	배 점	문항 번호	정 답	배 점	문항 번호	정 답	배 점	문항 번호	정 답	배 점
1	⑤	2	6	③	2	11	①	3	16	②	3
2	⑤	3	7	①	3	12	⑤	3	17	③	2
3	①	3	8	②	2	13	⑤	2	18	④	3
4	①	2	9	①	3	14	④	2	19	③	2
5	②	3	10	④	2	15	④	3	20	④	2

제 4 교시

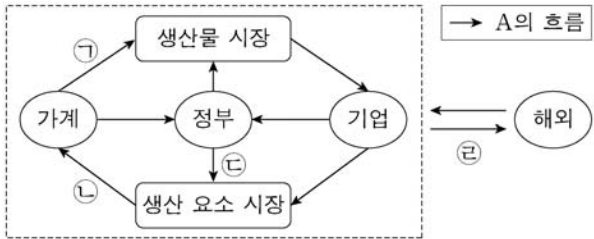
사회탐구 영역(경제)

성명

수험 번호

제 [] 선택

1. 그림은 국민 경제의 순환을 나타낸다. 이에 대한 설명으로 옳은 것은? [3점]



- ① A는 '실물'이다.
- ② 서비스는 ㉠에 해당한다.
- ③ ㉢은 소비 활동의 원천이 된다.
- ④ 법인세는 ㉣에 해당한다.
- ⑤ 수출은 ㉤에 해당한다.

2. 표는 A기업~C기업만 존재하는 2018년 갑국의 모든 생산 활동을 나타낸다. 이에 대한 옳은 분석만을 <보기>에서 고른 것은? (단, 2018년에 생산된 재화는 그 해에 모두 판매되었으며, 다른 나라와의 거래는 없었다.)

구분	A기업	B기업	C기업	
생산물	X재	Y재	Z재	
총 생산 비용 (만 달러)	임금	20	30	40
	임대료·이자	7	13	10
	중간재 구입 비용	0	20(X재)	10(X재) 10(Y재)
총 판매 수입(만 달러)	40	80	100	

* () 안의 재화는 2018년에 생산되어 투입된 중간재를 나타낸다.

<보 기>

㉠. 최종재로 소비된 재화는 Z재뿐이다.
 ㉡. 창출된 부가 가치의 규모는 B기업이 가장 크다.
 ㉢. 명목 GDP는 180만 달러이다.
 ㉣. 명목 GDP 대비 임금의 비율은 50%이다.

- ① ㉠, ㉡ ② ㉠, ㉢ ③ ㉡, ㉣ ④ ㉢, ㉣ ⑤ ㉣, ㉤

3. 표는 가격 변화에 따른 A재~C재 시장의 변화를 나타낸다. 이에 대한 분석으로 옳은 것은? (단, 가격 변화는 공급 변동에 의한 것이며, A재~C재는 서로 연관재가 아니다.) [3점]

구분	A재	B재	C재
가격 변화율(%)	2	2	2
㉠ 변화율(%)	0	-2	2

- ① ㉠이 '수요량'이면 A재 수요는 가격에 대해 완전 탄력적이다.
- ② ㉠이 '수요량'이면 B재 수요는 가격에 대해 비탄력적이다.
- ③ ㉠이 '판매 수입'이면 B재 수요는 가격에 대해 탄력적이다.
- ④ ㉠이 '판매 수입'이면 C재 수요는 가격에 대해 단위 탄력적이다.
- ⑤ ㉠이 '판매 수입'이면 A재가 B재보다 수요의 가격 탄력성이 크다.

4. 그림에서 갑, 을의 주장에 대한 옳은 설명만을 <보기>에서 고른 것은?



<보 기>

㉠. 갑은 '기업의 이윤 증대가 곧 사회적 부의 증대이다.'라는 견해에 동의할 것이다.
 ㉡. 을은 '기업이 취약 계층에 대해 일자리나 사회 서비스를 제공해야 한다.'라는 견해에 동의할 것이다.
 ㉢. 갑은 을보다 기업 이윤의 사회 환원을 강조할 것이다.
 ㉣. 을은 갑보다 기업의 사회적 책임의 범위를 좁게 본다.

- ① ㉠, ㉡ ② ㉠, ㉢ ③ ㉡, ㉣ ④ ㉢, ㉣ ⑤ ㉣, ㉤

5. 그림은 수행 평가 보고서의 일부이다. ㉠~㉤에 들어갈 수 있는 내용으로 옳은 것은? [3점]

경제 수행 평가 보고서 점수 10 / 10

주제: 경제 안정화 정책 제출 모둠: ◇◇

○ 경제 안정화 정책의 의미
 지나친 경기 과열이나 침체를 방지하고 국민 경제의 장기적이고 안정적인 성장을 이루기 위해 정부나 중앙은행이 실시하는 정책

○ 경제 안정화 정책의 수단과 효과
 1. 경기 침체 시

재정 정책	세율 인하	→	㉠	→	총수요 증가	→	㉣
		→	㉡				
통화 정책		→	㉢	→	총수요 증가	→	㉣
		→	시중 은행의 대출액 증가				
	국·공채 매입	→	㉣				

중요유해

- ① ㉠: 처분 가능 소득 감소
- ② ㉡: 정부 지출 축소
- ③ ㉢: 지급 준비율 인상
- ④ ㉣: 시중 통화량 증가
- ⑤ ㉤: 실업률 상승

2 (경제)

사회탐구 영역

6. 그림은 갑국의 연도별 고용 지표 관련 인구 비율을 나타낸다. 2017년에서 2018년으로의 변화에 대한 옳은 분석만을 <보기>에서 고른 것은? (단, 15세 이상 인구는 변화가 없다.) [3점]

	비경제 활동 인구	취업자	실업자
2017년	25%	70%	5%
2018년	20%	70%	10%

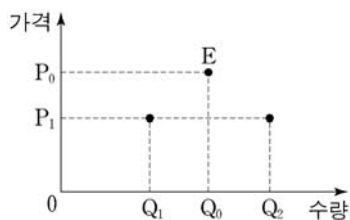
<보 기>

- ㄱ. 실업률은 상승하였다.
 ㄴ. 고용률은 하락하였다.
 ㄷ. 경제 활동 참가율은 상승하였다.
 ㄹ. 실업자 수 증가율이 비경제 활동 인구 감소율보다 작다.

- ① ㄱ, ㄴ ② ㄱ, ㄷ ③ ㄴ, ㄷ ④ ㄴ, ㄹ ⑤ ㄷ, ㄹ

7. 밑줄 친 ㉠과 이로 인해 나타날 변화에 대한 설명으로 옳은 것은? [3점]

그림은 갑국의 X재 시장 상황을 나타내며 시장 균형은 E이다. 갑국 정부가 최고 가격을 P_1 로 규제하는 ㉠ 정책을 실시한 결과, Q_0Q_2 의 초과 수요가 발생하였다. 단, X재 시장의 수요 곡선과 공급 곡선은 직선이다.



- ① ㉠은 공급자 보호를 목적으로 한다.
 ② X재의 판매 수입은 변화가 없다.
 ③ X재를 구입하지 못하는 사람 중에 P_1 이상을 지불할 용의가 있는 사람은 없다.
 ④ 수요 곡선이 좌측으로 이동하여 P_1 의 가격에서 수요량이 Q_1 로 되더라도 거래되는 가격은 변화가 없을 것이다.
 ⑤ 공급 곡선이 좌측으로 이동하여 P_1 의 가격에서 공급량이 Q_1 로 되더라도 거래되는 가격은 변화가 없을 것이다.

8. 표는 갑이 보유한 금융 상품의 연도별 비중을 나타낸다. 이에 대한 옳은 설명만을 <보기>에서 고른 것은?

(단위: %)

구분	요구불 예금	저축성 예금	국채	주식
2017년	10	30	30	30
2018년	10	0	50	40
2019년	15	0	40	45

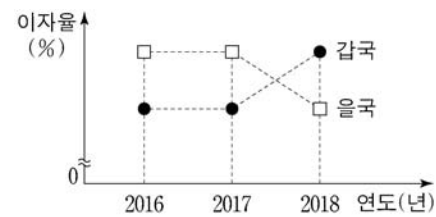
<보 기>

- ㄱ. 이자 수익을 기대할 수 있는 금융 상품의 비중은 2017년이 2018년보다 높다.
 ㄴ. 배당 수익을 기대할 수 있는 금융 상품의 비중은 2018년이 2017년보다 높다.
 ㄷ. 정기 적금을 포함하는 금융 상품의 비중은 2019년이 2018년보다 높다.
 ㄹ. 시세 차익을 기대할 수 있는 금융 상품의 비중은 2019년이 2018년보다 높다.

- ① ㄱ, ㄴ ② ㄱ, ㄷ ③ ㄴ, ㄷ ④ ㄴ, ㄹ ⑤ ㄷ, ㄹ

9. 다음 자료에 대한 옳은 분석 및 추론만을 <보기>에서 고른 것은?

국가 간 거래가 달러화로만 이루어진다면, 국가 간 이자율 차이는 달러화의 이동 요인이 된다. 예컨대 A국의 이자율이 외국보다 높으면, 수익률이 높은 A국 화폐 표시 금융 자산에 대한 투자 수요가 증가하여 A국으로의 달러화 유입이 증가한다. 그림은 갑국과 을국의 연도별 이자율을 나타내며, 연중 이자율의 변화는 없다. 단, 갑국과 을국의 자국 화폐는 달러화가 아니며, 달러화의 이동은 두 국가 사이에서만 이루어지고, 환율은 이자율 차이에 따른 달러화 이동에 의해서만 변동한다.



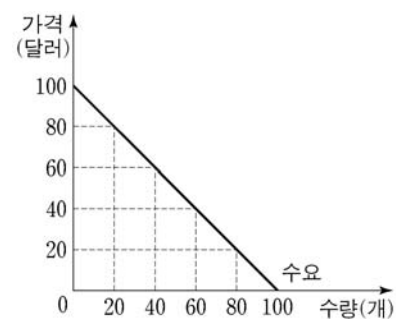
<보 기>

- ㄱ. 갑국 화폐/달러 환율은 지속적으로 상승하였을 것이다.
 ㄴ. 달러화 대비 을국 화폐 가치는 2018년이 2017년보다 하락하였을 것이다.
 ㄷ. 을국에서 이자율 차이에 따른 달러화 유입량은 2018년이 2017년보다 증가하였을 것이다.
 ㄹ. 갑국 화폐에 대한 을국 화폐의 상대적 가치는 2018년이 2017년보다 하락하였을 것이다.

- ① ㄱ, ㄴ ② ㄱ, ㄷ ③ ㄴ, ㄷ ④ ㄴ, ㄹ ⑤ ㄷ, ㄹ

10. 다음 자료에 대한 분석으로 옳지 않은 것은?

갑국의 농산물 X재 시장은 전반기와 후반기의 두 시기로 나뉜다. X재의 수요는 두 시기 모두 그림과 같다. X재의 공급량은 가격에 관계없이 전반기에는 80개, 후반기에는 20개로 고정되어 있다.



갑국 정부는 두 시기의 시장 균형 가격을 같게 만들기 위해 다음과 같은 ㉠ 정책을 고려하고 있다.

전반기에 X재가 시장에 출하되기 전, X재의 일부를 ㉠ 정부가 정한 가격에 구매하여 비축한다. 비축 물량은 후반기에 모두 시장에 공급한다.

* X재 비축에 따른 비용은 발생하지 않는다.

- ① 두 시기 모두 X재의 공급은 가격에 대해 완전 비탄력적이다.
 ② ㉠ 실시 전, 두 시기의 시장 균형 가격 차이는 60달러이다.
 ③ ㉠을 실시할 경우 전반기에 X재 30개를 구매해야 한다.
 ④ ㉠을 실시할 경우 두 시기 소비자 잉여의 합은 증가한다.
 ⑤ ㉠이 높을수록 두 시기 생산자 잉여의 합은 커진다.

11. 다음 자료에 대한 옳은 설명만을 <보기>에서 고른 것은?

표는 100만 원을 예금 상품 A 또는 B에 투자할 경우 예치 기간에 따라 발생하는 누적 이자 수입을 나타낸다. 단, A, B의 이자 지급 방식은 각각 단리와 복리 중 하나이며, 예치 기간 동안 연 이자율은 변하지 않고, 세금은 고려하지 않는다.

(단위: 원)

예치 기간	1년	2년	3년
예금 상품			
A	110,000	220,000	㉠
B	100,000	210,000	㉡

<보 기>

ㄱ. A는 최초 원금에 대해서만 이자를 지급하는 상품이다.
 ㄴ. 연 이자율은 B가 A보다 높다.
 ㄷ. ㉡이 ㉠보다 크다.
 ㄹ. 예치 기간 중 물가 상승률이 음(-)의 값을 갖는다면 현금을 보유하는 것이 A, B에 투자하는 것보다 유리하다.

- ① ㄱ, ㄴ ② ㄱ, ㄷ ③ ㄴ, ㄷ ④ ㄴ, ㄹ ⑤ ㄷ, ㄹ

12. 다음 자료에 대한 분석 및 추론으로 옳은 것은? [3점]

표는 갑국의 전년 대비 재정 수입 변동액과 재정 지출 변동액을 나타낸다. 갑국 정부는 경기 상황에 따라 재정 수입과 재정 지출의 규모를 결정하여 집행한다. 재정 수지는 2017년에는 적자, 2018년에는 흑자를 기록하였다.

구분	2016년	2017년	2018년
재정 수입 변동액(억 원)	-20	-50	+30
재정 지출 변동액(억 원)	+100	-60	-20

* 재정 수지 = 재정 수입 - 재정 지출

- ① 2016년의 재정 수지 적자 규모는 120억 원이다.
 ② 2017년의 재정 수지 적자 규모는 50억 원보다 작다.
 ③ 2016년에 비해 2017년의 재정 수지 적자 폭이 증가하였다.
 ④ 재정 수입 규모는 2018년에 가장 크다.
 ⑤ 2018년의 재정 수지는 경기 부양에 도움이 되었을 것이다.

13. 다음 자료에 대한 분석으로 옳은 것은?

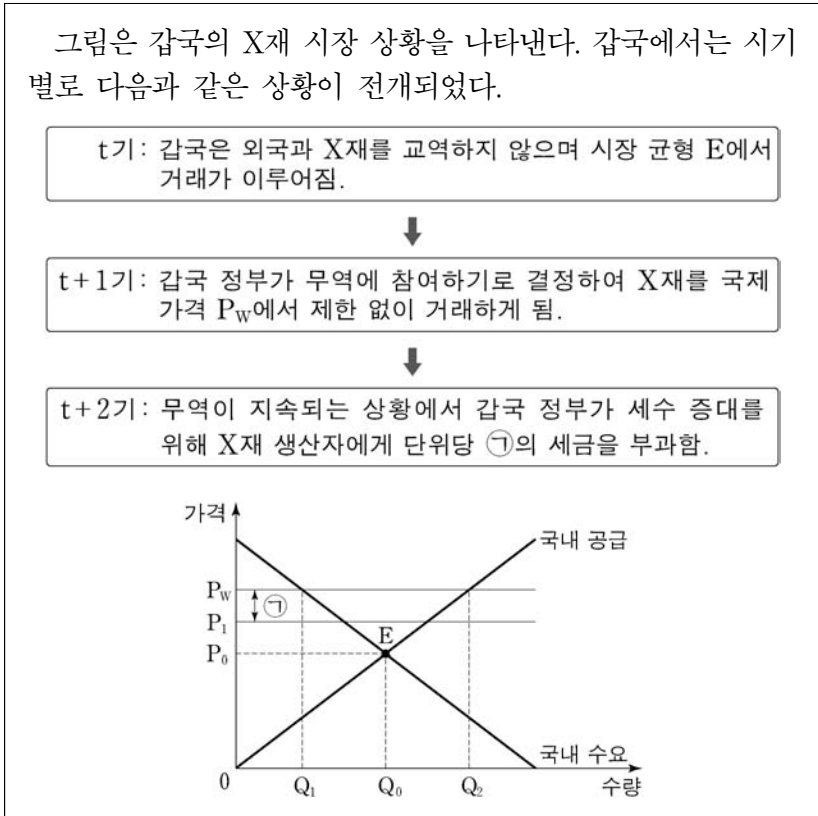
표는 △△기업의 X재 생산에 관한 자료이다. X재 생산에는 Y재만 필요하며, Y재의 가격은 1만 원이다. 단, 생산된 X재는 모두 판매되고, Y재 구입 비용 이외의 다른 비용은 없다.

X재 생산량(개)	1	2	3	4	5
Y재 생산성	0.5	0.4	0.3	0.2	0.1
총수입(만 원)	20	40	60	80	100

* Y재 생산성 = X재 생산량 / Y재 투입량

- ① X재의 가격은 10만 원이다.
 ② X재 생산량이 4개일 때 1개당 생산 비용은 최대가 된다.
 ③ X재 생산량이 1개씩 증가할 때마다 추가적으로 발생하는 비용은 지속적으로 감소한다.
 ④ X재 생산량이 3개일 때와 5개일 때의 이윤은 동일하다.
 ⑤ 이윤이 극대화되는 생산량 수준에서 Y재 투입량은 10개이다.

14. 다음 자료에 대한 분석 및 추론으로 옳은 것은? [3점]



- ① t+1기에 갑국은 X재를 수입하였을 것이다.
 ② t+1기에 갑국에서 Q_0Q_2 의 초과 공급이 발생하였을 것이다.
 ③ t+2기에 갑국의 X재 무역량은 Q_1Q_2 보다 적었을 것이다.
 ④ 갑국의 X재 시장 가격은 t+2기가 t+1기보다 높았을 것이다.
 ⑤ t+2기에 갑국의 X재 조세 수입은 $P_1P_w \times Q_2$ 이다.

15. 다음 자료에 대한 분석 및 추론으로 옳은 것은? [3점]

X재는 비배제성과 비경합성을 갖는 재화이다. 표는 ○○시에서 X재가 1개씩 늘어날 때마다 주민 갑~병이 각각 추가적으로 얻는 편익을 나타내며, X재 설치 비용은 1개당 15만 원이다. ○○시는 주민들이 얻는 총편익에서 총비용을 뺀 값이 최대가 되는 수준에서 X재의 설치량을 결정한다. 단, ○○시의 주민은 갑, 을, 병으로만 구성되며, 설치 비용 이외의 다른 비용은 없다.

(단위: 만 원)

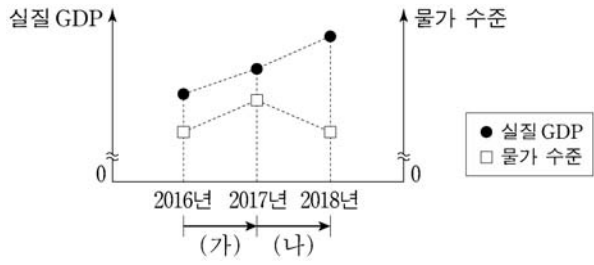
구분	갑	을	병
첫 번째 X재	19	12	16
두 번째 X재	14	8	11
세 번째 X재	8	7	9
네 번째 X재	4	6	7
다섯 번째 X재	2	3	5

- ① X재의 설치량은 3개가 될 것이다.
 ② X재가 설치됨에 따라 세 사람 중 을이 가장 큰 편익을 얻는다.
 ③ X재 설치 비용을 세 사람에게 1/3씩 부담하게 한다면, 갑이 얻는 순편익은 음(-)의 값을 가진다.
 ④ 갑이 비용 부담을 거부하여 X재 설치 비용을 을과 병에게만 1/2씩 부담하게 한다면, X재로 인한 총편익은 76만 원이다.
 ⑤ X재 설치 비용이 1개당 18만 원이라면, 15만 원일 때보다 X재 총 설치 비용은 6만 원 적을 것이다.

4 (경제)

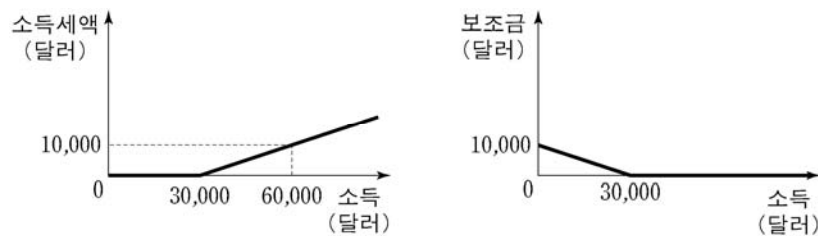
사회탐구 영역

16. 그림은 갑국 국민 경제 균형의 변동을 나타낸다. (가), (나)의 변동 요인으로 옳은 것은? (단, 총수요 곡선은 우하향하고 총공급 곡선은 우상향한다.)



- | | |
|------------|-----------|
| (가) | (나) |
| ① 민간 소비 증가 | 생산 기술 향상 |
| ② 순수출 증가 | 임금 상승 |
| ③ 민간 투자 증가 | 원자재 가격 상승 |
| ④ 기준 금리 인상 | 노동 인구 감소 |
| ⑤ 소비세율 인상 | 노동 생산성 하락 |

17. 그림은 소득에 따른 갑국의 소득세와 보조금 체계를 나타낸다. 이에 대한 분석으로 옳지 않은 것은?



* 처분 가능 소득 = 소득 - 소득세액 + 보조금

- 소득세를 내는 사람의 소득 대비 소득세액의 비율은 소득이 높을수록 커진다.
- 소득이 15,000달러인 사람의 처분 가능 소득은 20,000달러이다.
- 소득이 33,000달러인 사람이 27,000달러인 사람보다 처분 가능 소득이 높다.
- 소득 대비 처분 가능 소득의 비율은 소득이 높을수록 작아진다.
- 소득 증가분 대비 처분 가능 소득 증가분의 비율은 소득이 높을수록 커진다.

18. 다음 자료에 대한 분석으로 옳은 것은? [3점]

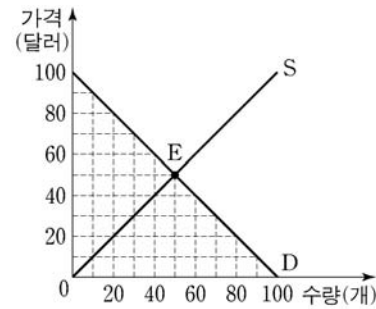
표는 갑국과 을국의 교역 전후에 관한 자료이다. X재와 Y재만을 생산하던 갑국과 을국은 비교 우위가 있는 재화만을 생산하여 일정한 교환 비율에 따라 교역하였다. 단, 양국은 노동만을 생산 요소로 사용하여 생산 가능 곡선상에서 생산하며, 보유한 생산 요소의 양은 같다. 또한 교역은 양국 간에만 이루어지고, 교역 후 모든 재화는 전량 소비되며, 거래 비용은 발생하지 않는다.

구분	갑국		을국	
	X재	Y재	X재	Y재
1개 생산에 필요한 노동 시간(시간)	5	1	4	8
교역 전 생산량(개)	5	55	14	3
교역 후 소비량(개)	㉠	㉡	15	15

- 갑국은 X재 생산에 절대 우위를 가진다.
- 을국은 Y재 생산에 비교 우위를 가진다.
- ㉠은 5, ㉡은 65이다.
- X재 최대 생산 가능량은 갑국은 12개, 을국은 15개이다.
- 교역 후 을국의 X재 1개 소비의 기회비용은 Y재 2개이다.

19. 다음 자료에 대한 분석으로 옳은 것은?

그림은 갑국의 X재 시장 상황을 나타낸다. D는 수요 곡선, S는 사적 비용만을 반영한 공급 곡선이며, E는 현재 시장 균형이다. X재 생산에는 1개당 20달러의 오염 비용이 발생하며, X재 생산자는 이 비용을 부담하지 않고 있다. 정부가 이러한 시장 실패를 해결하기 위해 생산자에게 X재 1개당 20달러의 조세를 부과하는 ㉠ 정책을 시행하려고 한다.



- X재 생산의 사적 비용이 사회적 비용보다 크다.
- ㉠을 시행하면 총 오염 비용은 100달러 감소한다.
- ㉠을 시행하면 총 조세 수입은 2,400달러이다.
- ㉠을 시행하면 총 오염 비용 감소분과 총 조세 수입의 합이 소비자 잉여 감소분과 생산자 잉여 감소분의 합보다 크다.
- 오염 비용을 과다 추정하여 X재 1개당 40달러의 조세를 부과하면 시장 거래량은 사회적 최적 거래량보다 20개 적다.

20. 다음 자료에 대한 옳은 분석만을 <보기>에서 고른 것은? [3점]

매달 X재를 200개 생산하여 1개당 20만 원에 국내 시장에 전량 판매하고 있는 ○○기업은 최근 해외 업체로부터 다음 달에 X재를 1개당 P만 원에 수출해 달라는 제안을 받았다. X재의 생산 비용은 생산량이 한 달에 200개 이하일 때는 1개당 9만 원이지만, 생산량이 한 달에 200개를 초과하면 원자재를 싸게 구입할 수 있어 전체 생산량에 대해 1개당 8만 원으로 하락한다. 수출 시 ○○기업은 1개당 2만 원의 물류비용을 부담한다. ○○기업은 아래 A안~C안 중 이윤이 가장 큰 안을 선택하려고 한다.

(단위: 개)

구분	생산량	국내 판매량	수출량
A안	200	200	0
B안	200	100	100
C안	300	100	200

단, X재의 국내 시장 가격은 20만 원으로 일정하며, 제시된 조건 이외의 다른 요인은 고려하지 않는다.

<보 기>

- P가 21이라면 A안이 B안보다 유리하다.
- P의 크기에 관계없이 C안이 B안보다 유리하다.
- P의 크기에 관계없이 B안은 최선의 선택이 될 수 없다.
- A안이 B안보다 유리하다면 C안은 최선의 선택이 될 수 없다.

- ㉠, ㉡
- ㉠, ㉢
- ㉢, ㉣
- ㉢, ㉤
- ㉣, ㉤

* 확인 사항

○ 답안지의 해당란에 필요한 내용을 정확히 기입(표기)했는지 확인 하시오.

2020학년도 대학수학능력시험

사회탐구 영역 정답표
(경제) 과목

문항 번호	정 답	배 점	문항 번호	정 답	배 점	문항 번호	정 답	배 점	문항 번호	정 답	배 점
1	③	3	6	②	3	11	②	2	16	①	2
2	⑤	2	7	⑤	3	12	②	3	17	⑤	2
3	③	3	8	①	2	13	④	2	18	③	3
4	①	2	9	④	2	14	③	3	19	④	2
5	④	3	10	④	2	15	⑤	3	20	②	3

제 4 교시


사회탐구 영역(사회·문화)

성명

수험 번호

제 [] 선택

1. 밑줄 친 ㉠~㉣과 같은 현상의 일반적 특징에 대한 설명으로 옳은 것은?



우리 연구진은 아인슈타인이 예측했던, 중력에 따라 시간이 천천히 혹은 빠르게 흐르는 현상을 확인하기 위해 해안가와 산꼭대기에 각각 정밀한 시계를 놓고 ㉠ 시간의 흐름을 측정하였습니다. 그 결과 고도가 낮아 ㉡ 중력이 큰 해안가의 시간이 느리게 흐르는 것을 확인하였습니다. 지구보다 중력이 큰 행성에서는 시간이 지구에서보다 느리게 흘러간다는 SF 영화의 단골 소재는 ㉢ 중력으로 인한 시간 지연 현상을 활용한 것입니다.

- ① ㉠과 같은 현상은 ㉣과 같은 현상과 달리 당위 법칙을 따른다.
- ② ㉣과 같은 현상은 ㉢과 같은 현상과 달리 확률의 원리가 적용된다.
- ③ ㉢과 같은 현상은 ㉠, ㉡과 같은 현상과 달리 가치 함축적이다.
- ④ ㉠과 같은 현상은 보편성이, ㉡, ㉢과 같은 현상은 보편성과 특수성이 나타난다.
- ⑤ ㉠, ㉢과 같은 현상은 ㉣과 같은 현상에 비해 인과 관계가 분명하다.

2. 다음에 나타난 개인과 사회의 관계를 바라보는 관점에 부합하는 진술만을 <보기>에서 고른 것은?

모든 사회에는 세대에서 세대로 전수되며 집단적 삶의 통일성과 연속성의 기반이 되는 공통적인 관념과 감정들이 존재한다. 그것들은 심리학적 성격을 갖는데 개인적 차원이 아닌 사회적 차원으로 접근할 수 있다. 왜냐하면 종교적 전통, 정치적 세계관, 언어 등의 현상은 개인적 차원을 훨씬 넘어서기 때문이다. 이러한 관념 및 감정들은 실질적인 사회적 삶과 관련되며 개인은 그것들을 존중하고 준수하도록 요구받는다.

< 보 기 >

ㄱ. 개인은 사회 속에서만 존재의 의미를 갖는다.
 ㄴ. 사회는 개인의 외부에서 독자적으로 작동한다.
 ㄷ. 조직의 역량은 구성원들의 능력을 합한 것과 같다.
 ㄹ. 사회는 개인의 이익을 실현해 주는 수단에 불과하다.

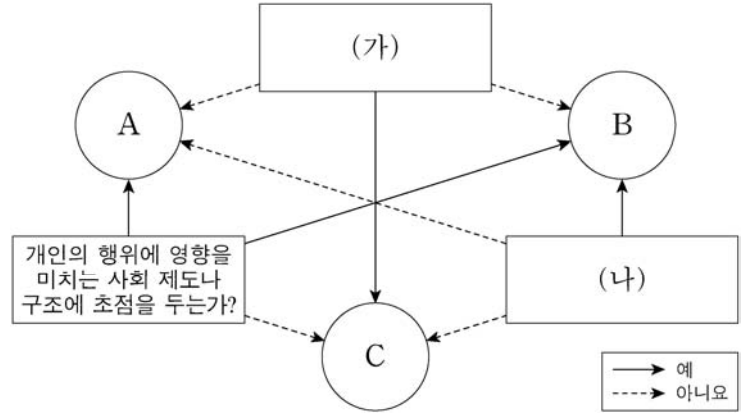
- ① ㄱ, ㄴ ② ㄱ, ㄷ ③ ㄴ, ㄷ ④ ㄴ, ㄹ ⑤ ㄷ, ㄹ

3. 밑줄 친 ㉠~㉣에 대한 설명으로 옳은 것은? [3점]

갑은 ㉠광고 회사 재직 중 세계 일주 여행을 결심하였다. 장기 휴가에 대해 상사에게 어떻게 말할지 ㉡고민하던 갑은 다니던 회사를 ㉢퇴직하기로 결정하였다. 갑은 자신의 퇴직에 대해 부모님과 ㉣갈등을 겪었으나 결국 여행을 떠났다. 여행 중 블로그에 올린 글과 사진을 모아 포토 에세이집을 출간한 갑은 ㉤출판 시장에서 좋은 반응을 얻으면서 큰 ㉥소득을 올렸다. 이를 계기로 마침내 갑은 ㉦청소년 시절부터 꿈꿔 왔던 ㉧베스트셀러 작가가 되었다.

- ① ㉠은 2차적 사회화 기관이자 공식적 사회화 기관이다.
- ② ㉡은 ㉢과 달리 갑의 역할 갈등이다.
- ③ ㉣은 ㉤과 달리 갑의 역할 행동에 대한 제재이다.
- ④ ㉥은 ㉦으로서의 갑의 역할 행동이다.
- ⑤ ㉧은 자연적으로 주어진 귀속 지위이다.

4. 그림은 질문에 따라 사회·문화 현상을 보는 관점 A~C를 구분한 것이다. 이에 대한 설명으로 옳은 것은? (단, A~C는 각각 기능론, 갈등론, 상징적 상호 작용론 중 하나이다.) [3점]



- ① (가)에는 '인간을 사물이나 행위에 주관적인 의미를 부여하는 주체로 보는가?'가 들어갈 수 없다.
- ② A가 갈등론이라면, (가)에는 '사회는 스스로 균형을 유지하는 속성을 지닌다고 보는가?'가 들어갈 수 있다.
- ③ B가 기능론이라면, (나)에는 '사회적 최소가치를 둘러싼 집단 간 대립 관계에 주목하는가?'가 들어갈 수 있다.
- ④ C는 A, B와 달리 행위자의 능동적, 자율적 측면을 간과한다.
- ⑤ (나)가 '사회에는 어느 시점에나 구조적 모순이 내재되어 있다고 보는가?'라면, A는 기득권층의 이익을 대변하는 논리로 이용될 우려가 있다는 비판을 받는다.

5. 다음 연구에 대한 설명으로 옳은 것은? [3점]

갑은 ㉠'여성이 남성보다 일·가정 양립 중시 정도가 높을 것'이라는 가설을 검증하기 위해, 직장인 1,200명을 대상으로 응답자의 사회·인구학적 특성(성별, 연령 등)과 함께 직장 회식 참여 중시 정도, ㉡가족 행사 참여 중시 정도 등 ㉢일·가정 양립 중시 정도에 대한 설문 조사를 실시하였다. 갑은 응답자의 일·가정 양립 중시 정도를 '높음'과 '낮음'으로 나눈 뒤, 성별과 일·가정 양립 중시 정도 간의 관계를 분석하였다.

한편 을은 갑의 분석 결과가 응답자의 세대에 따라 달라지는지 확인하고자 하였다. 이에 을은 갑이 조사한 ㉣자료로 '일·가정 양립 중시 정도'를 갑과 동일하게 조작화한 뒤, 성별과 일·가정 양립 중시 정도 간의 관계를 세대별로 나누어 분석하였다. 다음은 을이 갑의 분석에 세대를 변인으로 추가하여 재구성한 표이다. 분석 결과는 통계적으로 유의미하였다.

< 성별 및 세대별 일·가정 양립 중시 정도 > (단위: 명)

일·가정 양립 중시 정도	성별	여성		남성	
		청년층	중장년층	청년층	중장년층
높음		150	30	120	420
낮음		90	30	180	180

- ① 갑의 분석 결과 ㉠은 기각되었다.
- ② 을의 분석 결과 중장년층인 경우에 ㉠이 수용되었다.
- ③ ㉣은 ㉡의 조작적 정의에 해당한다.
- ④ ㉣은 을의 1차 자료이다.
- ⑤ 을은 갑과 달리 연역적 연구를 수행하였다.

2 (사회·문화)

사회탐구 영역

6. A~D의 일반적 특징에 대한 설명으로 옳은 것은? (단, A~D는 각각 면접법, 문헌 연구법, 질문지법, 참여 관찰법 중 하나이다.)

연구 사례	자료 수집 방법
갑은 소방관 스트레스 완화 방안에 대한 연구를 위해 상담 사례집 내용을 분석하여 스트레스 유형을 분류하고, 비구조화된 질문으로 소방관들과 심층 면담을 하여 그들의 스트레스 경험을 조사하였다.	A, C
을은 소방관 근무 만족도 연구에 필요한 설문 문항 개발을 위해 선행 연구를 검토하여 질문 내용을 구성하고, 30개의 구조화된 문항을 통해 소방관 500명을 대상으로 근무 만족도에 대해 조사하였다.	B, C
병은 소방관 안전 실태 연구를 위해 6개월간 소방관들과 함께 생활하며 그들이 겪는 위험 상황을 관찰하고, 정서적 교감이 형성된 소방관 15명과 깊은 대화를 통해 현장에서 느끼는 위험 요인에 대해 조사하였다.	A, D

- ① C는 A에 비해 시간과 장소의 제약이 크다.
- ② D는 B에 비해 수집된 자료를 통계적으로 처리하기가 용이하다.
- ③ A, D는 B에 비해 연구자의 가치가 개입될 가능성이 높다.
- ④ C는 B, D와 달리 조사 대상자와의 언어적 상호 작용이 필수적이다.
- ⑤ C, D는 A, B와 달리 질적 연구에만 사용 가능하다.

7. 밑줄 친 ㉠~㉣에 대한 옳은 설명만을 <보기>에서 있는 대로 고른 것은? [3점]

★★영화제에서 ㉠가족 희비극 ‘○○○’이 최우수 작품상을 수상했다. 이 영화는 ㉡빈곤층에 속한 한 가족의 이야기를 웃기면서도 슬프게 다뤄 ㉢평론가 협회로부터 호평을 받았다. 감독 갑은 시사회장에서 주연 및 조연 배우뿐 아니라 ㉣보조 출연자들 그리고 ㉤관객들에게 감사의 마음을 전했다. 특히 이 작품은 표준 근로 계약을 준수하며 제작되어 화제가 되었는데, 방송 작가 ㉥노동조합은 이 소식을 전하며 환영의 뜻을 밝혔다. 수상 직후 갑에게는 다수의 ㉦대학 연극영화학과 및 영화 동호회 등에서 강연 요청이 쇄도하고 있다.

<보 기>

㉠. ㉡은 ㉠과 달리 2차 집단이다.
 ㉢. ㉣은 ㉣과 달리 사회 조직이다.
 ㉤. ㉤, ㉥은 모두 관심사나 목표를 공유하는 자발적 결사체이다.
 ㉦. ㉦, ㉧은 모두 공식 조직이다.

- ① ㉠, ㉢
- ② ㉢, ㉤
- ③ ㉢, ㉤
- ④ ㉠, ㉢, ㉤
- ⑤ ㉠, ㉢, ㉤

8. 표는 문화의 속성 A~C가 부각된 사례를 나타낸 것이다. 이에 대한 설명으로 가장 적절한 것은? (단, A~C는 각각 공유성, 전체성, 축적성 중 하나이다.)

속성	사례
A	세탁기 발명으로 가사 노동 부담이 줄어들자 여성의 사회 진출이 증가하였고 사회적 지위도 향상되었다.
B	북아메리카에서 유럽계 여성에게 단발은 자유의 상징으로 여겨졌지만, 원주민 여성에게 단발은 상중(喪中)임을 의미했다.
C	(가)

- ① 문화를 구성하는 요소들이 유기적으로 연결되어 있음을 의미하는 것은 A이다.
- ② 문화가 다음 세대로 계승되면서 점점 새로운 요소가 늘어남을 의미하는 것은 B이다.
- ③ 문화가 구성원의 사고와 행동을 구속함을 의미하는 것은 C이다.
- ④ 기성 세대가 청소년들이 만들어 사용하는 줄임말의 의미를 알지 못하는 것은 B가 아닌 A에 해당하는 사례이다.
- ⑤ 재외 동포 2세가 한국을 방문하였으나 한국어를 몰라 의사소통의 불편함을 경험하는 사례는 (가)에 들어갈 수 있다.

9. 다음 자료에 대한 설명으로 옳은 것은? (단, A~C는 각각 전체 문화, 하위문화, 반문화 중 하나이다.)

○ 처음에 인터넷 개인 방송은 A였다. 영상 제작 및 ㉠편집 기술을 가진 일부 사람들을 중심으로 인터넷 개인 방송이 운영되었다. 그때는 편리한 제작 도구가 보급되기 전이어서 인터넷 개인 방송을 누구나 쉽게 운영하기가 어려웠다.
 ○ 인터넷 개인 방송이 지상파 방송 프로그램을 능가하는 큰 관심과 화제성을 보이며 ㉡대중문화를 주도하고 있다. 대다수 사회 구성원이 즐기고 있는 지금의 인터넷 개인 방송은 B이다.
 ○ ㉢인터넷 개인 방송 제작 기술은 빠르게 발전하고 있지만 혐오 표현 남발, 가짜 뉴스 유포 등을 규제할 법 제도는 미비한 상태이다. 이렇게 기존 질서를 거부하며 사회적 물의를 빚는 인터넷 개인 방송은 C에 해당한다.

- ① ㉠은 인간의 지적 욕구를 충족해 주는 비물질문화에 해당한다.
- ② ㉡에서의 ‘문화’는 좁은 의미로서의 문화이다.
- ③ ㉢은 비물질문화의 변동 속도를 물질문화의 변동 속도가 따라가지 못해 발생한 사례에 해당한다.
- ④ B는 C와 달리 전체 사회의 규범을 부정하고 지배적인 가치와 대립하는 문화이다.
- ⑤ A, C는 모두 기존 문화에 다양성과 역동성을 제공할 수 있다.

10. 다음은 일탈 이론 A~C에 대한 수행 평가 및 교사의 채점 결과이다. 이에 대한 옳은 설명만을 <보기>에서 있는 대로 고른 것은? (단, A~C는 각각 낙인 이론, 머튼의 아노미 이론, 차별 교제 이론 중 하나이다.) [3점]

〈수행 평가 과제〉	
학생	과제 내용
갑	A와 구분되는 B의 특징 3가지 서술하기
을	B와 구분되는 C의 특징 3가지 서술하기
병	C와 구분되는 A의 특징 3가지 서술하기

〈각 학생의 서술 및 교사의 채점 결과〉		
학생	서술 내용	점수
갑	1. 차별적인 제재가 일탈 행동의 원인이라고 본다. 2. 일탈 행동이 발생하는 과정에서 나타나는 상호 작용에 주목한다. 3. 일탈자로 규정하는 것에 대한 신중한 접근이 필요하다고 본다.	2점
을	1. 사회 규범의 통제력 회복을 일탈 행동의 근본적인 해결 방안으로 본다. 2. 일탈 행동의 원인을 부정적 자아 정체성 형성에서 찾는다. 3. 일탈 행동을 규정하는 객관적 기준이 존재한다고 본다.	㉠
병	1. 정상적인 사회 집단과의 교류가 일탈 행동을 억제한다고 본다. 2. 일탈 행동에 대한 사회적 반응이 지속적인 일탈 행동의 원인이라고 본다. 3. _____ (가)	1점

* 교사는 각 서술별로 채점하고, 서술 하나가 맞을 때마다 1점씩 부여함.

<보 기>

㉠. ㉠은 2점이다.
 ㉡. (가)에는 ‘일탈 행동은 비행 집단과의 접촉을 통해 학습된다고 본다.’가 들어갈 수 있다.
 ㉢. B는 최초의 일탈 행동보다 반복적 일탈 행동에 초점을 맞춘다.
 ㉣. C는 일탈 행동 예방 방안으로 소외 계층에 대한 교육 지원, 직업 훈련 프로그램 제공을 지지할 것이다.

- ① ㉠, ㉢
- ② ㉠, ㉤
- ③ ㉢, ㉤
- ④ ㉠, ㉢, ㉤
- ⑤ ㉢, ㉤, ㉥

11. 다음은 사회 불평등 현상을 설명하는 이론 A, B를 기준으로 갑~무를 조사한 자료이다. 이에 대한 분석으로 옳은 것은? (단, A, B는 각각 계급 이론, 계층 이론 중 하나이다.) [3점]

<A에 따른 조사 자료>

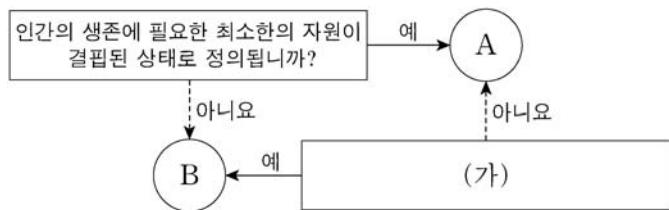
구분	갑	을	병	정	무
생산 수단 소유 여부	미소유	미소유	소유	미소유	소유

<B에 따른 조사 자료>

구분	갑	을	병	정	무
재산 정도	상	하	상	중	상
위신 정도	중	하	상	하	하
권력 정도	상	하	상	하	상

- ① 계급 이론에 따르면 을, 정은 서로 다른 계급으로 구분된다.
- ② 계층 이론에 따르면 을, 병 간 권력 정도의 차이는 재산 정도의 차이에 의해 결정된다.
- ③ 갑, 병, 무는 공통의 계급적 연대 의식을 공유한다.
- ④ 계층적 위치에서 사회적 측면과 정치적 측면 간 지위 불일치가 나타나는 사람은 2명이다.
- ⑤ B는 A와 달리 사회 불평등 현상을 이분법적으로 파악한다.

12. 그림은 질문을 통해 빈곤 유형 A, B를 구분한 것이다. 이에 대한 옳은 설명만을 <보기>에서 고른 것은? (단, A, B는 각각 상대적 빈곤, 절대적 빈곤 중 하나이다.)



- <보기>
- ㄱ. A는 B와 달리 선진국에서는 나타나지 않는다.
 - ㄴ. B에 해당하는 사람은 A에 해당하지 않는다.
 - ㄷ. 우리나라에서는 A, B 모두 객관화된 기준에 의해 규정된다.
 - ㄹ. (가)에는 '우리나라에서는 가구 소득이 중위 소득의 50% 미만인 상태를 의미합니까?'가 들어갈 수 있다.

- ① ㄱ, ㄴ ② ㄱ, ㄷ ③ ㄴ, ㄷ ④ ㄴ, ㄹ ⑤ ㄷ, ㄹ

13. (가), (나)에 나타난 문화 변동에 대한 분석으로 가장 적절한 것은?

(가) '크루아상(croissant)'은 원래 오스트리아에서 먹기 시작한 빵이다. 이슬람 국가인 오스만 제국의 공격을 막아 낸 오스트리아인들이 적국에게 모욕감을 주려고 이슬람 상징인 초승달 모양의 빵을 만들어 먹은 데서 유래했다고 한다. 이후 프랑스 왕세자와 혼인한 오스트리아의 공주 마리 앙투아네트가 자국의 제빵사를 데려오면서 이 빵이 프랑스에 널리 전해졌다.

(나) 베트남 음식인 '바인 미(bánh mì)'는 프랑스의 식민지 시절에 전래된 프랑스 빵 바게트에서 유래하였다. 처음 베트남인들은 바게트를 고급 음식으로 여겨 연유에 찍어 먹었다. 이것이 이후에 '바인 미'로 불리게 되었고, 바게트에 베트남 고유의 음식으로 속을 채워 먹기 시작하면서 지금과 같은 새로운 형태의 대중적인 먹거리로 변화하였다.

- ① (가)에는 문화 동화의 사례가 나타나 있다.
- ② (나)에는 문화 융합의 사례가 나타나 있다.
- ③ (가)에는 (나)와 달리 간접 전파의 사례가 나타나 있다.
- ④ (나)에는 (가)와 달리 자극 전파의 사례가 나타나 있다.
- ⑤ (가), (나)에는 모두 강제적 문화 접변의 사례가 나타나 있다.

14. 표는 문화 이해의 태도 A~C를 질문 (가)~(다)에 따라 구분한 것이다. 이에 대한 옳은 설명만을 <보기>에서 고른 것은? (단, A~C는 각각 문화 상대주의, 문화 상대주의, 자문화 중심주의 중 하나이다.) [3점]

태도 \ 질문	(가)	(나)	(다)
A	예	아니요	예
B	예	아니요	아니요
C	아니요	예	아니요

- <보기>
- ㄱ. A가 자문화 중심주의라면, (가)에는 '국수주의적 태도로 인해 문화 다양성을 거부하는가?'가 들어갈 수 있다.
 - ㄴ. B가 자문화 중심주의, C가 문화 상대주의라면, (다)에는 '타 문화를 일방적으로 추종하는가?'가 들어갈 수 있다.
 - ㄷ. (가)가 '문화 간 우열을 평가할 수 있다고 보는가?'라면, (나)에는 '개별 사회가 향유하고 있는 문화의 고유한 가치를 존중하는가?'가 들어갈 수 있다.
 - ㄹ. (나)가 '자기 문화의 정체성을 상실할 우려가 있다는 비판을 받는가?'이고, (다)가 '자기 문화의 가치만을 중시하는가?'라면, B는 문화 상대주의이다.

- ① ㄱ, ㄴ ② ㄱ, ㄷ ③ ㄴ, ㄷ ④ ㄴ, ㄹ ⑤ ㄷ, ㄹ

15. 다음 자료에 대한 분석으로 옳은 것은? (단, (가), (나) 이외의 다른 제도는 고려하지 않는다.) [3점]

<자료 1>은 우리나라의 사회 보장 제도 (가), (나)를 검색한 결과이고, <자료 2>는 해당 제도의 ○○시 지역·시기별 수급자 비율이다.

<자료 1> (가), (나)의 검색 결과

(가)

생활이 어려운 사람에게 필요한 급여를 지급하여 최저 생활을 보장하고 자활을 지원하는 제도

(나)

노령, 장애, 사망 시 본인 및 가족에게 연금 급여를 실시하여 기본 생활을 유지할 수 있도록 하는 제도

<자료 2> ○○시의 지역·시기별 수급자 비율 (단위: %)

구분	(가)		(나)	
	t년	t+10년	t년	t+10년
A 지역	4.8	5.0	3.4	4.0
B 지역	2.8	3.6	7.4	8.0
전체	4.4	4.3	4.2	6.0

* 해당 지역 수급자 비율(%) = $\frac{\text{해당 지역 수급자 수}}{\text{해당 지역 인구}} \times 100$

** ○○시에는 A, B 지역만 있고, t년과 t+10년의 ○○시 총인구는 동일함.

- ① (가)는 (나)와 달리 수급자가 수혜 정도에 따라 차등적으로 비용을 부담한다.
- ② 사후 처방적 성격이 강한 제도의 경우, t년에 A 지역 수급자 수는 B 지역 수급자 수의 4배이다.
- ③ 강제 가입의 원칙이 적용되는 제도의 경우, t년은 t+10년과 달리 B 지역 수급자 수보다 A 지역 수급자 수가 많다.
- ④ 상호 부조의 원리가 적용되는 제도의 경우, B 지역 수급자 비율 대비 A 지역 수급자 비율은 t년보다 t+10년이 작다.
- ⑤ 보편적 복지의 성격이 강한 제도의 t년 지역 간 수급자 수 차이는 선별적 복지의 성격이 강한 제도의 t+10년 지역 간 수급자 수 차이 보다 작다.

4 (사회 · 문화)

사회탐구 영역

16. 표는 가족 문제를 바라보는 이론적 관점을 파악하기 위한 질문과 답변이다. 기능론, 갈등론, 상징적 상호 작용론 중 하나의 관점에서 일관되게 응답한 학생은? [3점]

질문	학생	갑	을	병	정	무
가족 문제는 가족 구성원 중 일부에게 일방적 희생을 강요한 결과라고 보는가?		×	○	×	○	×
가족 문제의 원인이 가족 구성원 간의 유대 약화에 있다고 보는가?		○	×	○	×	○
가족 문제는 가족 내 가부장제적 구조를 해체하여 해결할 수 있다고 보는가?		×	○	○	×	×
가족 문제는 사회적으로 합의된 가족 규범의 사회화를 통해 해결할 수 있다고 보는가?		○	×	×	○	×
가족 문제가 발생하는 상황적 맥락에 대한 이해에 초점을 두는가?		○	×	×	×	○

(○: 예, ×: 아니오)

- ① 갑 ② 을 ③ 병 ④ 정 ⑤ 무

17. 대중 매체의 특징을 활용한 다음 게임에 대한 설명으로 옳은 것은?

게임의 규칙

- A, B상자 안에 각각 3장의 카드가 있다. 카드마다 점수를 부여하는데, 각 카드의 내용이 종이 신문, TV, 인터넷의 일반적 특징 중 하나에만 해당하면 1점, 두 개에만 해당하면 2점, 세 개 모두에 해당하면 3점을 부여한다.
- 갑은 A, B상자에서 각각 1장씩 카드를 뽑아 내용 확인 후 다시 원래의 상자에 카드를 넣는다. 을도 같은 방식으로 게임을 진행한다.
- 각 상자에서 뽑은 카드 2장으로 얻은 점수의 합이 높은 사람이 이긴다.

A 상자

- 카드 1: 복합 감각 정보의 전달이 가능하다.
- 카드 2: 시각 정보의 제공이 가능하다.
- 카드 3: 일방향 정보 전달만이 가능하다.

B 상자

- 카드 4: 정보의 비동시적 소비가 가능하다.
- 카드 5: 정보 사회에 등장한 매체이다.
- 카드 6: 정보 생산자와 소비자 간 경계가 모호하다.

- ① A 상자에 담긴 카드의 총점은 6점이다.
 ② 한 사람이 1회 게임에서 얻을 수 있는 최소 점수는 2점이다.
 ③ 한 사람이 1회 게임에서 얻을 수 있는 최대 점수는 6점이다.
 ④ 한 사람이 1회 게임에서 종이 신문에 해당하는 내용이 있는 카드로 얻을 수 있는 최대 점수는 5점이다.
 ⑤ 갑이 카드 2와 카드 4를 뽑았다면, 을이 이길 수 있는 카드의 조합은 1가지이다.

18. 다음 자료에 대한 옳은 설명만을 <보기>에서 고른 것은? [3점]

교사: 사회 변동의 방향을 바라보는 관점에는 A, B가 있습니다. 이에 대하여 발표해 보세요.
 갑: A는 사회 변동이 항상 발전을 의미하지는 않는다는 점을 간과합니다.
 을: B는 서구 사회가 진보된 사회임을 전제합니다.
 병: (가)
 정: B는 미래 사회의 변동 방향에 대한 예측에 한계가 있습니다.
 교사: 한 사람을 제외하고 모두 옳게 발표했네요.

<보기>

- ㄱ. A는 사회 변동 과정에서 나타나는 사회의 쇠락을 설명하기가 용이하다.
 ㄴ. B는 운명론적 관점에서 사회 변동을 설명한다.
 ㄷ. A는 B와 달리 사회 변동의 유형이 사회마다 다르다고 본다.
 ㄹ. (가)에는 'A는 사회가 미분화된 상태에서 분화된 상태로 변동한다고 봅니다.'가 들어갈 수 있다.

- ① ㄱ, ㄴ ② ㄱ, ㄷ ③ ㄴ, ㄷ ④ ㄴ, ㄹ ⑤ ㄷ, ㄹ

19. 교사가 제시한 과제에 대해 옳게 응답한 학생만을 고른 것은? (단, A~C는 각각 농업 사회, 산업 사회, 정보 사회 중 하나이다.)

A~C를 '직업의 동질성 정도'라는 기준에 따라 비교하면 A>B>C로 나타납니다. 다음 빈칸에 A~C를 각각 넣고, 어떤 설명이 가능한지 이야기해 봅시다.

기준	비교 결과
1차 산업의 비중	<input type="text"/> > <input type="text"/> > <input type="text"/>
사회 변동의 속도	<input type="text"/> > <input type="text"/> > <input type="text"/>
사회의 다원화 정도	<input type="text"/> > <input type="text"/> > <input type="text"/>
가정과 일터의 분리 정도	<input type="text"/> > <input type="text"/> > <input type="text"/>
지식과 정보의 부가 가치 창출 정도	<input type="text"/> > <input type="text"/> > <input type="text"/>

갑: A는 C에 비해 구성원 간의 익명성 정도가 큼다.
 을: C는 B에 비해 다품종 소량 생산 방식의 비중이 높습니다.
 병: 기준이 '구성원의 비대면 접촉 정도'일 때와 비교 결과가 동일한 것은 3개입니다.
 정: 기준이 '사회적 관계를 맺는 공간적 제약의 정도'일 때와 비교 결과가 동일한 것은 2개입니다.

- ① 갑, 을 ② 갑, 병 ③ 을, 병 ④ 을, 정 ⑤ 병, 정

20. 다음 자료에 대한 분석으로 옳은 것은?

(가), (나) 사회의 계층은 A~C로만 구성되며, A~C는 각각 상층, 중층, 하층 중 하나이다. 모든 부모의 자녀는 1명씩이다.

<부모 세대와 자녀 세대 계층 구성의 상대적 비>

구분	(가) 사회		(나) 사회	
	부모 세대	자녀 세대	부모 세대	자녀 세대
$\frac{A+C}{A+B}$	$\frac{7}{9}$	$\frac{5}{8}$	$\frac{5}{9}$	$\frac{5}{7}$
$\frac{A+C}{B+C}$	$\frac{7}{4}$	$\frac{5}{7}$	$\frac{5}{6}$	$\frac{5}{8}$

<자녀 세대 계층 대비 부모 세대와 자녀 세대의 계층 불일치 비율>

(단위: %)

구분	(가) 사회	(나) 사회
A	0	20
B	52	10
C	55	80

* 자녀 세대 B는 부모 세대보다 계층이 높을 수 없으며, C는 A보다 높은 계층임.

- ① (가) 사회에서 세대 간 상승 이동을 한 사람의 수는 하층 부모를 둔 자녀보다 중층 부모를 둔 자녀가 많다.
 ② (나) 사회는 중층 부모를 둔 자녀 중에서 세대 간 상승 이동 비율이 세대 간 하강 이동 비율보다 높다.
 ③ (가) 사회와 달리 (나) 사회에서는 세대 간 이동 비율이 계층 대물림 비율보다 낮다.
 ④ (가) 사회와 달리 (나) 사회에서 부모 세대에는 피라미드형 계층 구조가, 자녀 세대에는 다이아몬드형 계층 구조가 나타난다.
 ⑤ (가) 사회는 부모 세대 상층에서 자녀 세대 중층으로의 이동이, (나) 사회는 부모 세대 하층에서 자녀 세대 상층으로의 이동이 나타나지 않았다.

* 확인 사항

○ 답안지의 해당란에 필요한 내용을 정확히 기입(표기)했는지 확인 하시오.

2020학년도 대학수학능력시험

사회탐구 영역 정답표
(사회·문화) 과목

문항 번호	정 답	배 점	문항 번호	정 답	배 점	문항 번호	정 답	배 점	문항 번호	정 답	배 점
1	①	2	6	③	2	11	④	3	16	②	3
2	①	2	7	③	3	12	⑤	2	17	④	2
3	⑤	3	8	①	2	13	②	2	18	④	3
4	⑤	3	9	⑤	2	14	⑤	3	19	③	2
5	①	3	10	③	3	15	③	3	20	②	2