

제 4 교시

직업탐구 영역(상업 정보 ①)

성명		수험 번호							
----	--	-------	--	--	--	--	--	--	--

1. 다음은 어떤 환경 관련 국제 협약의 목적을 달성하기 위한 주장의 일부이다. 이에 적합한 실행 조치로 가장 적절한 것은?

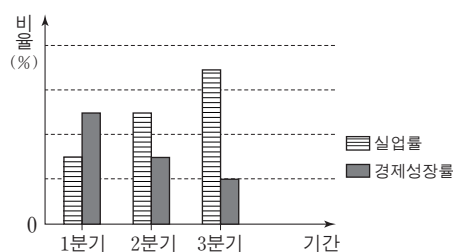
인간에 의해 초래된 지구 온난화는 이산화탄소가 지구를 담요처럼 덮어서 지구상의 열을 외부로 빠져나가지 못하도록 가두는 역할을 하기 때문에 발생한다. 이에 따라, ○○협회는 지구의 온도 상승이 미미하다 하더라도 야생 동물들에게는 치명적인 위협이 될 수 있으므로 이산화탄소의 배출량을 감축하는 조치를 취해야 한다고 주장하고 있다.

— 프레드 싱거 · 데니스 에이버리,
『Unstoppable Global Warming』, 김민정 역, 일부 수정 —

- ① 유해 폐기물의 국가 간 이동을 금지한다.
- ② 석탄, 석유 등의 화석 연료 사용을 줄인다.
- ③ 유해 폐기물을 바다에 버리는 것을 금지한다.
- ④ 자동차, 항공기 등에서 발생하는 소음을 최소화한다.
- ⑤ 생물자원의 생산 및 정화 기능을 갖춘 습지를 보전한다.

2. 다음은 우리나라의 경제 상황을 가상으로 나타낸 것이다. 이 상황에 따라, 한국은행이 시행할 수 있는 통화 정책으로 적절한 것을 <보기>에서 고른 것은? (단, 제시된 자료 외에는 고려하지 않는다.)

우리나라의 실업률과 경제성장률은 아래 그래프와 같이 지속적으로 상승 및 하락하고 있어 시중의 통화량을 조절할 필요성이 있다.



— < 보 기 > —

- ㄱ. 기준금리를 인상한다.
- ㄴ. 통화안정증권을 상환한다.
- ㄷ. 시중은행의 지급준비율을 인하한다.
- ㄹ. 금융 기관에 대한 대출 금리를 인상한다.

- ① ㄱ, ㄴ ② ㄱ, ㄷ ③ ㄴ, ㄷ
- ④ ㄴ, ㄹ ⑤ ㄷ, ㄹ

3. 다음은 ○○은행에서 취급하고 있는 금융 상품을 분석한 자료이다. 이를 통해 알 수 있는 금융 상품으로 적절한 것은?

○○은행은 고객, 상품 특성 등을 고려하여 금융 상품을 아래와 같이 분석하였다.

<ul style="list-style-type: none"> • 매월 일정액을 불입하여 목돈 마련이 가능하다. • 일정 금액까지 예금자 보호를 받을 수 있다. 	<ul style="list-style-type: none"> • 입출금이 자유롭지 않다. • 중도 해지할 경우 이자가 적어진다.
강점	약점
기회	위험
<ul style="list-style-type: none"> • 안정성이 높은 금융 상품을 원하는 고객이 늘어나고 있다. 	<ul style="list-style-type: none"> • 비은행 예금 취급 기관에서 금리가 높은 상품이 개발되고 있다.

- ① 금전 신탁 ② 별단 예금
- ③ 정기 적금 ④ 정기 예금
- ⑤ 양도성 예금 증서

4. 다음은 [A 씨와 B 증권(주)의 거래 상황]과 이와 관련된 [상법 제106조, ②항]을 나타낸 것이다. 이에 대한 설명으로 옳은 것은? (단, 제시된 자료 외에는 고려하지 않는다.) [3점]

[A 씨와 B 증권(주)의 거래 상황]

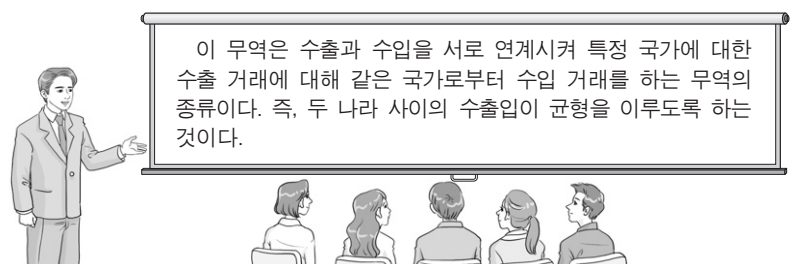
A 씨는 B 증권(주)에 다른 약정 없이 주식 100주를 주당 5천 원에 매도해 줄 것을 위탁하였다. 그런데 B 증권(주)은 해당 주식을 주당 6천 원에 매도하였다.

[상법 제106조, ②항]

위탁자가 지정한 가액보다 고가로 매도하거나 염가로 매수한 경우에는 그 차액은 다른 약정이 없으면 위탁자의 이익으로 한다.

- ① A 씨는 가격을 지정하여 위탁하였다.
- ② B 증권(주)은 경업 금지 의무를 갖는다.
- ③ B 증권(주)은 중개인으로서 상업 활동을 하였다.
- ④ B 증권(주)은 A 씨의 명의로 주식을 매도하였다.
- ⑤ A 씨는 주식 매도 금액 중 주당 5천 원을 B 증권(주)으로부터 받는다.

5. 다음은 어떤 무역의 종류에 대한 수업 장면이다. 이에 속하는 무역 거래 형태로 옳은 것은?



- ① 구상 무역 ② 가공 무역 ③ 중개 무역
- ④ 중계 무역 ⑤ 통과 무역

6. 다음은 우리나라의 [9월 경상수지 및 9월 대비 10월 경상수지 변동 상황]을 가상으로 나타낸 것이다. 9월 대비 10월의 변동 상황이 초래된 항목별 대외 거래로 옳은 것은? (단, 미 달러만 고려하며, 제시된 자료 외에는 고려하지 않는다.) [3점]

[9월 경상수지 및 9월 대비 10월 경상수지 변동 상황]			
(단위: US \$)			
	항목	9월	9월 대비 10월의 변동 상황
경 상 수 지	상품수지	25억 흑자	흑자폭의 축소
	서비스수지	1억 적자	흑자로 전환
	본원소득수지	5억 흑자	적자로 전환
	이전소득수지	2억 적자	적자폭의 축소

* 현재 소득수지는 본원소득수지로, 경상이전수지는 이전소득수지로 변경하여 사용하고 있음.

- ① 외국에 무상으로 3억 달러를 지원하였다.
- ② 해외에서 외화 증권 1억 달러를 발행하였다.
- ③ 투자한 외화 증권에 대한 이자 4억 달러를 받았다.
- ④ 특허권 사용 대가로 외국으로부터 2억 달러를 받았다.
- ⑤ 외국에 스마트폰을 수출하고 대금 26억 달러를 받았다.

7. 다음 기사에 나타난 운송 방법에 대한 설명으로 적절한 것만을 <보기>에서 있는 대로 고른 것은?

‘한·중·일 트럭페리’란 중국에서 화물을 적재한 트럭을 선박을 이용하여 한국으로 운송한 후, 평택과 부산을 육상으로 연결한 뒤에 한국과 일본을 잇는 운송 방법을 말한다.
산업통상자원부는 트럭페리 운행 가능 구역에 중국 텐진시와 산시성, 일본 오사카를 추가하기로 했다. 이에 따라, 보세 공장에서 나온 부품을 자유무역지대에서 트럭에 싣고 곧장 중국, 일본으로 수출할 수 있게 될 것이다.

— ○○신문, 2015년 8월 26일 자 —

— < 보 기 > —

- ㄱ. 근거리 운송에 주로 이용되는 방식이다.
- ㄴ. 화물 적재 및 하역 과정이 줄어들어 비용이 절감된다.
- ㄷ. 송화인의 문전에서 수화인의 문전까지 일관 운송 체계로 운송한다.


- ① ㄱ ② ㄷ ③ ㄱ, ㄴ
- ④ ㄴ, ㄷ ⑤ ㄱ, ㄴ, ㄷ

8. 다음의 거래 사례에서 발행된 A, B 어음에 대한 설명으로 가장 적절한 것은? [3점]

- ○○(주)는 상품 5백만 원어치를 갑 회사에 판매하고, 갑 회사가 그 대금을 지급하기로 하고 발행한 A 어음을 받았다.
- △△(주)는 을 회사에 상품대금을 결제하기 위해 병 회사를 지급인으로 하는 6백만 원짜리 B 어음을 발행하였다.

- ① A 어음은 지급 위탁 증권이다.
- ② B 어음은 발행인과 수취인이 동일하다.
- ③ A와 B 어음은 인수 절차가 필요하다.
- ④ A와 B 어음은 배서하여 양도할 수 있다.
- ⑤ A와 B 어음은 필수 기재 사항이 동일하다.

9. 다음 대화는 ○○(주)의 유통 경로 정책 선택에 대한 내용이다. 사장이 대리가 제안한 유통 경로 정책을 채택한 이유로 적절한 것만을 <보기>에서 있는 대로 고른 것은? [3점]



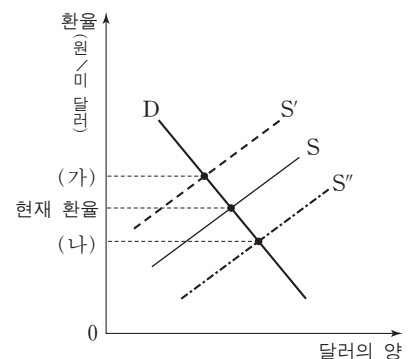
— < 보 기 > —

- ㄱ. 취급하는 상품이 편의품이기 때문이다.
- ㄴ. 부장이 제안한 유통 경로 정책보다 판매처에 대한 통제가 쉬워지기 때문이다.
- ㄷ. 과장이 제안한 유통 경로 정책보다 물적 유통 비용을 줄일 수 있기 때문이다.

- ① ㄱ ② ㄷ ③ ㄱ, ㄴ
- ④ ㄴ, ㄷ ⑤ ㄱ, ㄴ, ㄷ

10. 다음 자료에서 현재 환율 대비 (가)의 환율에서 유리한 자와 현재 환율에서 (나)의 환율 방향으로 변동이 예상되었을 때 효율적인 방안으로 적절한 것은? (단, 미 달러와 환율만 고려하며, 환전을 전제로 한다.) [3점]

우리나라의 경제 주체들은 외화의 수요와 공급에 의한 환율 변동에 따라 유리하거나 불리할 수 있다. 기업은 이러한 환율 변동을 감안하여 효율적인 방안을 마련하여 시행해야 한다.



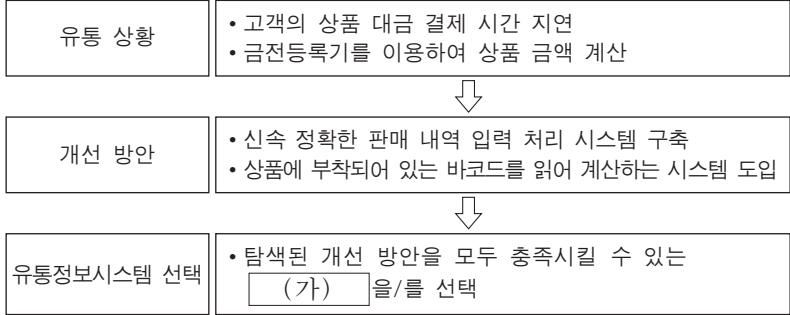
유리한 자

- ① 외화 예금을 보유한 자
- ② 외화 예금을 보유한 자
- ③ 외화 부채를 상환하려는 자
- ④ 외화 부채를 상환하려는 자
- ⑤ 수출대금을 회수한 기업

효율적인 방안

- 외화 부채의 조기 상환
- 수입 상품의 대금 지급 연기
- 외화 부채의 조기 상환
- 수입 상품의 대금 지급 연기
- 외화 부채의 조기 상환

11. 다음은 ○○유통(주)이 새로운 유통정보시스템을 선택하기 위한 탐색 과정을 나타낸 것이다. (가)에 해당하는 시스템을 도입할 때 얻을 수 있는 효과로 적절하지 않은 것은? [3점]



- ① 상품 재고 현황을 파악할 수 있을 것이다.
- ② 할인 판매 현황을 측정할 수 있을 것이다.
- ③ 상품별 판매 시간을 측정할 수 있을 것이다.
- ④ 상품의 분실, 파손을 방지할 수 있을 것이다.
- ⑤ 판매 내역을 DB화하여 관리할 수 있을 것이다.

12. 다음은 인터넷 쇼핑몰 창업에 대한 내용이다. ㉠에 해당하는 내용으로 적절하지 않은 것은?

정보통신기술의 발달은 대면 거래의 감소를 가져왔다. 이로 인해 건물, 종업원 고용 등이 필요한 전통적인 상거래 방식의 창업보다는 인터넷 쇼핑몰 등의 전자 상거래 창업이 증가하고 있다. 그 이유는 전자 상거래가 전통적인 상거래보다 ㉠ 유리한 점이 있기 때문이다.

- ① 시장의 범위가 넓어진다.
- ② 고객의 범위를 전세계로 확대할 수 있다.
- ③ 창업과 관련된 투자 및 운영비용이 적게 소요된다.
- ④ 상품을 매장에 진열하여 고객이 직접 품질을 확인하도록 한다.
- ⑤ 쌍방향 통신을 이용하여 실시간으로 일대일 마케팅 활동을 할 수 있다.

13. 다음 (가), (나)에 공통적으로 나타난 상업의 기능으로 적절한 것을 <보기>에서 고른 것은? (단, 제시된 자료 외에는 고려하지 않는다.)

(가) 조선 후기에 어물 선상들은 생산지에서 한강변으로 싣고 온 상품의 10분의 1은 서울 시내 어물전에 의무적으로 팔고, 나머지 10분의 9는 마음대로 팔 수 있었다.

(나) 보부상 중에서 보상은 값이 싸고 정교한 잡화 등을 보자기에 싸서 질빵으로 걸머지고 다니며 장시나 농가에서 팔았기 때문에 붓짐장사라 불리었고, 부상은 값싼 일용품을 지게에 지고 다니면서 판매하였기 때문에 등짐장사라 불리었다.

— 세종대왕기념사업회, 『한국 상업의 역사』, 일부 수정 —

— < 보 기 > —

- ㄱ. 소유권을 이전하는 기능
- ㄴ. 자금을 융통해 주는 기능
- ㄷ. 장소적 불일치를 조절하는 기능
- ㄹ. 시간적 불일치를 조절하는 기능

- ① ㄱ, ㄴ ② ㄱ, ㄷ ③ ㄴ, ㄷ
- ④ ㄴ, ㄹ ⑤ ㄷ, ㄹ

14. 다음은 A씨의 화재 보험 계약과 보험 사고 관련 사례이다. 이에 대한 설명으로 옳은 것은? [3점]

A씨는 자신이 소유한 시가 10억 원의 건물에 대하여 2014년 1월에 1년간 ○○화재(주)와 5억 원의 화재 보험 계약을 체결하고, 연간 보험료 100만 원을 납입하였다. 그 후, 2014년 5월에 이 건물에 우연한 사고로 화재가 발생하여 ○○화재(주)에 보험금을 청구하였다.

손해 사정을 마친 ○○화재(주)는 손실을 4억 원으로 평가하고 비례보상원칙에 따라 보험금을 지급할 예정이다.

- ① A씨는 보험자이다.
- ② A씨가 가입한 보험은 정액 보험에 속한다.
- ③ A씨가 가입한 보험 계약의 형태는 일부 보험이다.
- ④ ○○화재(주)는 보험금으로 4억 원을 지급한다.
- ⑤ ○○화재(주)는 만기에 A씨에게 100만 원을 환급한다.

15. 다음 질문에 대한 응답을 모두 만족시키는 경쟁 매매 방식의 거래 사례로 가장 적절한 것은?

질문	응답	
	예	아니요
판매자와 구매자가 모두 다수인 상황에서 거래가 이루어지는가?	√	
조직적 시장에서 거래가 이루어지는가?	√	
구두나 손짓으로 가격을 제시하는가?		√
낙찰 가격은 최고 또는 최저 가격으로 결정하는가?		√

- ① A농장은 경매인을 통하여 농산물을 판매하였다.
- ② B회사는 수의 계약 방식으로 물품을 구입하였다.
- ③ C공사는 공고 입찰 방식으로 토지를 매각하였다.
- ④ D구청은 필요한 물품을 입찰 방식으로 구입하였다.
- ⑤ E증권(주)은 유가증권시장에서 주식을 매매하였다.

16. 다음은 ○○(주)의 수출 방식에 의한 해외 진출 방식이다. [기존 방식]을 [제안 방식]으로 변경하였을 때 ○○(주)에서 나타날 수 있는 현상으로 적절한 것을 <보기>에서 고른 것은?

○○(주)는 수출 경험 부족으로 [기존 방식]을 이용하여 물품을 수출해 왔다. 그러나 독자적으로 수출하기 위하여 수출 전문 인력을 채용하고 [제안 방식]으로 변경하였다.

[기존 방식]		[제안 방식]
수출 업무 경험이 풍부하고 전문성을 갖춘 제3자를 통해 ○○(주)의 물품을 해외 시장에 수출하는 형태	⇒	○○(주)가 본국에서 생산한 물품을 외국의 수입업자에게 수출할 때 자신이 수출 업무를 수행하는 형태

— < 보 기 > —

- ㄱ. 수출 클레임을 회피할 수 있을 것이다.
- ㄴ. 중간상의 이익을 배제하여 더 많은 이윤을 창출할 수 있을 것이다.
- ㄷ. 해외 시장에 대한 직접 수출을 통해 노하우를 축적할 수 있을 것이다.
- ㄹ. 수출 대행사인 종합 무역 상사 등을 통하여 수출할 수 있을 것이다.

- ① ㄱ, ㄴ ② ㄱ, ㄷ ③ ㄴ, ㄷ
- ④ ㄴ, ㄹ ⑤ ㄷ, ㄹ

17. 다음은 [상품 생산 및 무역의 전제 조건]과 [1단위 생산에 투입되는 노동자 수]를 나타낸 것이다. 이에 대한 설명으로 옳은 것만을 <보기>에서 있는 대로 고른 것은? (단, 절대생산비설과 비교생산비설을 적용하며, 제시된 자료 외에는 고려하지 않는다.) [3점]

[상품 생산 및 무역의 전제 조건]

- A국과 B국은 TV와 양복을 각각 1단위씩 생산하여 소비하고 있다.
- 양국은 상품 특화 후 한 가지 상품만 생산하여 1:1로 교환하며, 무역에 대한 제비용은 고려하지 않는다.

[1단위 생산에 투입되는 노동자 수]

- TV와 양복 각각 1단위 생산에 필요한 노동자 수는 기술의 진보에 따라 아래와 같이 변화하였다.

변화 전 투입 노동자 수				변화 후 투입 노동자 수			
국가	상품	TV	양복	국가	상품	TV	양복
A 국		120명	140명	A 국		110명	100명
B 국		130명	100명	B 국		80명	90명

(가)

(나)

※ (가)는 절대생산비설, (나)는 비교생산비설을 적용한다.

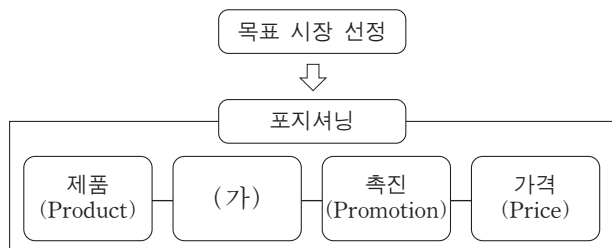
— < 보 기 > —

- ㄱ. (가)에서 특화 생산 시 A국이 B국보다 생산량이 더 많다.
 ㄴ. (나)에서 특화 생산 후 무역을 하면 A국은 B국보다 무역 이익이 더 크다.
 ㄷ. A국은 (가)에서 TV 생산에 절대 우위를, (나)에서 양복 생산에 비교 우위를 갖는다.

- ① ㄱ ② ㄷ ③ ㄱ, ㄴ
 ④ ㄴ, ㄷ ⑤ ㄱ, ㄴ, ㄷ

18. 다음은 ○○ 전자(주)의 마케팅 관리 과정 일부를 나타낸 것이다. (가)에 해당하는 방안으로 적절한 것은?

○○ 전자(주)는 매출이 전년도에 비해 감소하였다. 이에 따라 올해는 마케팅 활동을 분석하여 4P's 중 (가)의 활동을 강화하기로 결정하였다.



- ① 품질 차별화 전략을 취한다.
 ② 경품 추첨 행사를 실시한다.
 ③ 대중 매체를 활용한 홍보를 시행한다.
 ④ 점포 위치 및 효과적인 물류 관리에 대해 분석·시행한다.
 ⑤ 점포 전면에 광고물을 게시하여 구매 의욕을 불러일으키도록 한다.

- [19~20] 다음은 [경제 협정 체결 전 거래 상황]과 [경제 협정 체결 후 상황] 및 [무역 거래 조건]을 나타낸 것이다. 물음에 답하시오. (단, 제시된 자료 외에는 고려하지 않는다.)

[경제 협정 체결 전 거래 상황]

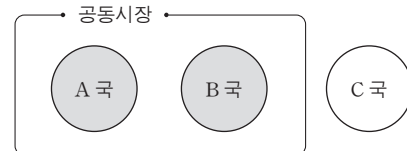
- B국과 C국은 A국의 ○○(주)로부터 반도체를 아래와 같이 수입하고 있다.

국가	수입 단가	수입 관세율
B 국	10달러/개	수입 단가의 20%
C 국	10달러/개	수입 단가의 10%

* 수입 가격은 '수입 단가 + 수입 관세'이다.

[경제 협정 체결 후 상황]

- A국과 B국은 공동시장 협정을 발효시켜 반도체 수입 관세를 완전 철폐하였다.
- A국과 B국은 C국과 경제 협정을 체결하지 않았다.



[무역 거래 조건]

- A국의 ○○(주)는 수출 환경 변화에 따라 아래와 같이 무역 거래 조건을 변경하여 수출 계약을 체결하였다.

거래 조건	변경 전	변경 후
품질 결정 시기	선적 품질 결정	선적 품질 결정
가격 조건	CFR	FAS
결제 조건	D/A	L/C (AT SIGHT)

19. 위 자료에서 [경제 협정 체결 전 거래 상황] 대비 [경제 협정 체결 후 상황]에 따라 A~C국에서 나타날 수 있는 경제 현상으로 적절한 것을 <보기>에서 고른 것은? [3점]

— < 보 기 > —

- ㄱ. A국은 B국과 함께 C국에 대해 공동관세율을 적용하게 될 것이다.
 ㄴ. B국 기업이 A국으로부터 반도체 수입 시 B국 정부의 재정 수입은 변화가 없을 것이다.
 ㄷ. B국 기업이 A국으로부터 반도체 1개 수입 시 수입 가격이 2달러 줄어들게 될 것이다.
 ㄹ. C국은 A, B국과 함께 생산 요소의 이동이 자유로워질 것이다.

- ① ㄱ, ㄴ ② ㄱ, ㄷ ③ ㄴ, ㄷ
 ④ ㄴ, ㄹ ⑤ ㄷ, ㄹ

20. 위 [무역 거래 조건]에서 변경 전 대비 변경 후 조건으로 계약 체결 시, ○○(주)가 수출할 때 수행해야 할 업무로 옳은 것은? (단, 가격 조건은 인코텀즈 2000에 의한다.) [3점]

- ① 추심 의뢰 은행에 환어음의 추심을 의뢰한다.
 ② 해상 운송 계약을 체결하고 운임을 지불한다.
 ③ 해상 운송 중 보험사고 발생 시 보험회사에 보험금 지급을 청구한다.
 ④ 물품의 수출 신고 및 수출 통관을 수입업자가 이행하도록 요청한다.
 ⑤ 일람출급 환어음과 선적 서류를 매입은행에 제시하여 수출 대금을 지급 받는다.

* 확인 사항

- 답안지의 해당란에 필요한 내용을 정확히 기입(표기)했는지 확인하시오.