

제 4 교시

직업탐구 영역 (상업경제)

성명 수험 번호

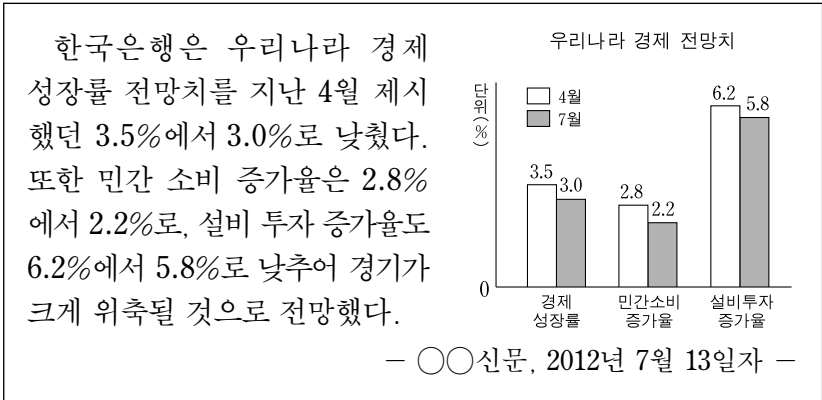
1. 다음에 나타난 환경 문제와 관련된 국제 협약으로 적절한 것을 <보기>에서 고른 것은?

선진국을 비롯한 세계 각국은 사용 가능한 화석 연료의 고갈과 화석 연료 사용에 따른 환경 문제에 직면해 있다. 기존의 에너지원은 주로 화석 연료에 의존함으로써 이산화탄소 과다 배출로 온실 가스를 증가시켜 지구 온난화 문제를 일으켰다. 이에 우리나라에서도 화석 연료를 대체할 신재생 에너지 관련 기술 개발 및 인력 확보에 힘쓰고 있다.
- 한국고용정보원, 『신성장동력, 미래의 직업 세계를 가다』 -

— <보기> —
 가. 바젤협약 나. 교토의정서
 다. 기후변화협약 르. 생물다양성협약

- ① 가, 나 ② 가, 다 ③ 나, 다
 ④ 나, 르 ⑤ 다, 르


2. 다음은 한국은행이 우리나라 경제 전망치를 예측한 것이다. 이를 토대로 한국은행이 취할 수 있는 통화신용정책으로 적절한 것을 <보기>에서 고른 것은? (단, 제시된 자료 외에는 고려하지 않는다.) [3점]



— <보기> —
 가. 국·공채를 매각한다.
 나. 기준금리를 인하한다.
 다. 시중 은행의 지급 준비율을 인상한다.
 르. 시중 은행에 대한 대출액을 증가시킨다.

- ① 가, 나 ② 가, 다 ③ 나, 다
 ④ 나, 르 ⑤ 다, 르

3. 다음은 모바일 전자 상거래와 관련된 기사이다. 이에 나타난 전자 상거래 유형으로 적절한 것은?

 20~30대를 중심으로 모바일 쇼핑을 하는 사람들, 일명 '쇼퍼족'이 늘고 있다. 이들은 모바일 결제 앱을 통해 홈쇼핑, 종합몰, 오픈마켓 등 여러 쇼핑몰 업체로 손쉽게 이동하여 본인이 직접 상품을 구매하기도 하고, 친구들에게 상품 정보를 추천하기도 한다.
- ○○신문, 2012년 8월 6일자 -

- ① B2B ② B2C ③ C2C
 ④ C2G ⑤ G2B

4. 다음은 우리나라의 ○○기업이 국제화 전략을 수립하기 위해 작성한 기업 환경 분석 자료이다. 이에 따른 국제화 전략으로 가장 적절한 것은?

<ul style="list-style-type: none"> • 해외에서 자사의 브랜드 인지도가 높다. • 제품과 관련된 특허를 다수 보유하고 있다. 	<ul style="list-style-type: none"> • 해외 현지 시장에 대한 정보가 부족하다. • 자사의 자금력 및 생산 시설이 부족하다.
<ul style="list-style-type: none"> • 자사의 기술 노하우를 이용하려는 외국 기업이 늘고 있다. 	<ul style="list-style-type: none"> • 국내 경쟁 업체와의 경쟁이 심화되고 있다.

- ① 직접 수출 ② 국제 라이선싱
 ③ 경영 관리 계약 ④ 해외 간접 투자
 ⑤ 해외 직접 투자

5. 다음 사례에 나타난 상업의 주체인 A씨에 대한 설명으로 옳은 것을 <보기>에서 고른 것은? [3점]

○○호텔의 총지배인으로 근무하고 있는 A씨는 상업계 고등학교를 졸업하자마자 ○○호텔에 취업하여 처음에는 레스토랑에서 음식을 서빙하는 일부터 시작하였다. 차츰 경력이 쌓이면서 레스토랑 뿐만 아니라 객실 및 연회 업무 등을 두루 거쳐 25년이 지난 현재 총지배인이 되었다.

— <보기> —
 가. 호텔 경영의 주체로서 자기 명의로 상행위를 한다.
 나. 영업주의 허락없이 동종의 호텔 사업을 할 수 없다.
 다. 영업주를 대신하여 대외적인 영업 업무에 종사할 수 있다.
 르. 영업주의 허락없이 타사 호텔의 지배인을 겸하여 일할 수 있다.

- ① 가, 나 ② 가, 다 ③ 나, 다
 ④ 나, 르 ⑤ 다, 르

6. 다음 내용에 해당하는 사회 보험으로 옳은 것은?



- 업무상의 사유에 따른 근로자의 질병, 부상, 장애 또는 사망 보상
- 재해 근로자와 그 가족의 생활 보장 및 안정 도모를 위한 장애 급여, 유족 급여, 간병 급여 등이 있음.

- ① 고용 보험 ② 국민 연금
- ③ 보증 보험 ④ 국민 건강 보험
- ⑤ 산업 재해 보상 보험

7. 다음 글에 나타난 상업의 기능으로 적절한 것을 <보기>에서 고른 것은?

상인의 경제 활동은 나라가 이래라 저래라 명령하고 일을 시켜서 되는 것이 아니고, 사람들이 자신의 능력에 따라 최선을 다하여 원하는 것을 얻고자 하기 때문에 일어난다. 그러므로 값이 싸면 비싸지기를 기다리고 값이 비싸지면 싸지기를 기다리며, 싼 물건은 값을 더 많이 받을 수 있는 곳으로 이동하여 매매한다.

- 사마천, 『사기』 -

— <보기> —

- ㄱ. 위험 보상 기능 ㄴ. 물적 유통 기능
- ㄷ. 자금 융통 기능 ㄹ. 소유권 이전 기능

- ① ㄱ, ㄴ ② ㄱ, ㄷ ③ ㄴ, ㄷ
- ④ ㄴ, ㄹ ⑤ ㄷ, ㄹ

8. 다음은 유통 정책과 그 사례를 나타낸 것이다. (가), (나)에 대한 설명으로 적절한 것을 <보기>에서 고른 것은? [3점]

유통 정책	사 례
(가)	A사는 자전거를 자기 회사 제품만 판매하는 대리점을 통해 판매하고 있다.
(나)	B사는 사무용 가구를 연간 판매액이 10억 원 이상인 가구점을 통해 판매하고 있다.

— <보기> —

- ㄱ. (가)는 전속적 유통 정책에 해당된다.
- ㄴ. (가)는 개방적 유통 정책보다 일정 지역 내에서 자사 제품 간의 경쟁을 막는 데 유리하다.
- ㄷ. (나)는 타사 제품의 판매를 금지하는 유통 정책에 해당된다.
- ㄹ. (가)는 편의품, (나)는 전문품을 위주로 판매하는 데 적합하다.

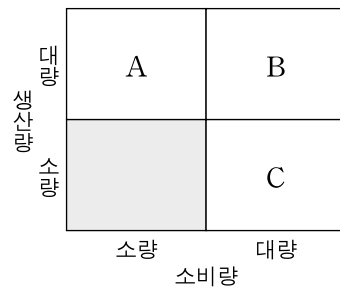
- ① ㄱ, ㄴ ② ㄱ, ㄷ ③ ㄴ, ㄷ
- ④ ㄴ, ㄹ ⑤ ㄷ, ㄹ

9. 다음은 [유통 기관의 구분]과 [유통 경로의 구분]을 나타낸 것이다. (가), (나) 유통 기관이 필요한 유통 경로를 A~C에서 고른 것은? [3점]

[유통 기관의 구분]

- (가) 생산자로부터 상품을 수집하여 중계 기관에게 판매하는 기관
- (나) 중계 기관으로부터 상품을 매입하여 소매상이나 소비자에게 분산 판매하는 기관

[유통 경로의 구분]

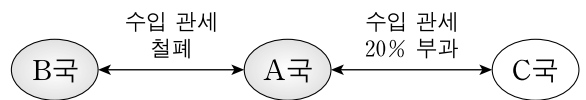


(가) (나)

- ① A B
- ② A C
- ③ B A
- ④ C A
- ⑤ C B

10. 다음은 A국의 FTA 체결 전과 체결 후를 나타낸 것이다. FTA 체결 전에 비해 체결 후 A국에서 나타날 수 있는 상황으로 적절한 것만을 <보기>에서 있는 대로 고른 것은? (단, 제시된 자료 외에는 고려하지 않는다.) [3점]

- FTA 체결 전
 - B국으로부터의 타이어 수입 단가 \$100
 - C국으로부터의 타이어 수입 단가 \$90
 - 타이어의 수입 관세는 수입 단가의 20% 부과
- FTA 체결 후
 - B국과 FTA 체결
 - B, C국으로부터의 타이어 수입 단가는 체결 전과 동일



— <보기> —

- ㄱ. A국의 수입상은 더 저렴하게 타이어를 수입할 수 있을 것이다.
- ㄴ. A국의 수입상은 C국보다 B국으로부터 타이어를 수입하는 것이 유리할 것이다.
- ㄷ. A국은 B국과 함께 C국에 대해 공동 관세율을 적용하게 될 것이다.

- ① ㄱ ② ㄷ ③ ㄱ, ㄴ
- ④ ㄴ, ㄷ ⑤ ㄱ, ㄴ, ㄷ

11. 표는 증권 시장을 통한 2012년 월별 기업 자금 조달 현황이다. 4월 대비 5월의 기업 자금 조달에 대한 설명으로 옳은 것은? (단, 제시된 자료 외에는 고려하지 않는다.) [3점]

2012년 월별 기업 자금 조달 현황 (단위: 억 원)

구분	4월	5월
조달 총액	102,971	83,114
1. 주식 발행	574	1,174
기업 공개	183	0
유상 증자	391	1,174
2. 회사채 발행	102,397	81,940

- 금융감독원(www.fss.or.kr), 「보도 자료」, 2012년 6월 -

- ① 직접 금융으로 조달한 자금액이 증가하였다.
- ② 타인 자본으로 조달한 자금액이 증가하였다.
- ③ 상장 후 자기 자본을 늘리는 방법을 통한 자금 조달액이 증가하였다.
- ④ 배당금을 지급하는 자본 증권 발행에 의한 자금 조달액이 감소하였다.
- ⑤ 원금 상환을 해야 하는 자본 증권 발행에 의한 자금 조달액이 증가하였다.

12. 다음은 [상품 생산 및 교역의 전제 조건]과 [단위당 생산 비용 및 총 생산량]을 나타낸 것이다. A, B국에 대한 설명으로 옳은 것만을 <보기>에서 있는 대로 고른 것은? (단, 제시된 자료 외에는 고려하지 않는다.) [3점]

[상품 생산 및 교역의 전제 조건]

- A국과 B국은 상품 특화 전에는 TV, 냉장고를 각각 1단위씩 생산한다.
- 양국은 비교 생산비율에 의해 상품을 특화 생산 후 1:1로 교역하기로 한다.

[단위당 생산 비용 및 총 생산량]

구분	TV	냉장고	특화 생산 후 상품 총 생산량
A국	6명	9명	15명 → 2.5단위
B국	14명	10명	24명 → (가)

<보기>

- ㄱ. A국은 냉장고, B국은 TV 생산에 비교 우위를 가진다.
- ㄴ. B국의 특화 생산 후 상품 총 생산량 (가)는 2.4단위이다.
- ㄷ. 특화 생산 후 교역을 하면 B국은 A국보다 이익이 적다.

- ① ㄱ ② ㄷ ③ ㄱ, ㄴ
- ④ ㄴ, ㄷ ⑤ ㄱ, ㄴ, ㄷ

13. 그림은 유가 증권에 관한 대화 장면이다. 답변 내용에 해당하는 유가 증권으로 옳은 것은?



- ① 주식 ② 환어음 ③ 선화증권
- ④ 약속어음 ⑤ 자기앞수표

14. 다음 기사에 나타난 산업재산권으로 옳은 것은?

A 소매점은 B사가 직영으로 운영하는 판매장이 아님에도 불구하고 간판에 B사 명칭을 표시하고 영업을 하였다. 이것은 타사의 산업재산권을 침해한 경우에 해당된다. 이에 따라 B사는 A 소매점에게 산업재산권에 대한 무단 사용 내용을 공지하였고, A 소매점은 자진해서 간판을 바꿨다.

- ○○신문, 2012년 10월 3일자 -

- ① 상표권 ② 저작권 ③ 특허권
- ④ 디자인권 ⑤ 실용실안권

15. 다음은 매매 계약서의 일부이다. 이에 대한 설명으로 옳은 것을 <보기>에서 고른 것은? (단, 가격 조건은 인코텀즈 2000에 의한다.)

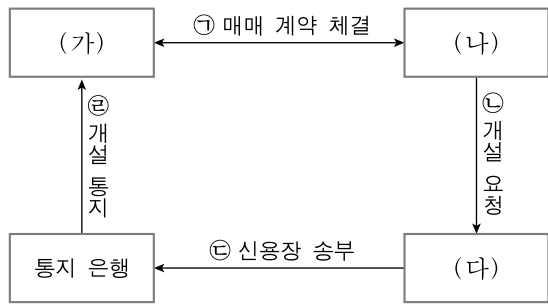
매매 계약서				
지역 코드: 024		날짜: 2012년 10월 5일		
계약 번호: 2012-10-12345				
본 계약은 A(주)와 B(주) 사이에 다음과 같이 체결한다.				
품명	수량	가격 조건	단가	대금 결제 조건
자동차	1,000 대	FOB INCHEON	US\$ 10,000/대	D/P

<보기>

- ㄱ. 상품의 선적항은 인천항이다.
- ㄴ. 대금 결제 조건은 추심 방식이다.
- ㄷ. 수량 조건은 계량 단위 조건이다.
- ㄹ. 해상 운임은 수출업자가 부담한다.

- ① ㄱ, ㄴ ② ㄱ, ㄷ ③ ㄴ, ㄷ
- ④ ㄴ, ㄹ ⑤ ㄷ, ㄹ

16. 그림은 신용장의 개설과 통지 과정을 나타낸 것이다. (가)~(다)에 해당하는 당사자에 대한 설명으로 옳은 것을 <보기>에서 고른 것은? [3점]



<보기>
 가. (가)는 대금 결제 과정에서 환어음을 발행한다.
 나. (나)는 자신 앞으로 신용장 발행을 요청한다.
 다. (다)는 수출 대금 지급을 보증한다.
 라. (다)는 (나)를 수익자로 하여 신용장을 발행한다.

- ① 가, 나 ② 가, 다 ③ 나, 다 ④ 나, 라 ⑤ 다, 라

17. 다음은 A사가 물류 정보 시스템을 도입한 사례이다. (가)에 들어갈 내용으로 가장 적절한 것은?

A사는 물류를 전문으로 하는 기업으로 화물 운송 체계와 관련된 상황을 조사한 결과, (가)의 문제점이 발견되었다. 이를 해결하기 위해서 화물 차량에 대한 위치 및 운행 상태를 실시간으로 추적·관리하여 수·배송을 효율적으로 수행할 수 있는 첨단 화물 운송 시스템을 도입하였다.

- ① 높은 공차율
 ② 과도한 보관 비용
 ③ 보관 설비 비표준화
 ④ 비효율적인 하역과 적재
 ⑤ 물류 관련 서식 비표준화

18. 다음은 조달청 홈페이지에 탑재된 공고문의 일부이다. 이를 통해 알 수 있는 경쟁 매매 방법에 대한 설명으로 옳은 것은?

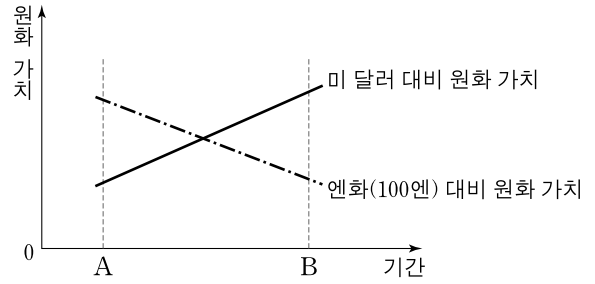
기자재 구입 공고

○○고등학교는 컴퓨터 실습실에 필요한 기자재를 구입하고자 다음과 같이 공고합니다.

공고 번호	2012-10-15호
사업명	컴퓨터 실습실 기자재 구입
사업 내용	컴퓨터 100대 구입
자격 제한	중소 기업에 한함.

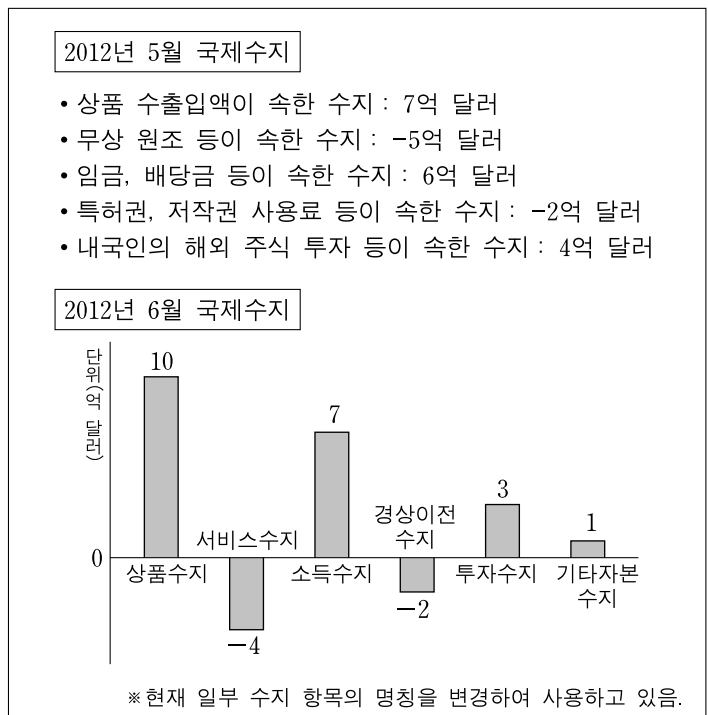
- ① 최고 가격을 제시한 업체에게 낙찰된다.
 ② 주로 구두나 손짓 등으로 가격을 결정한다.
 ③ 가격 제시 방법에는 적상법과 적하법이 있다.
 ④ 한 사람의 구매자와 다수의 판매자 간의 매매 방법이다.
 ⑤ 유가 증권 시장에서 주식을 매매할 때 사용하는 방법이다.

19. 그래프는 각국 통화 대비 원화 가치의 변동을 나타낸 것이다. A시점 대비 B시점에 대한 설명으로 옳은 것은? (단, 환율만 고려한다.) [3점]



- ① 엔화 대비 원화의 환율이 낮다.
 ② 미국에 수출하는 한국 상품의 수출 가격 경쟁력이 낮다.
 ③ 수입 대금 결제를 위해 원화를 엔화로 환전하는 것은 유리하다.
 ④ 미 달러 표시 부채를 갚기 위해 원화를 미 달러로 환전하는 것은 불리하다.
 ⑤ 보유한 미 달러로 코스닥 시장에서 주식 투자를 하려는 미국 기업은 유리하다.

20. 다음은 A국의 2012년 5월과 6월의 국제수지 현황이다. 5월 대비 6월의 국제수지에 대한 설명으로 옳은 것은? (단, 제시된 자료 외에는 고려하지 않는다.) [3점]



- ① 상품수지는 흑자 폭이 축소되었다.
 ② 소득수지는 흑자 폭이 축소되었다.
 ③ 서비스수지는 적자 폭이 축소되었다.
 ④ 경상이전수지는 적자 폭이 확대되었다.
 ⑤ 경상수지는 흑자 폭이 5억 달러 확대되었다.

* 확인 사항
 ○ 답안지의 해당란에 필요한 내용을 정확히 기입(표기)했는지 확인하십시오.