

제 4 교시

직업탐구 영역(회계원리)

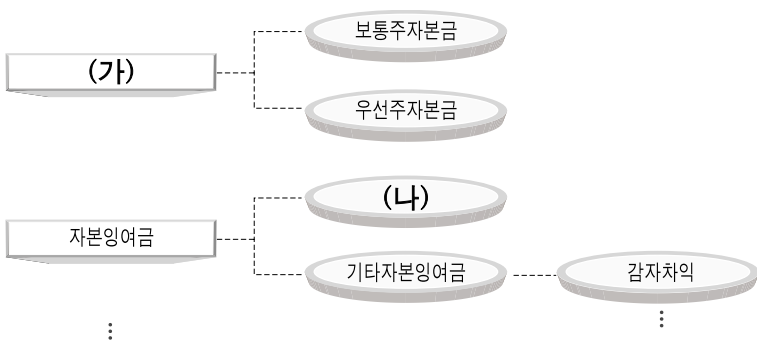
성명  수험 번호

1. 그림의 밑줄 친 내용에 관한 회계 정보를 제공하는 재무제표로 가장 적절한 것은?



- ① 대차대조표      ② 손익계산서      ③ 자본변동표
- ④ 현금흐름표      ⑤ 이익잉여금처분계산서

2. 그림은 주식회사 자본 분류의 일부를 나타낸 것이다. (가), (나)에 대한 설명으로 옳은 것을 <보기>에서 고른 것은? [3점]



\* 자본의 분류는 기업회계기준서 제21호(2006. 12. 31. 이후부터 시행)에 의한다.

<보기>  
 ㄱ. 상법 규정에 의해 적립한 법정적립금이다.  
 ㄴ. 주된 영업 활동으로부터 발생한 잉여금이다.  
 ㄷ. 1주당 액면가액에 발행 주식 수를 곱한 금액이다.  
 ㄹ. 주식의 발행가액 중 액면가액을 초과하는 금액이다.

- |   |     |     |
|---|-----|-----|
|   | (가) | (나) |
| ① | ㄱ   | ㄴ   |
| ② | ㄱ   | ㄷ   |
| ③ | ㄴ   | ㄹ   |
| ④ | ㄷ   | ㄴ   |
| ⑤ | ㄷ   | ㄹ   |

3. 다음은 외상매입금 계정의 일부를 나타낸 것이다. A에 대한 내용을 추정한 결과로 옳은 것을 <보기>에서 고른 것은?

외상매입금								
	1/ 8	매	입	10,000	1/ 1	전기이월	100,000	
A →	10	현	금	150,000	5	매	입	200,000

<보기>  
 ㄱ. 자본금이 증가한다.  
 ㄴ. 당좌자산이 감소한다.  
 ㄷ. 재고자산이 감소한다.  
 ㄹ. 유동부채가 감소한다.

- ① ㄱ, ㄴ                      ② ㄱ, ㄷ                      ③ ㄴ, ㄷ
- ④ ㄴ, ㄹ                      ⑤ ㄷ, ㄹ

4. 다음은 OO(주)의 제8기 이월상품 계정과 손익계산서 일부를 나타낸 것이다. (가)의 금액을 계산한 것으로 옳은 것은? [3점]

이월상품						
1/ 1	전기이월	20,000	12/31	매	입	20,000
12/31	매	입	30,000	"	차기이월	30,000
		50,000			50,000	

손익계산서		
OO(주)	2008년 1월 1일부터 2008년 12월 31일까지	(단위 : 원)
과 목	제8(당)기	
매 출 액	130,000	
매 출 원 가	× × ×	
기초상품재고액	× × ×	
당기상품매입액	80,000	
기말상품재고액	(× × ×)	
매 출 총 이익	(가)	

- ① ₩40,000                      ② ₩50,000                      ③ ₩60,000
- ④ ₩70,000                      ⑤ ₩80,000

5. 다음 전표에 기입된 내용의 거래를 추정할 때, 대변 거래 요소로 옳은 것은?

입 금 전 표				계	과장	부장
No. 15				수	평	기
2009년 9월 25일				승	기	인
과 목	임 대 료	거래처명	OO상 회			
적 요			금	액		
9월분 참고 대여료				5	0	0
				0	0	0
합 계			₩	5	0	0
				0	0	0

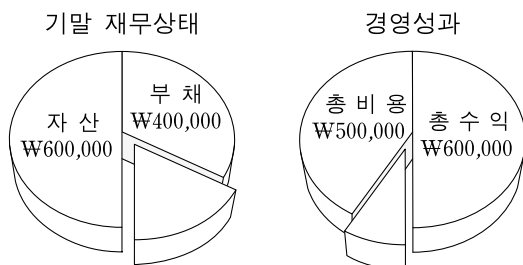
- ① 수익의 발생                      ② 비용의 발생                      ③ 자산의 감소
- ④ 부채의 증가                      ⑤ 자본의 감소

6. 그림은 회계 담당 사원을 채용하기 위한 면접 장면이다. (가), (나)에 해당하는 계정과목으로 옳은 것은?



- |         |     |
|---------|-----|
| (가)     | (나) |
| ① 미결산   | 잡비  |
| ② 미결산   | 잡손실 |
| ③ 현금과부족 | 잡비  |
| ④ 현금과부족 | 잡손실 |
| ⑤ 현금과부족 | 잡이익 |

7. 다음은 개인기업인 ○○상회의 2008년도 기말 재무상태와 경영성과 및 동 기간 관련 자료를 나타낸 것이다. 기초 자본을 계산한 것으로 옳은 것은? [3점]



동 기간 관련 자료  
• 추가 출자액 ₩50,000

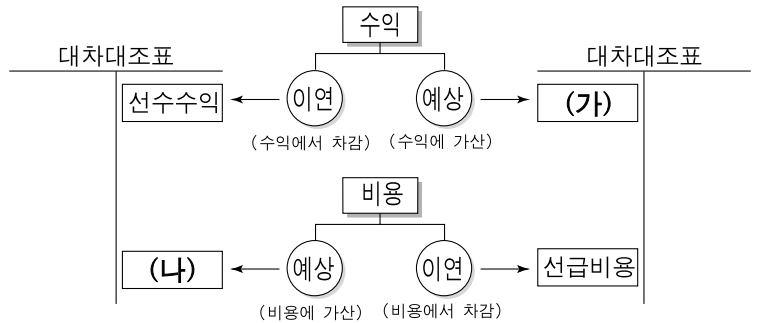
- |            |            |            |
|------------|------------|------------|
| ① ₩50,000  | ② ₩100,000 | ③ ₩150,000 |
| ④ ₩200,000 | ⑤ ₩250,000 |            |

8. 다음은 ○○기업의 연속된 거래와 분개의 일부를 나타낸 것이다. 이를 순수 계정(분기법)으로 회계 처리 시 (가)의 계정과목으로 옳은 것은?

11월 1일 △△상점에 갑상품 ₩60,000(원가 ₩40,000)을 외상으로 매출하다.  
11월 2일 △△상점에 매출한 갑상품 중 불량품이 있어 ₩2,000을 예누리해 주다.  
(차) (가) 2,000 (대) 외상매출금 2,000

- |        |          |      |
|--------|----------|------|
| ① 매입   | ② 매출     | ③ 상품 |
| ④ 매출할인 | ⑤ 상품매출이익 |      |

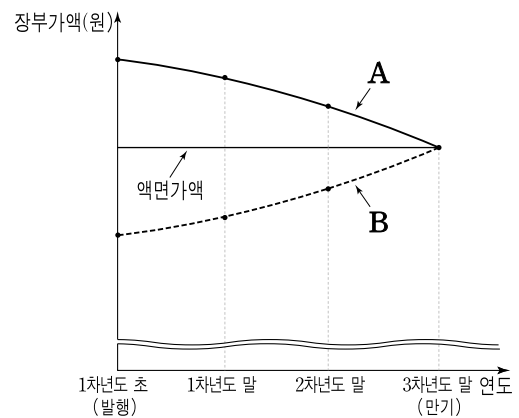
9. 다음은 손익의 결산 정리 사항을 나타낸 것이다. (가), (나)에 해당하는 것으로 옳은 것을 <보기>에서 고른 것은? (단, 비용은 지급 시 비용 계정으로 처리한다.) [3점]



<보기>  
ㄱ. 이자 선수액을 계상하다.  
ㄴ. 수수료 미수액을 계상하다.  
ㄷ. 임차료 미지급액을 계상하다.  
ㄹ. 보험료 미경과액을 계상하다.

- |   |     |     |
|---|-----|-----|
|   | (가) | (나) |
| ① | ㄱ   | ㄴ   |
| ② | ㄱ   | ㄷ   |
| ③ | ㄴ   | ㄷ   |
| ④ | ㄴ   | ㄹ   |
| ⑤ | ㄷ   | ㄹ   |

10. 그래프는 사채 발행 방법에 따른 사채의 장부가액 변동을 나타낸 것이다. A, B에 대한 설명으로 옳은 것을 <보기>에서 고른 것은? (단, 사채발행비는 없고, 제시된 자료 이외의 요인은 고려하지 않는다.) [3점]



<보기>  
ㄱ. A는 사채를 할인 발행한 것이다.  
ㄴ. B는 발행 시 액면이자율이 시장이자율보다 낮은 경우이다.  
ㄷ. A와 B의 액면가액은 동일하다.  
ㄹ. 만기 상환할 경우 A는 B보다 사채 상환 금액이 많다.

- |        |        |        |
|--------|--------|--------|
| ① ㄱ, ㄴ | ② ㄱ, ㄷ | ③ ㄴ, ㄷ |
| ④ ㄴ, ㄹ | ⑤ ㄷ, ㄹ |        |

11. 다음은 ○○(주)의 제5기 손익계산서 일부와 당기 비용의 추가 자료이다. (가)의 금액을 계산한 것으로 옳은 것은?

손익계산서

○○(주)      2008년 1월 1일부터 2008년 12월 31일까지      (단위 : 원)

과 목	제5(당)기
⋮	⋮
매출총이익	300,000
판매비와관리비	× × ×
급여	45,000
영업이익	(가)

당기 비용의 추가 자료

통신비	₩20,000	이자비용	₩15,000
여비교통비	₩10,000	광고선전비	₩5,000

- ① ₩205,000      ② ₩220,000      ③ ₩230,000  
 ④ ₩250,000      ⑤ ₩280,000

12. 다음은 ○○(주)의 투자 주식 거래와 결산 정리 사항이다. 이를 회계 처리한 내용에 대한 설명으로 옳은 것은? (단, 제시된 자료 외에는 고려하지 않는다.) [3점]

5월 4일 지배 목적이 아닌 장기 투자 수익을 얻기 위하여 △△(주)의 주식 500주를 ₩4,950,000에 구입하고, 수수료 ₩50,000을 포함하여 현금으로 지급하다.

12월 31일 결산일 현재 위 주식의 공정가액은 ₩6,000,000이다.

※ 위 거래의 회계 처리에 따른 계정 분류는 기업회계기준서 제21호(2006. 12. 31. 이후부터 시행)에 의한다.

- ① 주식 취득으로 인해 유동자산이 증가한다.  
 ② 결산 시 자본금이 ₩1,000,000 증가한다.  
 ③ 평가로 인해 영업외수익이 ₩1,000,000 증가한다.  
 ④ 평가 이익은 기타포괄손익누계액 항목으로 분류한다.  
 ⑤ 취득원가는 ₩4,950,000이며, 만기보유증권 계정으로 분류한다.

13. 다음은 ○○(주)의 약식 대차대조표 일부를 나타낸 것이다. 이에 대한 설명으로 옳은 것을 <보기>에서 고른 것은? (단, 지점은 없다.)

대차대조표

○○(주)      2008년 12월 31일 현재      (단위 : 원)

현금및현금성자산	100,000	매 입 채 무	200,000
⋮	⋮	⋮	⋮
900,000	900,000		

— < 보 기 > —

- ㄱ. 회계단위는 ○○(주)이다.  
 ㄴ. 자산 총액은 ₩900,000이다.  
 ㄷ. 수익과 비용으로 구성되어 있다.  
 ㄹ. 일정 기간의 경영성과를 나타내고 있다.

- ① ㄱ, ㄴ      ② ㄱ, ㄷ      ③ ㄴ, ㄷ  
 ④ ㄴ, ㄹ      ⑤ ㄷ, ㄹ

14. 다음은 ○○기업의 기말 상품재고장과 재고자산 관련 자료이다. A상품의 매출원가를 계산한 것으로 옳은 것은? [3점]

상 품 재 고 장

(선입선출법)      품명 : A상품      (단위 : 개)

2008년	적 요	인 수			인 도			잔 액		
		수량	단가	금액	수량	단가	금액	수량	단가	금액
12	1 전월이월	50	200	10,000				50	200	10,000
	5 매 입	100	250	25,000				{ 50	200	10,000
								{ 100	250	25,000
	8 매 출				{ 50	200	10,000			
					{ 50	250	12,500	50	250	12,500
	22 매 입	100	300	30,000				{ 50	250	12,500
								{ 100	300	30,000
	23 매 출				50	xxx	xxx	xxx	xxx	xxx
	31 차월이월				xxx	xxx	xxx			
		250		65,000	250		65,000			

※ 상품재고장은 계속기록법으로 작성하였으며, 제시된 자료 외의 A상품 거래는 없다.

기말 재고자산 관련 자료

- A상품 실제 재고 조사
- 감모수량 10개

(5개는 원가성이 있고, 5개는 원가성이 없다.)

- ① ₩32,000      ② ₩33,500      ③ ₩35,000  
 ④ ₩36,500      ⑤ ₩38,000

15. 다음은 개인기업인 ○○상회의 손익과 자본금 계정이다. 이에 대한 설명으로 옳은 것을 <보기>에서 고른 것은?

손익

12/31 매 입	1,100,000	12/31 매 출	1,500,000
⋮	⋮	⋮	⋮
12/31 자 본 금	200,000		
	2,000,000		2,000,000

자본금

12/31 차 기 이 월	1,200,000	1/ 1 전 기 이 월	1,000,000
		12/31 손 익	200,000
	1,200,000		1,200,000

— < 보 기 > —

- ㄱ. 당기의 순매출액은 ₩1,500,000이다.  
 ㄴ. 당기순이익이 ₩200,000 발생하였다.  
 ㄷ. 전기로부터 이월된 자본금은 ₩1,200,000이다.  
 ㄹ. 차기로 이월되는 자본금은 ₩1,000,000이다.

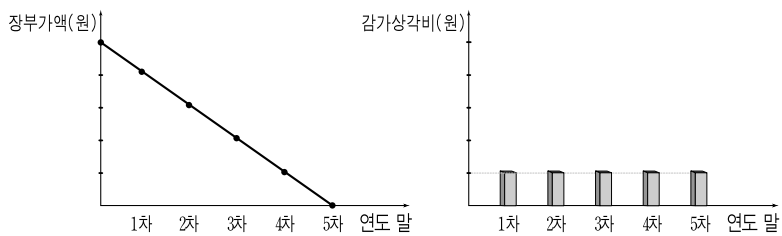
- ① ㄱ, ㄴ      ② ㄱ, ㄷ      ③ ㄴ, ㄷ  
 ④ ㄴ, ㄹ      ⑤ ㄷ, ㄹ

16. 그림은 총계정원장 마감에 대한 수업 장면이다. 선생님의 질문에 바르게 대답한 학생을 고른 것은? (단, 원장 마감은 영미식 방법에 의한다.)



- ① 영희, 철수      ② 영희, 지혜      ③ 철수, 지혜
- ④ 철수, 인호      ⑤ 지혜, 인호

17. 그래프는 ○○(주)의 업무용 건물에 대한 장부가액과 감가상각비의 연도별 추세를 나타낸 것이다. 이에 대한 설명으로 옳은 것만을 <보기>에서 있는 대로 고른 것은? (단, 감가상각비의 기장 방법은 간접법이다.) [3점]



<보기>

- ㄱ. 감가상각비의 계산 방법은 정률법이다.
- ㄴ. 건물의 장부가액은 매년 동일한 금액으로 감소한다.
- ㄷ. 건물감가상각누계액 계정의 잔액은 매년 일정하다.

- ① ㄱ                      ② ㄴ                      ③ ㄱ, ㄷ
- ④ ㄴ, ㄷ                ⑤ ㄱ, ㄴ, ㄷ

18. 그림은 개인기업인 ○○상회의 현금 지출 내역 일부를 나타낸 것이다. 이를 회계 처리한 결과에 대한 설명으로 옳은 것은? (단, 감가상각비는 고려하지 않는다.)



- ① 비용이 ₩400,000 발생한다.
- ② 자본이 ₩4,600,000 감소한다.
- ③ 투자자산이 ₩300,000 증가한다.
- ④ 당좌자산이 ₩5,100,000 감소한다.
- ⑤ 유형자산이 ₩5,000,000 증가한다.

19. 다음은 ○○(주)의 약식 대차대조표 일부와 누락된 결산 정리 사항이다. 누락 사항을 반영한 결과에 대한 설명으로 옳은 것을 <보기>에서 고른 것은? [3점]

대차대조표		
○○(주)	2008년 12월 31일 현재	(단위 : 원)
⋮	⋮	⋮
산업재산권	500,000	⋮

누락된 결산 정리 사항

- 특허권 상각(정액법 상각, 내용연수 10년, 직접법 기장) 단, 산업재산권은 전액 2008년 1월 1일 취득한 특허권이다.

<보기>

- ㄱ. 투자자산이 감소한다.
- ㄴ. 무형자산이 감소한다.
- ㄷ. 영업외비용이 증가한다.
- ㄹ. 판매비와관리비가 증가한다.

- ① ㄱ, ㄴ                      ② ㄱ, ㄷ                      ③ ㄴ, ㄷ
- ④ ㄴ, ㄹ                      ⑤ ㄷ, ㄹ

20. 다음 기사와 같은 상황에서 △△(주)의 수입 관련 자료 내용을 회계 처리한 결과에 대한 설명으로 옳은 것은? (단, 제시된 자료 외에는 고려하지 않는다.) [3점]

환율 1,100원대 진입 ...  
'하락세 내년까지 지속'

올해 5월 4일 1,274.30원이었던 환율은 지난달까지 안정적이었으나 이달 들어 떨어지기 시작해서 9월 23일 1,196.50원으로 77.80원이나 하락했다. 전문가들은 원·달러 환율 하락 추세가 내년까지 이어질 것으로 전망하고 있다.

- ○○신문, 2009년 9월 24일자 -

△△(주)의 수입 관련 자료

- 상품 수입 금액 : US \$300,000
- 수입 일자 : 2009년 5월 4일
- 수입 대금(US \$300,000) 지급일 : 2009년 9월 23일
- 결제 수단 : 미국 달러

- ① 당좌자산이 증가한다.
- ② 재고자산이 감소한다.
- ③ 영업외수익이 증가한다.
- ④ 비유동부채가 증가한다.
- ⑤ 외화환산손실이 발생한다.

\* 확인 사항

- 답안지의 해당란에 필요한 내용을 정확히 기입(표기)했는지 확인하십시오.